

1) Aşağıdaki ifadelerin altına cümle doğruysa "DOĞRU", yanlış ise "YANLIŞ" yazınız. (6x3=18p)

Dünya'ya en yakın yıldız Güneş'tir.	Ay Güneşten daha büyüktür.	Ay'ın sürekli değişik yüzünü görürüz.	Hayvanlar omurgalı ve omurgasız olarak sınıflandırılır.	Memeli hayvanlar yavrularını süt ile beslerler.	Kuşlar yumurta ile çoğalan canlılardır.

2) Aşağıdaki sözcükleri, aşağıdaki cümlelerde yer alan boşluklara uygun gelecek şekilde yazarak cümleyi tamamlayınız? (2x6=12p)


Akciğer	Küf	Dünya	Çiçeksiz bitki	Başkalaşım	Ay
---------	-----	-------	----------------	------------	----

- ..... Dünyanın uydusudur.
- Memeliler .....solunumu yaparlar.
- Ay kendi etrafında dönerken aynı zamanda da .....etrafında dolanır.
- Kurbağalar yaşam döngülerinde .....geçirirler.
- Eğrelti otu, .....örneği olarak verilebilir.
- Ortamdaki uygun nem ve sıcaklık, genellikle yiyeceklerin üzerinde .....mantarlarının çoğalmasına neden olur.

3) Aşağıda Ay'ın evreleri çizilmiştir. Bu şekillerin altına Ay'ın hangi evresi olduğunu yazınız.(3x5=15p)



4) Omurgalı hayvanlar beş gruba ayrılır. Buna göre aşağıdaki kavram haritasını doldurunuz.(2x5=10p)



5) Aşağıdaki canlıları buldukları grup ile eşleştiriniz.(2x5=10p)

(....) Şapkalı Mantar

(A)Bitkiler

(....)Eğrelti Otu

(B) Mantarlar

(....)Salyangoz

(C) Omurgalılar

(....)Yılan

(D)Omurgasızlar

(....)Aslan

(E)Sürüngenler

6) Aşağıdakilerden hangisi mikroskopik canlı değildir?(5p)

- A) Karınca
- B) Terliksi hayvan
- C) Amip
- D) Öglena



7) Aşağıdakilerden hangisi kuşlara ait yanlış bir ifadedir?(5p)

- A) Yumurta ile çoğalırlar
- B) Vücutları tüy ile kaplıdır.
- C)Yavrularına bakarlar.
- D) Başkalaşım geçirirler.

- I. Ay Güneşten aldığı ışığı yansıtır.
- II. Ay'ın kalın bir atmosferi vardır.
- III. Ay'ın şekli küreye benzer.
- IV. Ay hareket etmez.

8) Yukarıdaki ifadelerden hangileri doğrudur?(5p)

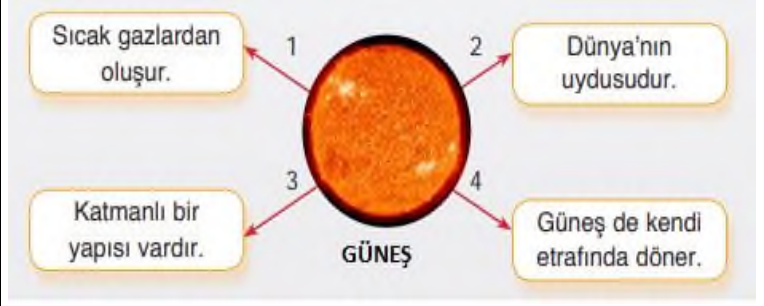
- A) I ve II
- B) I ve III
- C) I, II ve III
- D) II, III ve IV



9) Aşağıdakilerden hangisi kuşlar grubuna girmez?(5p)

- A) Yarasa
- B) Tavuk
- C) Deve kuşu
- D) Güvercin

10) Aşağıdaki şekilde numaralı oklarla gösterilen kutulardaki bilgilerden hangisi yanlıştır?(5p)



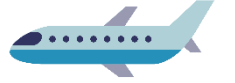
- A)1
- B)2
- C)3
- D)4

11) Futbol topu , mercimek ve nohut taneciklerinin büyüklükleri Dünya , Güneş ve Ay'ın büyüklükleri ile ilişkilendirilecektir.(5p)

Buna göre aşağıda verilenlerden hangisi doğrudur?

Futbol Topu	Nohut	Mercimek
A)Güneş	Dünya	Ay
B) Ay	Güneş	Dünya
C) Dünya	Ay	Güneş
D)Güneş	Ay	Dünya

12) Gökyüzünde çok küçük görünen uçak piste indiğinde çok daha büyük görünür.



Yukarıdaki örnek aşağıda verilenlerden hangisi açıklanırken kullanılabilir?(5p)

- A)Güneşten çok daha büyük yıldızlar olmasına rağmen gökyüzünde nokta şeklinde görünürler.
- B)Güneşe çıplak gözle bakmak göz sağlığımıza zarar verir.
- C)Farklı günlerde ayın görünümü farklı olur.
- D)Güneş ve dünya küre şeklindedir.

.....  
FEN BİLİMLERİ ÖĞRETMENİ