

Soru-1)

Aşağıda üçer tane farklı cisim verilmiştir.

Bu cisimlerin büyüklüklerini karşılaştırıp, altındaki noktalı yerlere "Güneş, Dünya, Ay" yazarak doldurunuz.





3x2P= 6 Puan

Basketbol Topu	Golf Topu	Voleybol Topu
		
<input type="text"/>	<input type="text"/>	<input type="text"/>

Soru-2)

Aşağıdaki görsellerde verilen varlıklardan hangileri canlıdır? İşaretleyiniz.

4x2P= 8 Puan

a. 	b. 	c. 	d. 
--	--	---	--

Soru-3)

Aşağıda verilen cümlelerden Doğru olanları ve Yanlış olanları ilgili kutucuklara işaretleyiniz.

7x2P= 14 Puan

	Doğru ✓	Yanlış ✗
1. Mikroskopik canlılar sadece mikroskop ile görülür.	<input type="checkbox"/>	<input type="checkbox"/>
2. Günümüzde kabul gören sınıflandırma Carlous Linnaeus tarafından yapılmıştır.	<input type="checkbox"/>	<input type="checkbox"/>
3. Canlıların sınıflandırılmasında sadece beslenme özelliği göz önünde bulundurulmuştur.	<input type="checkbox"/>	<input type="checkbox"/>
4. Mikroskopik canlılar açıkta kalan besinlerin bozulmasına neden olurlar.	<input type="checkbox"/>	<input type="checkbox"/>
5. Şapkalı mantarlar besinini kendisi üretir.	<input type="checkbox"/>	<input type="checkbox"/>
6. Parazit mantarlar çeşitli hastalıklara neden olur.	<input type="checkbox"/>	<input type="checkbox"/>
7. Sütün yoğurda dönüşmesi maya mantarlarının etkisiyle gerçekleşir.	<input type="checkbox"/>	<input type="checkbox"/>

Soru-4)



Doğada bulduğumuz şapkalı mantarları yiyecek olarak tüketmemizde bir sakınca var mıdır?

Nedenini açıklayınız.

12 Puan

Soru-5)

Aşağıda görselleri verilen hayvanların omurgalı ya da omurgasız olma durumuna göre altındaki kutucukları işaretleyiniz.

4x2P= 8 Puan

			
Omurgalı Hayvan <input type="checkbox"/>	Omurgasız Hayvan <input type="checkbox"/>	Omurgalı Hayvan <input type="checkbox"/>	Omurgasız Hayvan <input type="checkbox"/>
Omurgalı Hayvan <input type="checkbox"/>	Omurgasız Hayvan <input type="checkbox"/>	Omurgalı Hayvan <input type="checkbox"/>	Omurgasız Hayvan <input type="checkbox"/>

Soru-6)

Aşağıdaki görsellerde verilen canlılardan hangileri mikroskopik canlıdır? İşaretleyiniz.


6x2P= 12 Puan



Soru-7)

Güneş'in şekli aşağıdaki meyvelerden hangisine benzer?

10 Puan



Soru-8)

Omurga bulunduruyor mu?	Yumurta ile mi çoğalıyor?
Hayır	Evet

Bir canlı ile ilgili yukarıdaki tablo oluşturulmuştur.

Bu canlı aşağıdakilerden hangisi olabilir?

10 Puan

- A) Kelebek
B) Alabalık
C) Kumru
D) Yılan

Soru-9)

Güneş'e bakmak göz sağlığımız açısından sakıncalıdır.

Yukarıda verilen cümledeki boşluğa;

- I. çıplak gözle
II. dürbünle
III. gözlükle

10 Puan

verilenlerden hangileri yazılabilir?

- A) Yalnız I
B) I ve II
C) II ve III
D) I, II ve III

Soru-10)

Omurga bulunduruyor mu?	Yumurta ile mi çoğalıyor?
Hayır	Evet

Bir canlı ile ilgili yukarıdaki tablo oluşturulmuştur.

Bu canlı aşağıdakilerden hangisi olabilir?

10 Puan

- A) Kelebek
B) Alabalık
C) Kumru
D) Yılan