

1) Aşağıdaki ifadelerin altına cümle doğruysa "DOĞRU", yanlış ise "YANLIŞ" yazınız. (6x3=18p)


Dünya'ya en yakın yıldız Güneş'tir.	Ay Güneşten daha büyüktür.	Ay'ın sürekli değişik yüzünü görürüz.	Hayvanlar omurgalı ve omurgasız olarak sınıflandırılır.	Memeli hayvanlar yavrularını süt ile beslerler.	Kuşlar yumurta ile çoğalan canlılardır.

2) Aşağıdaki sözcükleri, aşağıdaki cümlelerde yer alan boşluklara uygun gelecek şekilde yazarak cümleyi tamamlayınız? (2x6=12p)

Akciğer	Küf	Dünya	Çiçeksiz bitki	Başkalaşım	Ay
---------	-----	-------	----------------	------------	----

- ..... Dünyanın uydusudur.
- Memeliler ..... solunumu yaparlar.
- Ay kendi etrafında dönerken aynı zamanda da ..... etrafında dolanır.
- Kurbağalar yaşam döngülerinde ..... geçirirler.
- Eğrelti otu, ..... örneği olarak verilebilir.
- Ortamdaki uygun nem ve sıcaklık, genellikle yiyeceklerin üzerinde ..... mantarlarının çoğalmasına neden olur.

3) Aşağıda Ay'ın evreleri çizilmiştir. Bu şekillerin altına Ay'ın hangi evresi olduğunu yazınız.(3x5=15p)



.....

.....

.....

.....

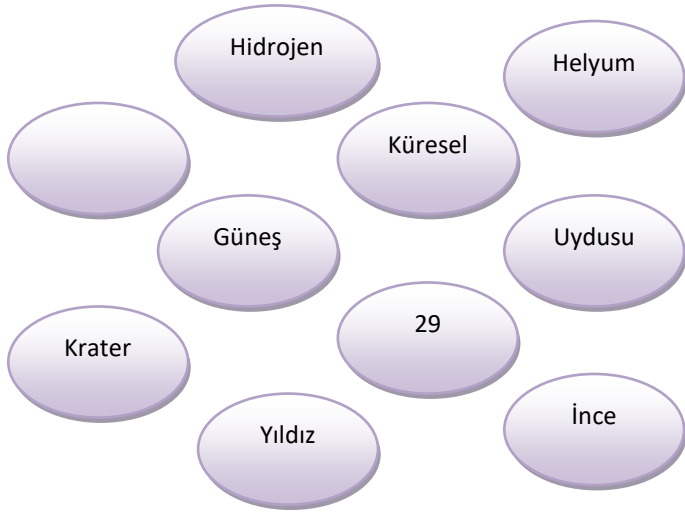
.....

4) Canlılar ile ilgili aşağıdaki tabloyu uygun olan kısma X işareti koyarak doldurunuz. 6x2=12 Puan

Canlı	Balıklar	Sürüngenler	Kuşlar	Memeliler
Yılan				
Horoz				
Yarasa				
Hamsi				
Penguen				
Balina				

**5)Aşağıdaki boşlukları yandaki uygun kavramlarla doldurunuz. 9 puan**

- a-) Dünya'mızın tek ..... Ay'dır.  
b-) Ay kendi etrafındaki dönüşünü ..... günde tamamlar.  
c-) Ay'ın atmosferi çok .....bir tabakadan oluşur.  
d-) Ay'ın yüzeyindeki çukurlara .....denir.  
f-) Ay,Dünya,Güneş .....şekle sahiptir.  
g-) Güneş .....ve.....gazlarından oluşur.  
h-) Güneş orta büyüklükte bir .....dır.  
k-) Dünya'nın ısı ve ışık kaynağı.....tir.



6)



**Dünya ve Ay ın kaç numaralı dönme hareketi yaptığını yazınız. 8 puan**

Dünya .....

Ay .....

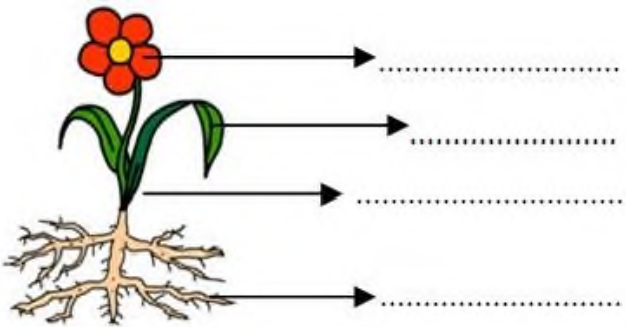
7)



**Güneş , oldukça büyük bir gök cismi olmasına rağmen neden Dünya'dan bakıldığında küçük görünür? 5puan**

.....  
.....

8) Şekildeki çiçekli bitkinin bölümlerini yazınız.8puan



9)



Deniz Şekildeki meyveleri kullanarak Güneş, Dünya ve Ay modeli yapmak istiyor. Güneş, Dünya ve Ay ı hangi meyvelerle doğru eşleştirir yazınız.5 puan

10) Doğru mu, Yanlış mı? 8puan

BİLGİLER	D / Y
Evrendeki en büyük yıldız Güneş'tir.	
Güneş, Dünya etrafında dolanma hareketi yapar.	
Güneş'in merkezindeki sıcaklık yüzeyindeki sıcaklıktan fazladır.	
Güneş ışınlarına doğrudan bakmak gözlerimiz için çok zararlıdır.	