

A-)Aşağıdaki kelimeleri kullanarak cümlelerdeki boşlukları tamamlayınız. (4*5=20 P)


Dünya	küre	katmanlar	yarasa	mantarlar	Yeni ay
-------	------	-----------	--------	-----------	---------

1. Güneş, Dünya ve Ay'ın şekli benzer.
2. Ay kendi etrafında dönerken aynı zamanda da dünya etrafında dolanır.
3. Güneşdan oluşur.
4. Ay'ın tamamen karanlık olduğu evredır.
5. Uçabilen tek memeli hayvan'dır.

B-) Aşağıdaki bilgilerin doğru olanlarına "D" yanlış olanlarına "Y" yazınız. (3*6=18 P)

- 1 •Dünya'ya en yakın yıldız Güneş'tir.
- 2 •Ay'ın sürekli değişik yüzünü görürüz.
- 3 •Güneş yüzeyinde krater adı verilen bölgeler vardır.
- 4 •Bitkiler,Güneş ışığını kullanarak besin üretirler.
- 5 •Mantarlar kendi besinini üretemeyen basit yapıli canlılardır.
- 6 •Kuşlar yumurta ile çoğalan canlılardır.

C-)AŞAĞIDA AY'IN EVRELERİ ÇİZİLMİŞTİR. BU ŞEKİLLERİN ALTINA AY'IN HANGİ EVRESİ OLDUĞUNU YAZINIZ.(12 P)



D-) AŞAĞIDAKİ CANLILARI OMURGALI VE OMURGASIZ OLANLARIN BAŞINA X KOYUNUZ. 10 P

	Omurgalı	Omurgasız
Akrep		
Aslan		
Yengeç		
İnek		
Kelebek		
Yılan		
Salyangoz		
Kartal		
Solucan		

1)




Elif, Ziya ve İlnur taşıdıkları karttaki gök cisminin büyüklüğüne göre sıraya geçeceklerdir.

Aşağıdakilerden hangisi gibi sıralanırlarsa büyükten küçüğe dizilmiş olurlar?

- A) Ziya, İlnur, Elif B) Ziya, Elif, İlnur
C) Elif, İlnur, Ziya D) Elif, Ziya, İlnur

2)



Çiçekli bir bitkinin kısımları yukarıda numaralandırılarak gösterilmiştir.

Buna göre, hangi kısım bütün bitkilerde **bulunmaz**?

- A) 4 B) 3 C) 2 D) 1

3)



Bu ifadelerden doğru olanlar için D, yanlış olanlar için Y yolu izlendiğinde hangi çıkışı ulaştır?

- A) ◆ B) ● C) ▲ D) ■

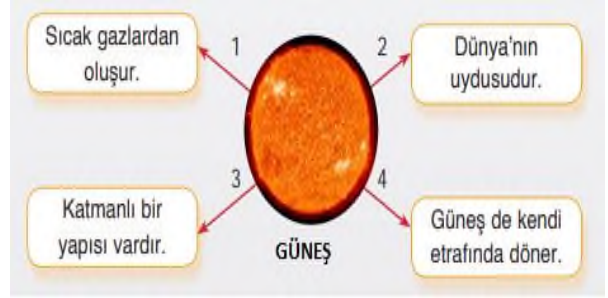
4. Niçin güneşi aydan daha küçük görürüz?

- A) Ay, Güneşten daha uzak olduğu için
B) Güneş aydan daha yakın olduğu için
C) Ay bize daha yakın olduğu için
D) Hiçbiri

5. Ay hangi evresinde dünyadan görünmez?

- A) İlk dördün
B) Dolunay
C) Yeniay
D) İkinci dördün

6) Aşağıdaki şekilde numaralı oklarla gösterilen kutulardaki bilgilerden hangisi **yanlıştır**?



- A)1 B)2
C)3 D)4

7. Hatice'nin annesi ılık sütün içine bir miktar yoğurt koyarak sıcak bir ortamda bekletiyor. Bir süre sonra Hatice'ye "Yoğurdumuz hazır." diyor.

Metinde sütün yoğurda dönüşmesini sağlayan nedir?

- A. Yoğurt
B. Ilık süt
C. Mikroskopik canlılar
D. Sıcak ortam

10) Aşağıdakilerden hangisi kuşlar grubuna girmez?

- A) Yarasa
B) Tavuk
C) Deve kuşu
D) Güvercin