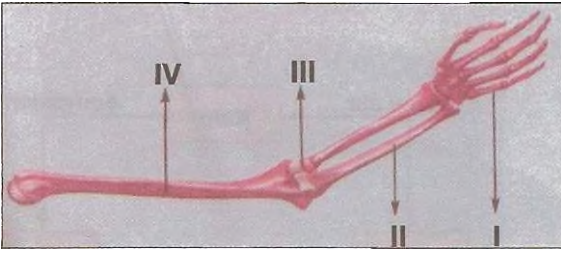


1. Aşağıdakilerden hangisi vücudumuzda bulunan kemik çeşitlerinden birisi değildir?

- A) Uzun kemik B) Kalın kemik  
C) Yassı kemik D) Kısa kemik

2.



Yukarıda verilen şekilde kol iskeletinin bölümleri yer almaktadır.

Numaralandırılmış bölümlerden hangisi eklem yerini göstermektedir?

- A) I. B) II. C) III. D) IV.

3. Aşağıdaki kemiklerden hangisi kısa kemiğe örnektir?

- A) Kol B) Kaburga  
C) Kürek D) Omurga

4. İnsan ve iskelet arasındaki ilişki aşağıda verilen örneklerden hangileri arasında görülmez?

- A) Bisiklet - bisiklet gövdesi  
B) Ağaç - çiçek  
C) Çadır - demir çubuk  
D) Bina - giriş

5. Aşağıdakilerden hangisi vücudumuzda önemli organ ve yapıları koruyan bölümlerden birisidir?

- A) Kol kemikleri B) Göğüs kafesi  
C) Bacak kemikleri D) El kemikleri

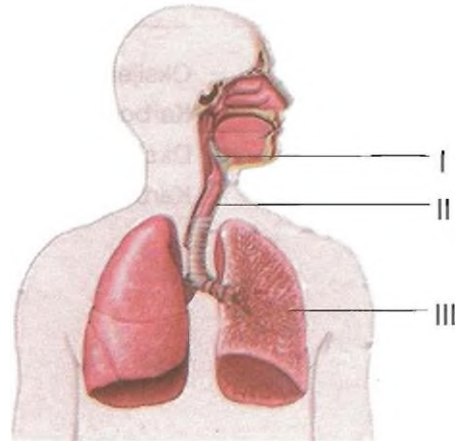
6. İskeletimizi sararak vücudumuza şekil veren ve hareketimizi sağlayan yapı aşağıdakilerden hangisidir?

- A) Eklem B) Kan  
C) Deri D) Kas

7. Omurgayla ilgili olarak aşağıda verilen bilgilerden hangisi yanlıştır?

- A) Omurga içindeki boşlukta omurilik bulunur.  
B) Uzun kemiklerden oluşmuştur.  
C) Yarı oynar eklemler bulunur.  
D) 33 adet omur kemiği vardır.

8.



Yukarıdaki şekilde numaralandırılan yapılar hangisinde doğru olarak verilmiştir?

- | I               | II           | III          |
|-----------------|--------------|--------------|
| A) Gırtlak      | Soluk borusu | Akciğerler   |
| B) Soluk borusu | Akciğerler   | Gırtlak      |
| C) Soluk borusu | Gırtlak      | Akciğerler   |
| D) Akciğerler   | Gırtlak      | Soluk borusu |

9. Soluk alıp vermeyele ilgili olarak aşağıdakilerden hangisi yanlıştır?

- A) Burundan alınan hava daha sağlıklıdır.
- B) Burun içindeki kıllar, havada bulunan toz parçacıklarını tutar.
- C) Burundan alınan hava soğuyarak akciğerlere ulaşır.
- D) Burundan alınan hava daha uzun bir yolla akciğerlere ulaşır.

10. Aşağıdakilerden hangisi soluk alıp vermede görevli yapı ve organlardan değildir?

- A) Burun
- B) Ağız
- C) Yutak
- D) Kulak

11. Soluk alıp verme sırasında burundan ..... (I) alınır, ağızdan ..... (II) verilir.


Yukarıdaki cümlede noktalı yerlere hangileri getirilmelidir?

- | I                | II            |
|------------------|---------------|
| A) Oksijen       | Oksijen       |
| B) Oksijen       | Karbondioksit |
| C) Karbondioksit | Oksijen       |
| D) Karbondioksit | Karbondioksit |

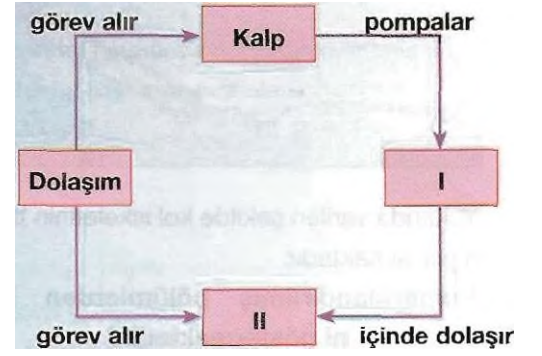
12. Soluk borusu, aşağıda verilen yapılardan hangilerinin arasında yer alır?

- A) Gırtlak ve akciğerler
- B) Yutak ve gırtlak
- C) Yutak ve burun
- D) Burun ve gırtlak

13. Aşağıdaki durumların hangisinde nabız sayımız en fazladır?



14.



Yukarıda dolaşım sistemiyle ilgili verilen kavram haritasında I ve II numaralı kutulara aşağıdakilerden hangileri getirilmelidir?

- A) Damarlar
  - B) Akciğerler
  - C) Kan
  - D) Kan
- A) Akciğerler
  - B) Karaciğer
  - C) Damarlar
  - D) Akciğerler

15. Aşağıdaki olayların hangisinde nabız sayısı daha azdır?

- A) Ders dinlerken
- B) Merdivenden çıkarken
- C) Dağa tırmanırken
- D) Tenis oynarken