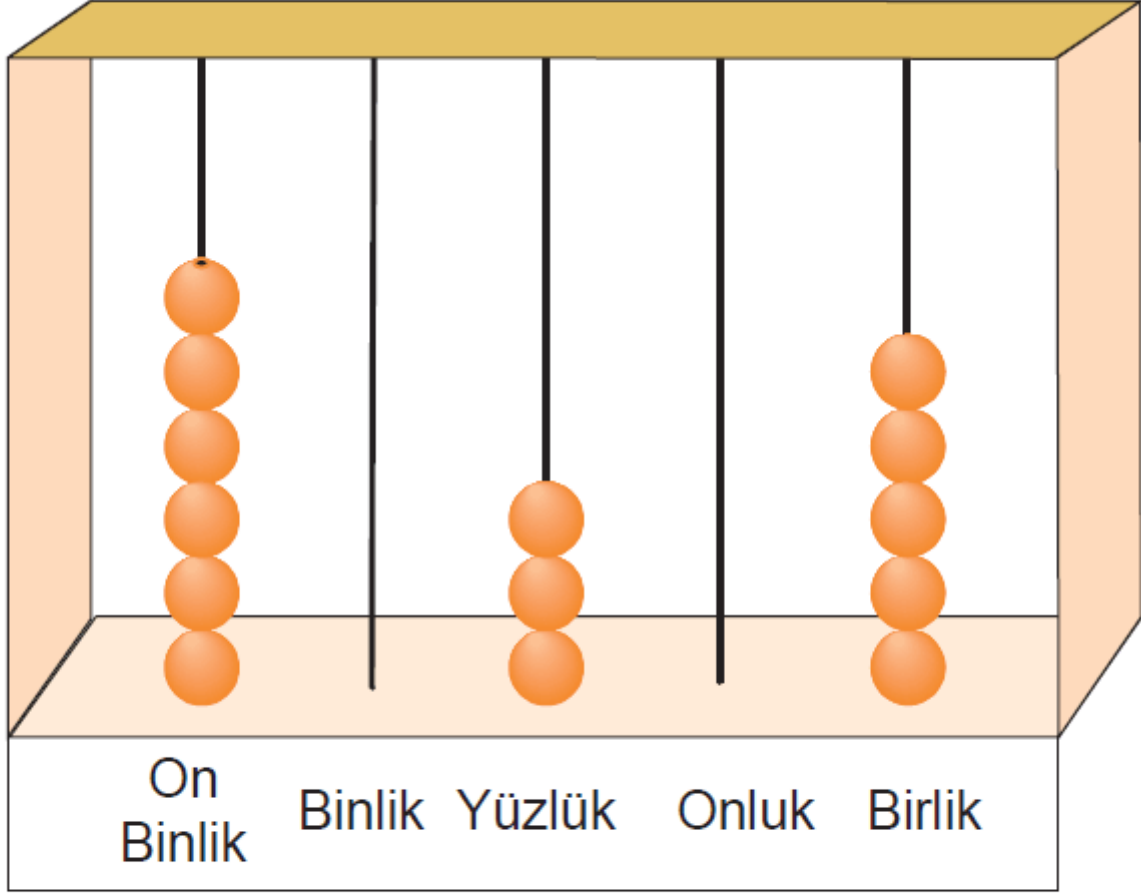


4. Sınıf Matematik 2. Ünite Değerlendirme Testi Çöz

1.




Yukarıdaki abaküste gösterilen sayının okunuşu aşağıdakilerden hangisidir?

- A) Altmış bir bin üç yüz on beş
- B) Altı yüz otuz beş
- C) Altmış bin üç yüz on beş
- D) Altmış bin üç yüz beş

Cevap :

2.



Bir markette bulunan sütün üretim tarihi 19.01.2009 ve son kullanma tarihi 10.06.2009 olduğuna göre bu sütün rafta kalma süresi ne kadardır?

(1 ay = 30 gün)

A) 4 ay 9 gün

B) 4 ay 11 gün

C) 4 ay 21 gün

D) 4 ay 29 gün

Cevap : C

3. ● $4 \times 3 \times 0 \times 7 = 84$
● $2009 \times 1 = 1 \times 2009$
● $7 \times (6 + 3) = (7 + 6) \times (7 + 3)$
● $1 \times 2 \times 3 \times 4 = 24$

Yukarıda verilen eşitliklerden kaç tanesi doğrudur?

- A) 1 B) 2 C) 3 D) 4

Cevap : B

4. **Her birinde 30 tane yumurta bulunan kolilerden 15 tane alan Hakan Bey toplam 63 TL ödediğine göre 1 adet yumurta kaç Kr'a gelmiştir?**

- A) 13 B) 14 C) 15 D) 16

Cevap : B

5. ▲, ■ ve ● birer rakamı temsil etmektedir.

$$\begin{array}{r} 734 \\ -\triangle 5 \blacksquare \\ \hline 478 \end{array} \quad (\triangle + \blacksquare) \times \bullet = 48$$

olduğuna göre ● sembolü yerine aşağıdakilerden hangisi gelmelidir?

A) 2

B) 4

C) 6

D) 8

Cevap : C

6.

$$\begin{array}{r} 3459 \\ 42a7 \\ + \quad 62 \\ \hline 7b68 \end{array}$$

olduđuna gore,

$$\begin{array}{r} ba \\ - \quad ab \\ \hline \end{array}$$

ıkarma iřleminin sonucu ařađıdaki-
lerden hangisidir?

A) 30

B) 27

C) 21

D) 18

Cevap : B

Tablo: Aylık gelen faturalar

Fatura	Tutar (TL)
Su	25
Doğalgaz	145
Elektrik	33

Yukarıdaki tabloda, Erkan Bey'in Ocak ayına ait faturaları ve bu faturalara ait tutarları gösterilmektedir.

Bu tabloya göre 7., 8. ve 9. soruları cevaplayınız.

7. Erkan Bey, Ocak ayında faturalara toplam kaç TL ödemiştir?

A) 203 B) 215 C) 220 D) 244

Cevap : A

8. Erkan Bey, Ocak ayında ödediđi elektrik faturası, su faturasından kaç TL fazladır?

A) 8

B) 9

C) 10

D) 11

Cevap : A

9. Erkan Bey, Ocak ayında doğalgaza ödediđi para, elektrik ve suya ödediđi toplam paradan kaç TL fazladır?

A) 95

B) 93

C) 90

D) 87

Cevap : A

10. Aşağıdaki tablo, bir alışveriş merkezine bir hafta boyunca gelen kişi sayısını göstermektedir.

Tablo: Alışveriş merkezine gelen kişi sayısı

Günler	P.tesi	Salı	Çarş.	Perş.	Cuma	C.tesi	Pazar
Kişi sayısı	1093	1118	1104	1219	1237	▼	2253

Bu alışveriş merkezine bir hafta boyunca gelen kişi sayısı 9929 olduğuna göre Cumartesi günü alışveriş merkezine kaç kişi gelmiştir?





- A) 1903
B) 1905
C) 1907
D) 1915

Cevap : B

11. Aşağıdaki tabloda verilen ifade doğru ise karşısına 😊, yanlış ise karşısına ☹️ çizilecektir.

Rakamları birbirinden farklı iki basamaklı en büyük doğal sayı 98 dir.	
En küçük doğal sayı 1 dir.	
İki basamaklı en küçük tek doğal sayı 13 tür.	
Rakamları birbirinden farklı üç basamaklı en küçük doğal sayı 123 tür.	

Buna göre bu tablonun boş sütununun doğru doldurulmuş şekli aşağıdakilerden hangisidir?

- A) 
- B) 
- C) 
- D) 

Cevap : B

