

## 4. Sınıf Matematik 2. Ünite Verilerle İşlemler Testi Çöz

1.

Sınıf	Doğru cevap sayısı	Yanlış cevap sayısı
4-A	24	3
4-B	28	2
4-C	26	4
4-D	21	8
4-E	29	1

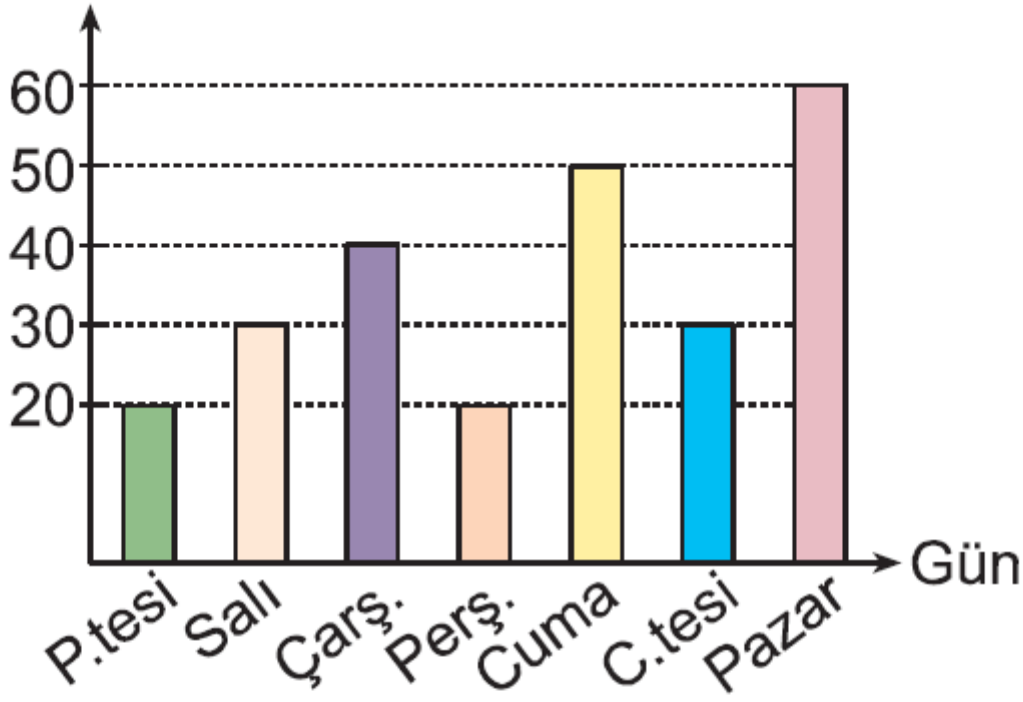
Matematik dersinde yukarıdaki tabloda bulunan beş sınıf ortak sınava alınıyor. 10 soruluk bu sınavda tüm soruları herkes cevaplamıştır. Son soruya verilen doğru ve yanlış cevap sayısı tabloda belirtilmiştir.

**Buna göre bir öğrenci tabloya bakarak aşağıdaki sorulardan hangisinin cevabını bulamaz?**

- A) Matematik ortak sınavına toplam kaç kişi girmiştir?
- B) Son soruyu doğru cevaplayanların sayısı kaçtır?
- C) Son soruya en çok yanlış cevap veren sınıf hangisidir?
- D) 4-E sınıfındaki kız öğrenci sayısı kaçtır?

Cevap :

## 2. Okunan sayfa



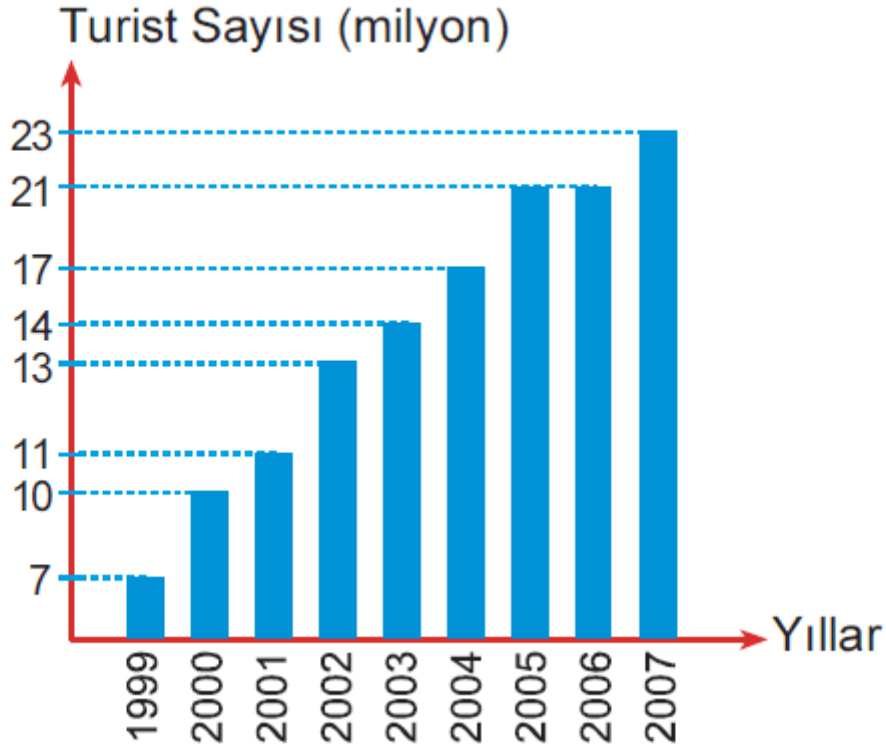
Yukarıdaki grafikte bir öğrencinin bir hafta boyunca günlere göre okuduğu sayfa sayıları gösterilmiştir.

**Buna göre aşağıdakilerden hangisi yanlıştır?**

- A) Öğrenci 1 haftada 250 sayfa kitap okumuştur.
- B) Salı ve Çarşamba günü okunan sayfa sayısı, Pazar günü okunan sayfa sayısından fazladır.
- C) Pazartesi ve Perşembe günleri aynı sayfa sayısı kadar kitap okunmuştur.
- D) Üç günde en fazla 160 sayfa kitap okunabilir.

Cevap :

## Grafik: Türkiye'ye gelen yabancı turist sayısı



Yukarıdaki grafik 1999-2007 yılları arasında Türkiye'ye gelen yabancı turist sayısını göstermektedir.

**Buna göre aşağıdaki 3. 4. soruları grafiğe göre cevaplayınız.**

**3. 2005 yılındaki yabancı turist sayısı 2000 yılındaki turist sayısından kaç fazladır?**

A) 11 milyon

B) 12 milyon

C) 13 milyon

D) 14 milyon

Cevap : A

**4. Son 5 yılda ülkemize gelen toplam yabancı turist sayısı hangi seçenekte doğru olarak verilmiştir?**

A) 64 milyon

B) 75 milyon

C) 82 milyon

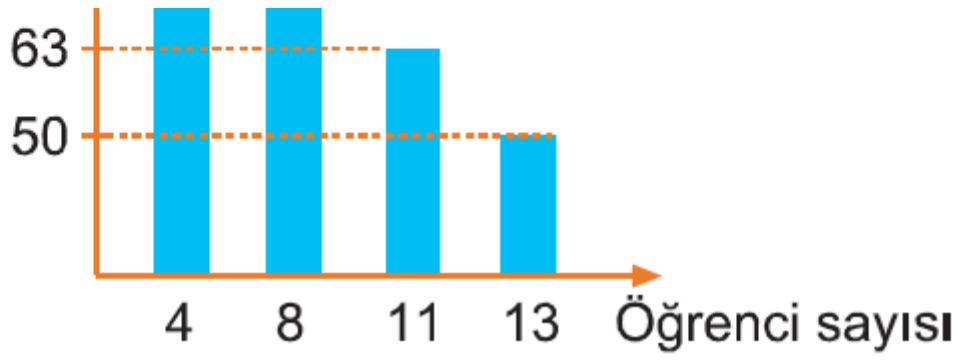
D) 96 milyon

Cevap : A

Puan	Not
0 - 44	1
45 - 54	2
55 - 69	3
70 - 84	4
85 - 100	5

Yukarıdaki tabloda derslerde alınabilecek puanların not olarak karşılığı verilmiştir.





Matematik dersinde yapılan sınav sonucunda alınan puanlar grafikte gösterilmiştir.

**Buna göre 5. ve 6. soruları tablo ve grafikten yararlanarak çözünüz.**

**5. Bu sınıfta 3 ve yukarısında not alan öğrencilerin sayısı kaçtır?**

- A) 8      B) 12      C) 23      D) 36

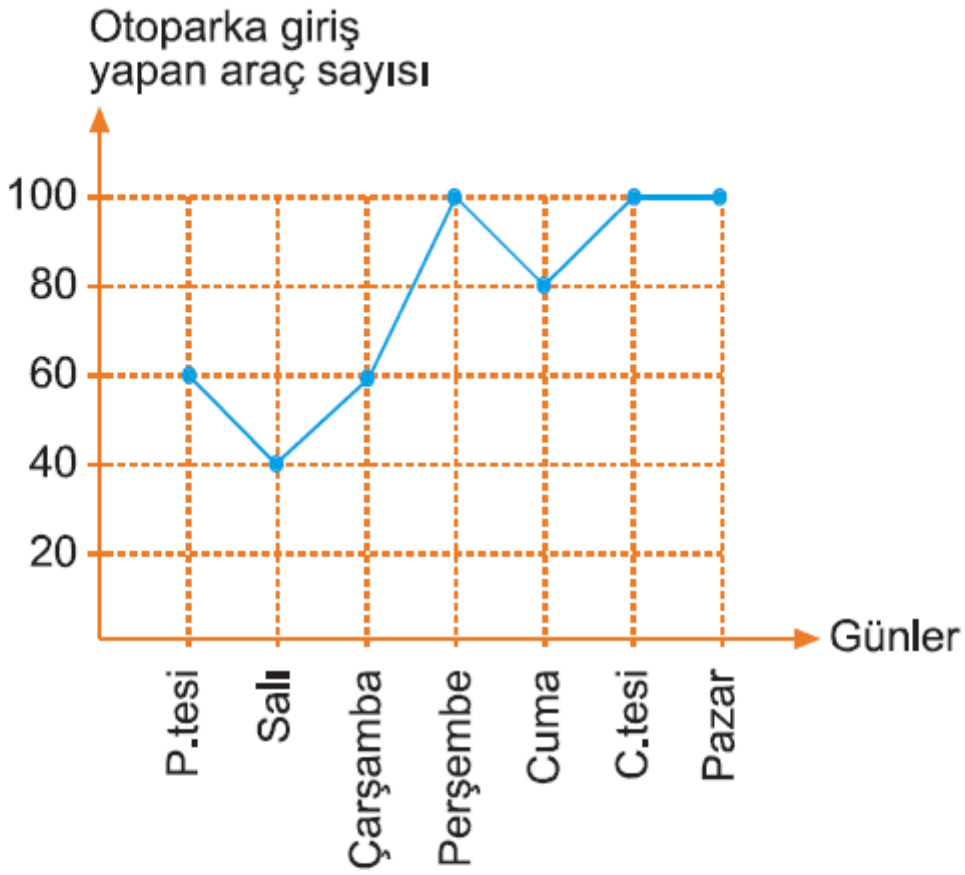
Cevap : B

**6. 45 – 69 arasında puan alan öğrencilerin sayısı 70 – 100 arasında puan alan öğrencilerin sayısından kaç fazladır?**

- A) 10      B) 12      C) 18      D) 20

Cevap : B

7.



Yukarıdaki grafik, bir otoparka 1 hafta boyunca giriş yapan araçların sayılarını göstermektedir.

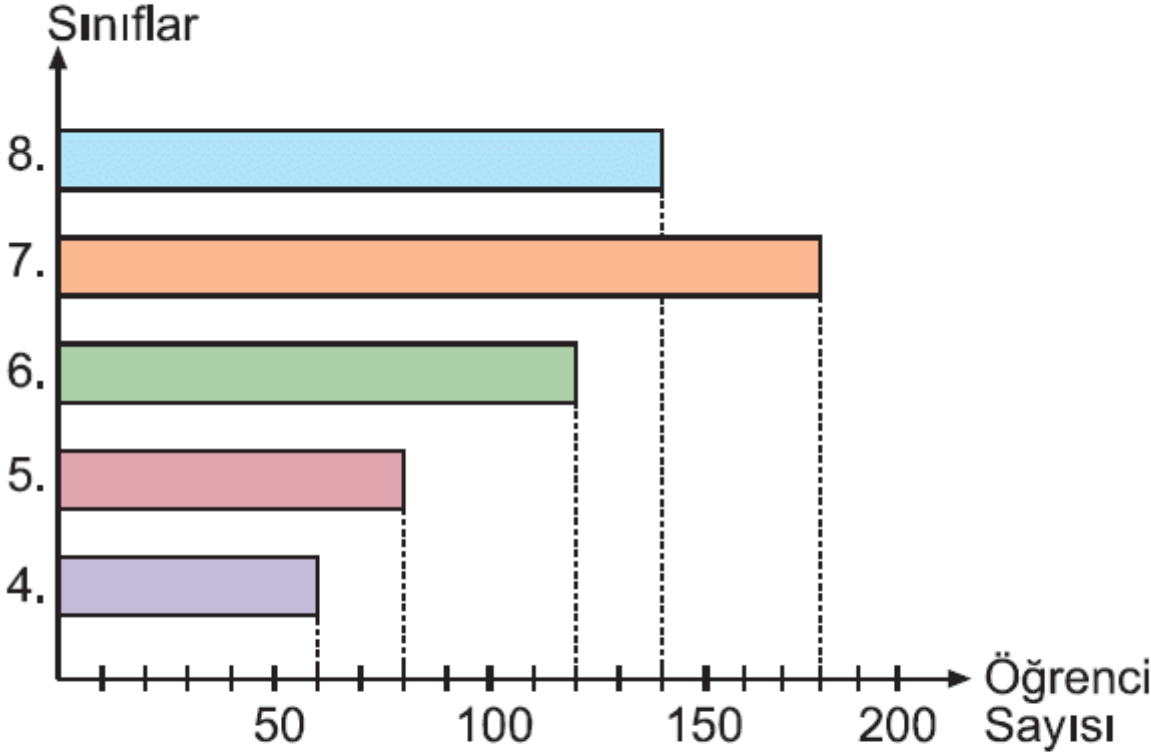
**Buna göre aşağıdakilerden hangisi yanlıştır?**

- A) Cumartesi ve Pazar günü giriş yapan araç sayısı eşittir.
- B) En az Salı günü araç girişi olmuştur.
- C) Pazartesi ve Salı günü giriş yapan toplam araç sayısı Perşembe gününden daha fazladır.
- D) 1 hafta boyunca giriş yapan toplam araç sayısı 540 tır.

Cevap : C

8. Bir okulun sınıflarına göre öğrenci sayıları aşağıdaki sütun grafiğinde verilmiştir.

**Grafik: Öğrenci sayısı**



**Buna göre, aşağıdakilerden kaç tanesi doğrudur?**

- I. 4. ve 5. sınıf öğrencilerinin sayılarının toplamı, 6. sınıf öğrencilerinin sayısına eşittir.
- II. 7. sınıf öğrencilerinin sayısı 180 dir.
- III. 4. ve 6. sınıf öğrencilerinin sayılarının toplamı, 7. sınıf öğrencilerinin sayısına eşittir.
- IV. 4. ve 5. sınıf öğrencilerinin sayılarının toplamı, 8. sınıf öğrencilerinin sayısından fazladır.

A) 4

B) 3

C) 2

D) 1



Cevap : C

**Online Test Çöz**

**Pdf İndir**