

## 4. Sınıf Sosyal Bilgiler 3. Ünite Testi Çöz

1.



Melda yönünü güneşin battığı yöne dönmüştür.

**Buna göre, Melda'nın yüzünü döndüğü yön aşağıdakilerden hangisidir?**

- A) Güney
- C) Kuzey

- B) Batı
- D) Doğu

Cevap : B

2.

$$\text{Dağ} + \text{Ova} + \text{Göl} = ?$$

**Yukarıdaki diyagramda “?” ile gösterilen yere aşağıdakilerden hangisi yazılmalıdır?**

- A) Doğal Afetler
- B) Beşeri Unsurlar
- C) Doğal Unsurlar
- D) Doğal Güzellikler

Cevap : C

3.

Dođu Anadolu'da eski karın üzerine sürekli yeni kar yağar. Ayrıca bu bölgelerde araziler eğimli ve ağaçsızdır.

**Bu durum, insanların aşağıdaki doğal afetlerden hangisine karşı hazırlıklı olmasına neden olur?**

A) Çığ

B) Deprem

C) Sel

D) Yangın

Cevap : A

4.

Ali



Merhaba, Faruk nasılsın? Güneşin doğuşunu seyrediyorum.

Faruk



İyiyim, sen nasılsın? Neler yapıyorsun? Aaaa, bizim burada güneş çoktan doğdu.

O halde, Ali'nin yaşadığı yer Faruk'un yaşadığı yere göre .....'dır.

**Telefon konuşmasından yararlanarak yukarıda verilen boşluğa aşağıdakilerden hangisi yazılmalıdır?**

- A) Batı'da  
C) Kuzey'de

- B) Doğu'da  
D) Güney'de

Cevap : A

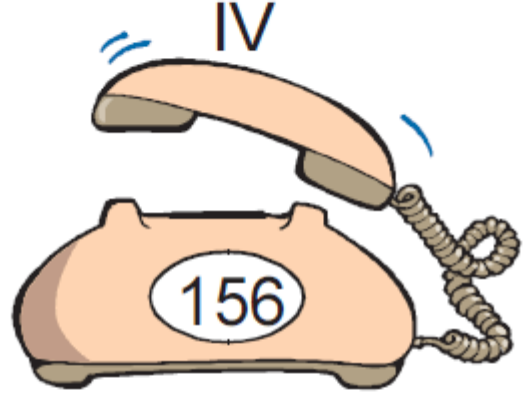
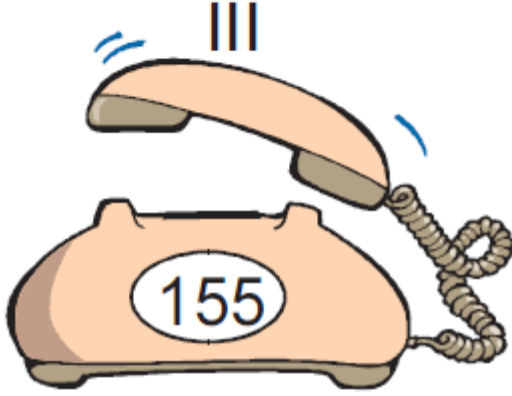
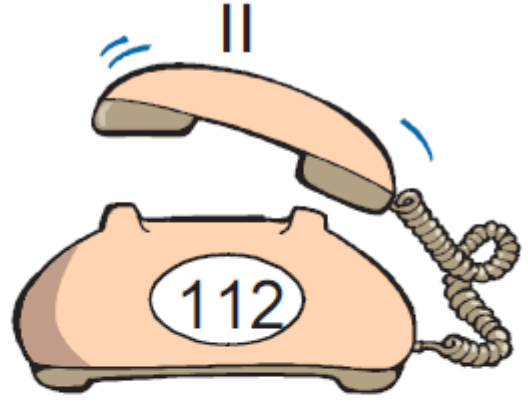
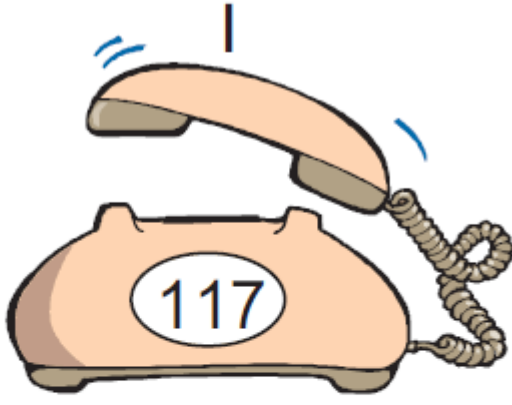
5. Aşağıdakilerden hangisi ana yönler arasında yer almaz?

A) Kuzey  
C) Doğu

B) Güney  
D) Kuzeybatı

Cevap : A

6.



**Evlerine hırsız giren bir vatandaşın polise haber vermek için yukarıdaki telefonlardan kaç numaralı olanı kullanması gerekmektedir?**

A) I

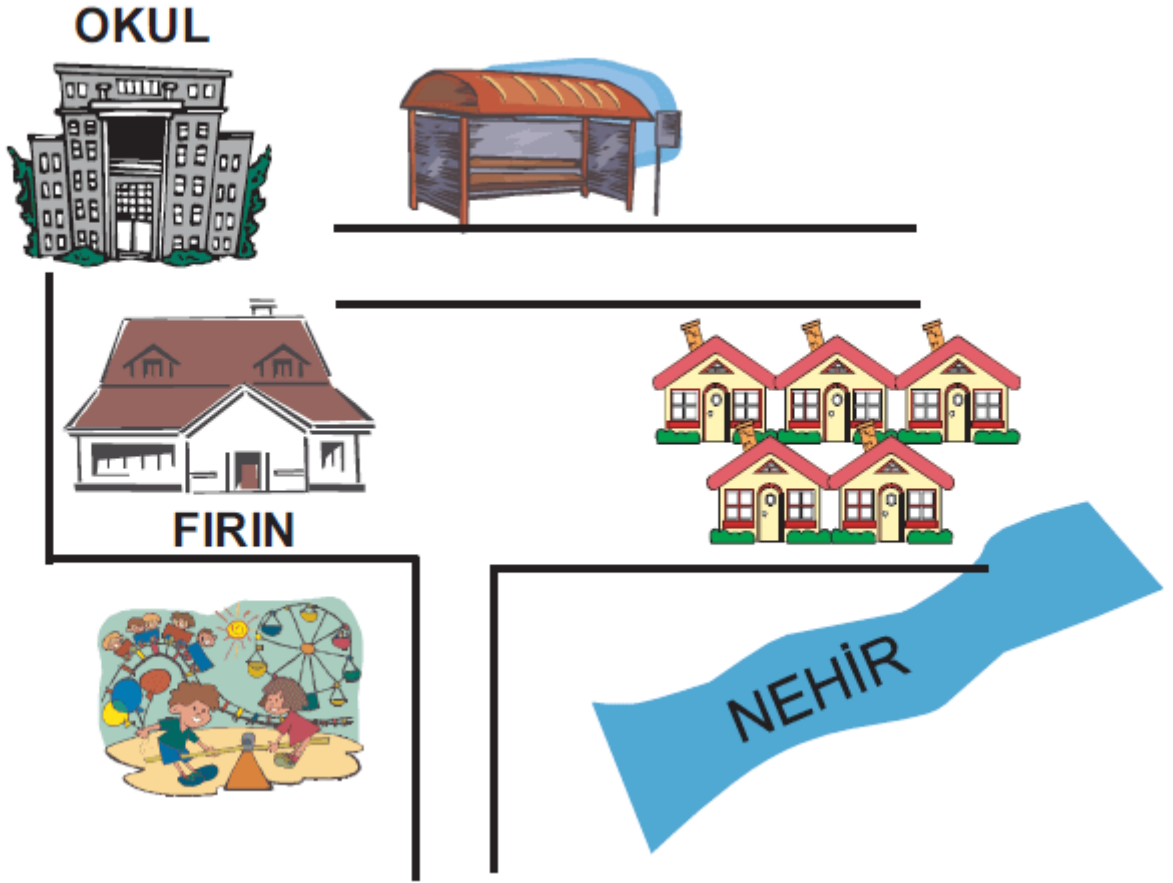
B) II

C) III

D) IV

Cevap : C

7.



**Merve'nin yukarıda çizdiği krokisinde,**  
I. Sembolleri açıklayan bölüme  
II. Küçültme oranına  
III. Şekil ve sembollere  
**hangilerine yer vermesi gerekmektedir?**

A) Yalnız I  
C) I ve III

B) I ve II  
D) II ve III

Cevap : A

8.

## ILGAZ

*Ilgaz Anadolu'nun  
Sen yüce bir dağsın.  
Baharda yeryüzünde  
O cennetin bağısın  
Yükseklerden akıyor  
Ne güzel berrak sular  
Eteklerinde otlar  
Sürüler ile kuzular*

**Buna göre, Ilgaz Dağı ile ilgili olarak aşağıdakilerden hangisine ulaşılamaz?**

- A) Doğal unsur olduğuna
- B) Akan sular ile otlar yetiştiğine
- C) Eteklerinde kuzular ile sürülerin beslendiği
- D) Marmara Bölgesi'nde yer aldığına

Cevap : A



9.



Camdan dışarıyı seyreden Zehra, dışarıda yoğun bir sis tabakasının bulunduğunu fark eder.

**Zehra'nın bu durumu resimli grafik ile anlatabilmesi için aşağıdaki sembollerden hangisini kullanması gerekir?**

A)



B)



C)




D)



Cevap : B

10.



**Yukarıdaki öğrencilerden hangisinin bahsettiği hava durumu ile ilgili olarak kullandığı resimli grafik doğrudur?**

- A) Yalnız Seda  
C) Rafet ve Elif

- B) Seda ve Rafet  
D) Elif ve Seda

Cevap : B

11. Gül, mahallesinde bulunan yapıları ve sayılarını çeşitli semboller ile ifade etmiştir.

□, □ → Fırın

△ → Eczane

○, ○ → Market

□, □, □ → Kırtasiye

**Buna göre, Gül'ün mahallesinde kaç tane kırtasiye olduğu söylenebilir?**

A) 1

B) 2

C) 3

D) 4

Cevap : C

[Online Test Çöz](#)

[Pdf İndir](#)