

4. Sınıf Sosyal Bilgiler 4. Ünite Testi Çöz

1.

Yazın tatile gitmek

Haftasonu arkadaşlarımla
tiyatroya gitmek

Yeni bir oyuncak almak



**Eda'nın yukarıdaki sözleri aşağıdaki-
lerden hangisi ile ilgilidir?**

- A) İhtiyaçları
- B) İstekleri
- C) Yetenekleri
- D) Fiziksel özellikleri

Cevap : B

2. ★ İsteklerimiz

.....
.....

■ İhtiyaçlarımız

.....
.....

Yukarıdaki boşluklara aşağıdakilerden hangisini yazarsak doğru olur?



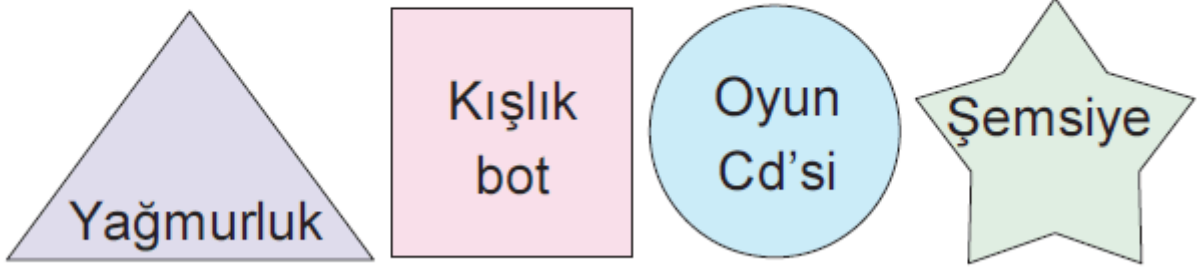
- A) Ekmek
- B) Eğitim
- C) Gezmek
- D) Ayakkabı



- Su
- Kazak
- Ekmek
- Tatile gitmek

Cevap : C

3. Canan ařağıdaki geometrik Őekillerin iine ihtiyalarını yazarak belirtmiřtir.




Buna göre, Canan'ın geometrik Őekillerden hangisinin iine yazdığı, ihtiyalarından daha ok istekleri ile ilgilidir?



Cevap : C

4.



Babamın verdiđi harçlıklardan para biriktirdim. Babam istediđim bilgisayarı alacađını söylediđi zaman kumbaramda biriktirdiđim paraların hepsini babama vereceđim.

Buna gre, Elif ile ilgili olarak ařađıdakilerden hangisine ulařılamaz?

- A) Btesinden tasarruf yaptıđına
- B) Aile btesine destek olmaya alıřtıđına
- C) Babasını zor durumda bıraktıđına
- D) İsteklerinin babası tarafından karřılandıđına

Cevap : C

5.

I
Küp şeker



II
Patates



III
Pamuk



Yukarıdakilerden hangileri işlenerek üretim aşamalarından geçmiştir?

A) Yalnız I

B) I ve II

C) I ve III

D) II ve III

Cevap : A

6.

8 Kasım 2006

Babamı sabah işe gitmeden yakaladım. Bayram için istediğim kırmızı ayakkabıları anlattım. Babamın aklına hemen ağabeyime bot alınacağı geldi. Babam; “Bu aylık harcamalarımızı planladık. Ya, sana bayram için kırmızı ayakkabı ya da ağabeyine bot alabiliriz. Seçimi ikiniz yapın.” dedi.

Buna göre, yukarıdaki aile ile ilgili olarak aşağıdakilerden hangisine ulaşamaz?

- A) Gelirlerine göre harcama yaptıklarına
- B) İstekleri ile ihtiyaçlarını ayırt ettiklerine
- C) Aylık bütçe oluşturduklarına
- D) Çocuklarının her istediklerini aldıklarına

Cevap : A

7. I. Ürün etiketi
II. Fiş
III. TSE damgası
IV. Ambalaj

Alışveriş yapan Emine Hanım ürün alırken yukarıdakilerden hangisine bakmak zorunda değildir?

- A) I B) II C) III D) IV

Cevap : A

8.



Alışverişe çıkmadan önce kendime mutlaka ihtiyaçlarım doğrultusunda bir liste yaparım. Aldığım ürünlerin de son kullanma tarihine, TSE damgası olup olmadığına mutlaka bakarım.

Buna göre, Funda Hanım ile ilgili olarak,

- I. Bilinçli bir tüketici olduğuna
- II. Alışverişlerinde fiş almadığına
- III. Garanti Belgesi olan ürünleri tercih edeceğine

çıkarımlarından hangilerine ulaşılabilir?

A) Yalnız I

B) I ve III

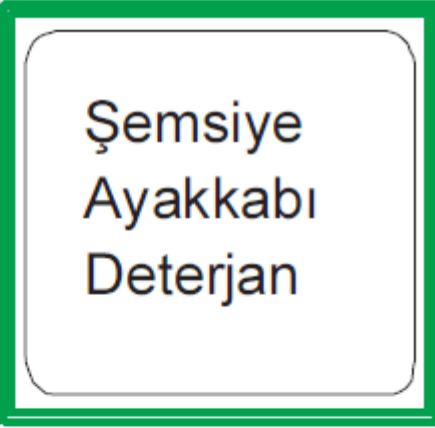
C) II ve III

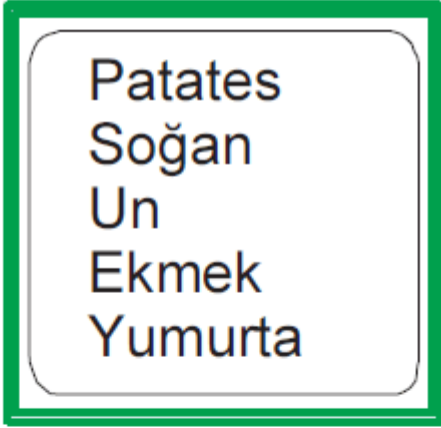
D) I, II ve III


Cevap : B

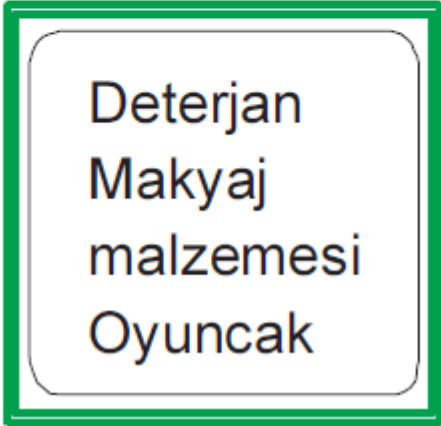
9. Ali Bey alışverişe çıkmadan önce eşi Reyhan Hanım'dan evin beslenme ihtiyaçlarını içeren bir alış-veriş listesi hazırlamasını ister.

Buna göre, Reyhan Hanım'ın hazırladığı alış-veriş listesi aşağıdakilerden hangisidir?

A)  Şemsiye
Ayakkabı
Deterjan

B)  Patates
Soğan
Un
Ekmek
Yumurta

C)  Ütü
Kazak
Pantolon
Parfüm

D)  Deterjan
Makyaj malzemesi
Oyuncak

Cevap : B

10.

Okul kantininden
üzerindeki üretim ve
son kullanma tarihine
bakarak aldığınız
bisküvi bayat çıktı.



Böyle bir durum karşısında yapmanız gereken davranış aşağıdakilerden hangisidir?

- A) Bisküviyi çöpe atmak
- B) Bisküviyi yemeğe devam etmek
- C) Bisküviyi kantinciye geri iade etmek
- D) Bisküviyi arkadaşlarımıza hediye etmek

Cevap : C

11.



Buğday



Pamuk



Patates

Yukarıdaki tarım ürünlerinden hangileri temel ihtiyaçlarımızın karşılanabilmesi için üretim, dağıtım ve tüketim aşamalarından geçmektedir?

- A) Buğday, Pamuk, Patates
- B) Yalnız Pamuk
- C) Pamuk, Patates
- D) Buğday, Pamuk

Cevap : C

12.



Bizler olmazsak insanlarımız, sađlık hizmetlerinden yararlanamaz. Hastalar tedavi edilemez ve bir çok inan tedavi edilemediđi için ölmek zorunda kalır. Bu da insan neslinin devamının tehlikeye girmesi demektir.

Yukarıda gerekliliđinden bahsedilen meslek dalı ařađıdakilerden hangisidir?

A) Doktor
C) Polis

B) Öđretmen
D) Mimar

Cevap : A

[Online Test Çöz](#)

[Pdf İndir](#)