

4. Sınıf Sosyal Bilgiler 5. Ünite Testi Çöz

1.

I	112	Acil Sağlık Yardımı
II	110	Polis
III	156	Jandarma
IV	177	Orman Yangını

Yukarıdaki tabloda önemli telefon numaraları ve yardım isteyeceğimiz kurum eşleştirilmiştir.

Hangi numara ile gösterilen eşleştirme yanlıştır?

A) I

B) II

C) III

D) IV

Cevap : B

2. Rasathanelerinde arařtırmalar yapmıřlar, tarihte ilk olarak yılı ve günü birimlere bölmüřler, zamanı ölçmeye başlamıřlardır.

Yukarıdaki gelişmeleri yapan ilk uygarlık aşağıdakilerden hangisidir?

A) Hititler

B) Mısırlılar

C) Sümerler

D) Babiller

Cevap : C

3. “....., daha önce bulunmayan bir şeyin ortaya çıkarılmasına denir. Bu işi yapanı ise denir.”

Yukarıdaki bilgilerde boş bırakılan alana aşağıdakilerden hangisinin sırasıyla yazılması doğru olur?

A) teknoloji – icat

B) mucit – icat

C) bilgi – bilgisayar

D) icat – mucit

Cevap : C

4.

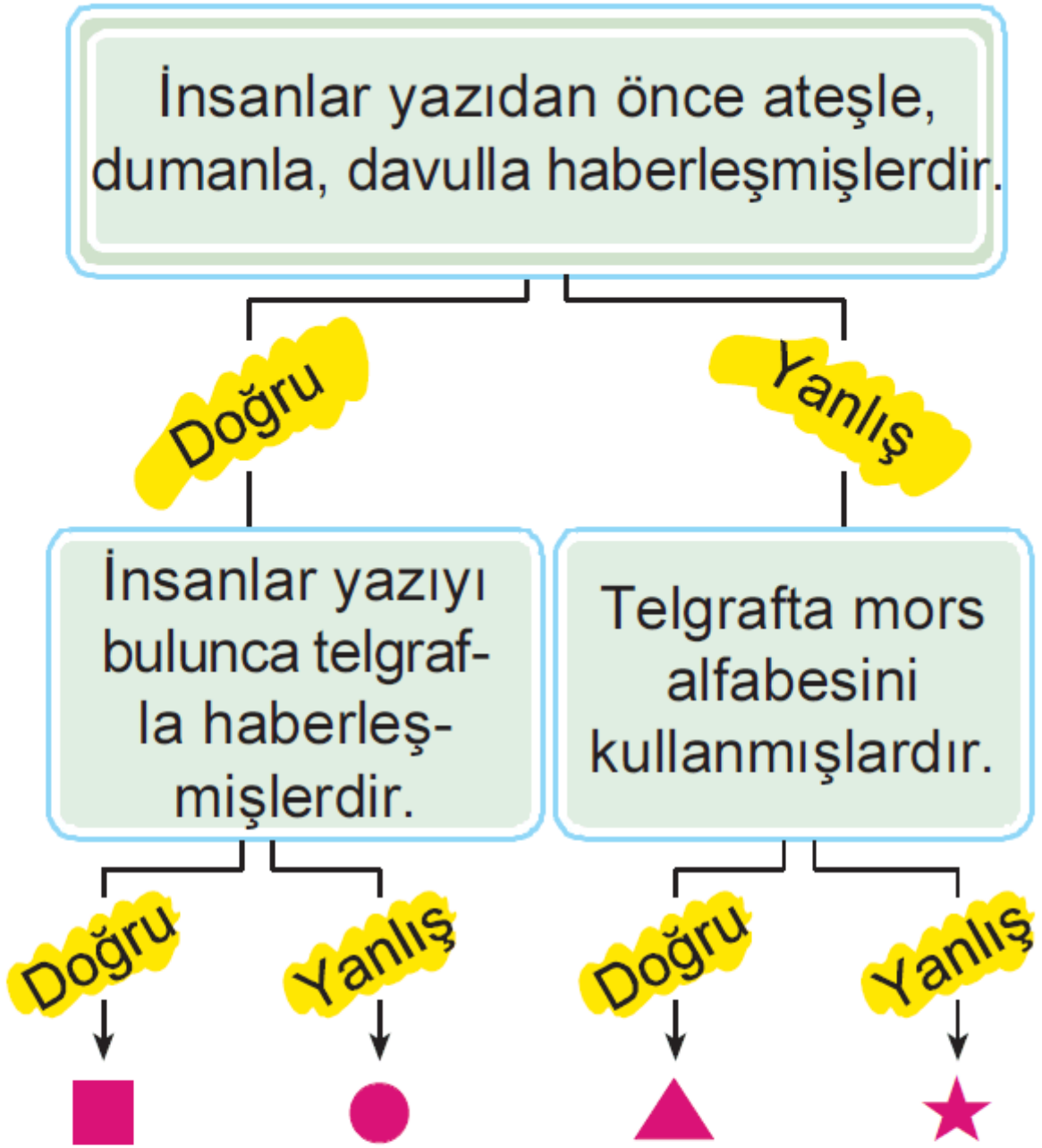
I	Buluşlar insan ihtiyaçları ve merak sayesinde olmuştur.
II	İcatlar belli bir birikim sonucunda bugünkü halini almıştır.
III	Bütün icatlar Çinliler tarafından gerçekleştirilmiştir.

Yukarıdaki bilgilerin yanına doğru ise “😊”, yanlış ise “☹️” işareti koyduğumuzda aşağıdakilerden hangisi doğru olur?

	I	II	III
A)	😊	😊	☹️
B)	😊	😊	😊
C)	☹️	😊	😊
D)	😊	☹️	😊

Cevap : A

5.



Yukarıdaki diyagramın doğru veya yanlış olduğuna karar vererek ilerlediğimizde hangi sembole ulaşırız?

A) ■

B) ●

C) ▲

D) ★

Cevap : A


6. I. 1879 yılında Thomas Edison
..... geliştirmiştir.
- II. 156 nolu hat imdat hattıdır.

Yukarıdaki boşluklara aşağıdakilerden hangisi yazılırsa doğru olur?

- | <u>I</u> | <u>II</u> |
|----------------------|---------------|
| A) Telefonu | Orman yangını |
| B) Elektrikli ampulü | Jandarma |
| C) Arabayı | Asker |
| D) Telgrafı | Polis |

Cevap : B

7.



Yukarıdaki baloncu her birinde önemli telefon numaralarının yazılı olduğu balonları satmaktadır.

Buna göre, acil sağlık yardımı numarasının yazılı olduğu balonu isteyen çocuğa hangi renk balonu vermelidir?

A) Pembe

B) Mavi

C) Sarı

D) Beyaz

Cevap : C

8.



Yukarıdaki sınıfta öğretmenin sorduğu soruya hangi öğrenci yanlış cevap vermiştir?

A) Aslı

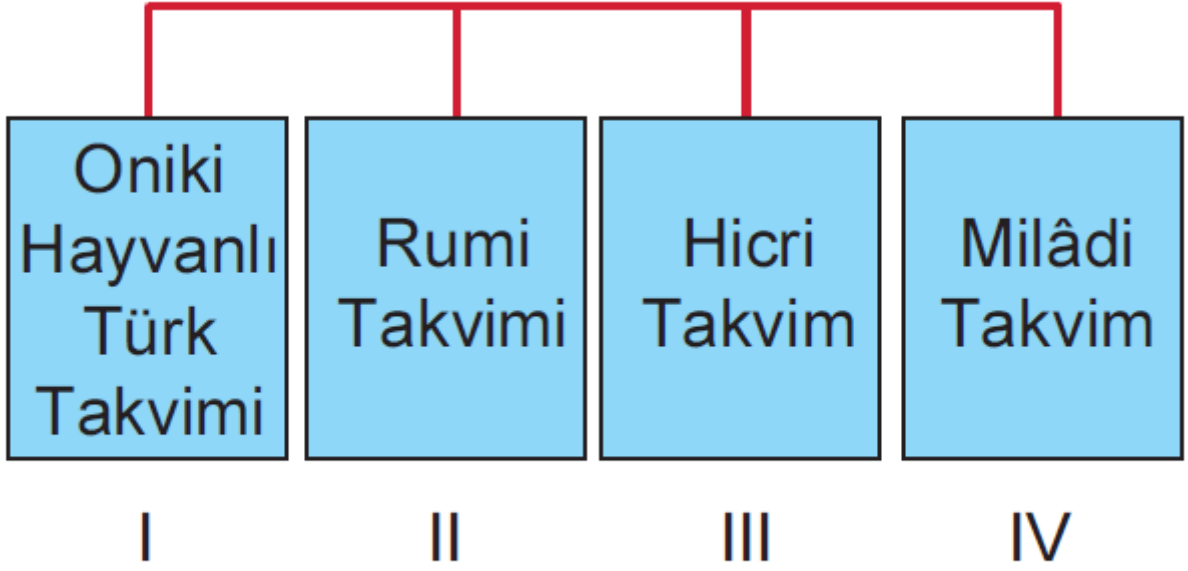
B) Can

C) Merve

D) Murat

Cevap : A

9.



Yukarıdaki şemada Türklerin tarih boyunca kullandıkları takvim çeşitleri yazılmıştır.

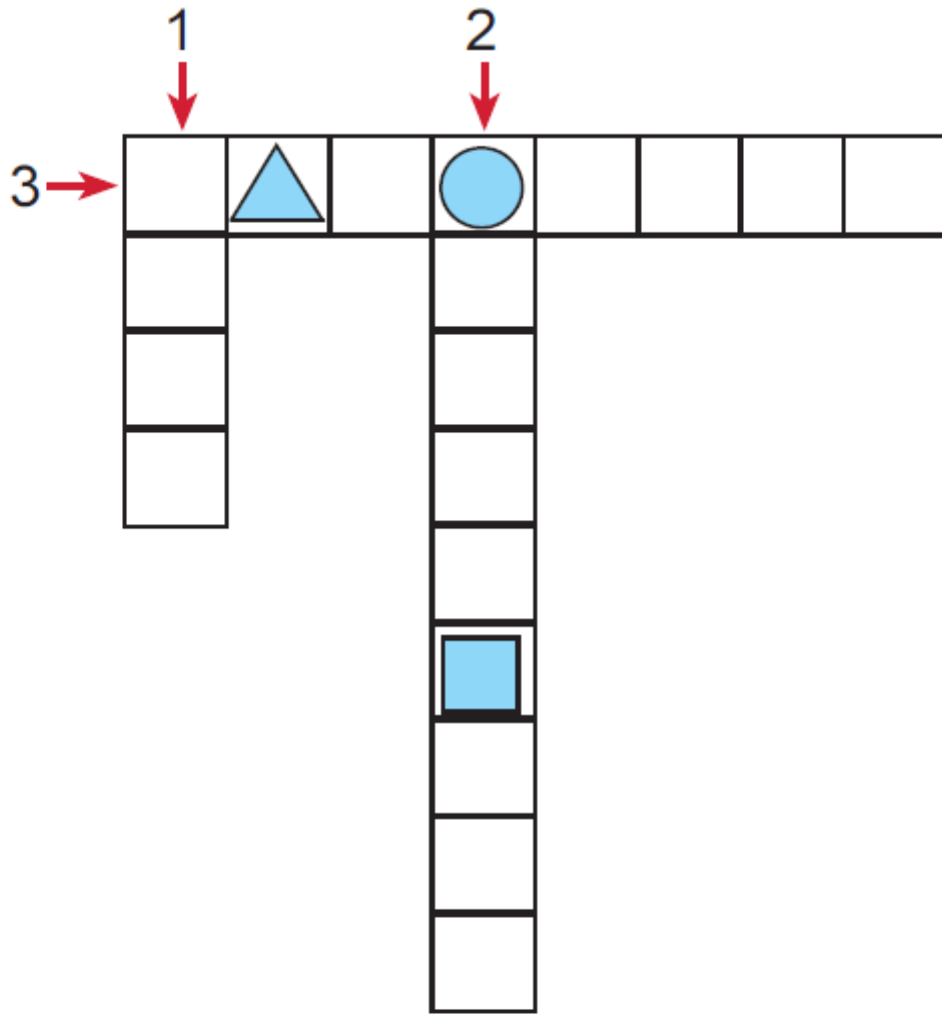
Buna göre, hangi rakamla gösterilen kutuda Türklerin ilk kullandıkları takvim yazmaktadır?

- A) I B) II C) III D) IV

Cevap : A

10. 1. Buluş, yeni birşey meydana getirme.
2. Bir sanayi dalı ile ilgili yapım yöntemlerini, kullanılan araç, gereç ve aletleri kapsayan bilgi.
3. Duygu, düşünce veya bilgilerin akla gelebilecek her türlü yolla başkaları-

na aktarılması, haberleşme.



Yukarıdaki bulmacada sorular doğru cevaplandırıldığında sembollere denk gelen harfler aşağıdakilerden hangisi olur?

	△	○	□
A)	T	L	L
B)	L	T	L
C)	E	O	L
D)	C	F	T



Cevap : B

[Online Test Çöz](#)

[Pdf İndir](#)