

4. Sınıf Sosyal Bilgiler 6. Ünite Testi Çöz

1.



Keşke bu adada yalnız kalmasaydım. İşbirliği yapacağım insanlar olsaydı. Böyle tek başıma bu ıssız adada yaşayamam ki.

Yukarıdaki bilgiden hareketle aşağıdakilerden hangisine ulaşamaz?

- A) İnsanların ihtiyaçlarını tek başına karşılamakta zorlandığına
- B) Bütün insanların birbirlerine muhtaç olduklarına
- C) Tek başına yaşayan insanların daha mutlu olduğuna
- D) İnsanların birlikte yaşamak zorunda olduklarına

Cevap : C

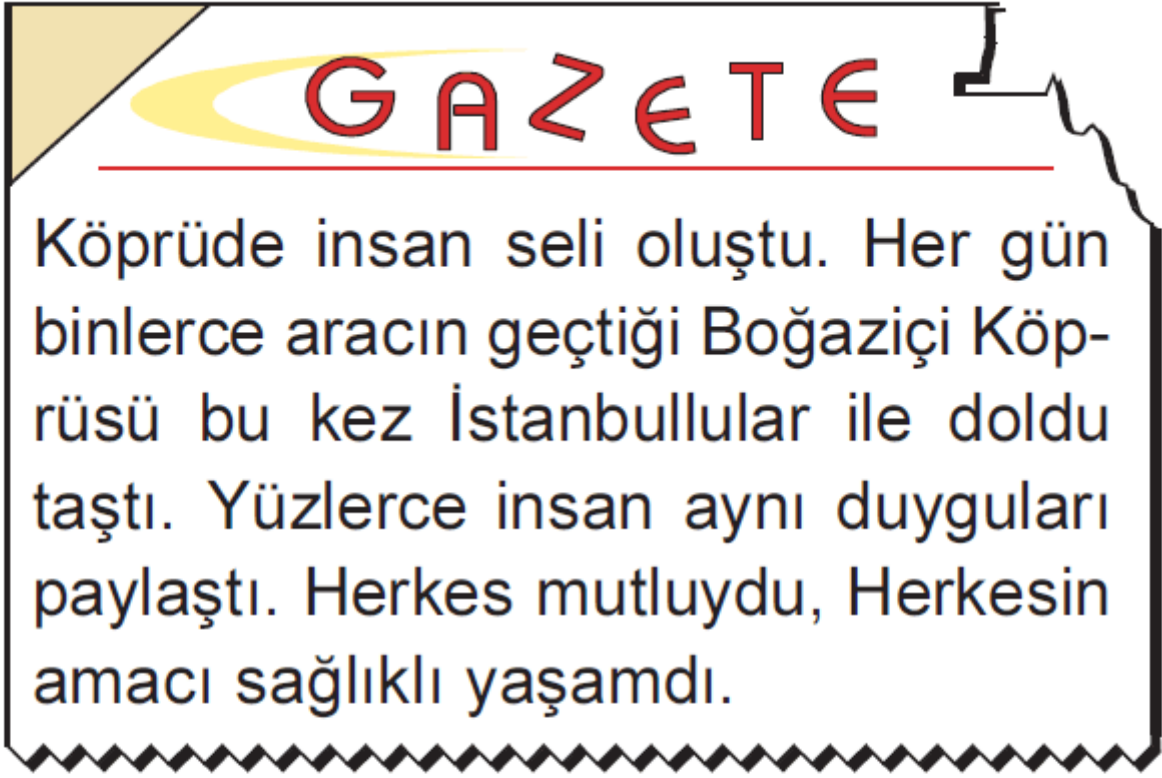
2. İşbirliđi; insanların, ortak yaşamın gerektirdiđi işleri aralarında bölüşerek yapmak için bir araya gelmesi demektir.

Buna göre, aşağıdaki çalışmalardan hangisi yapılırken işbirliğine ihtiyaç duyulmaz?

- A) Kermes düzenlenirken
- B) Ev temizlenirken
- C) Kampanyalar oluşturulurken
- D) Ödev yaparken

Cevap : C

3.



Yukarıdaki gazete haberinde yer alan insanların aşağıdakilerden hangisine örnek oluşturduğu söylenebilir?

A) Grup

B) Vakıf

C) Kurum

D) Örgüt

Cevap : A

4. Aşağıdaki sosyal örgütlerden hangisinin kurulma amacı diğerlerinden farklıdır?

A)



B)



C)



D)



Cevap : A

5.



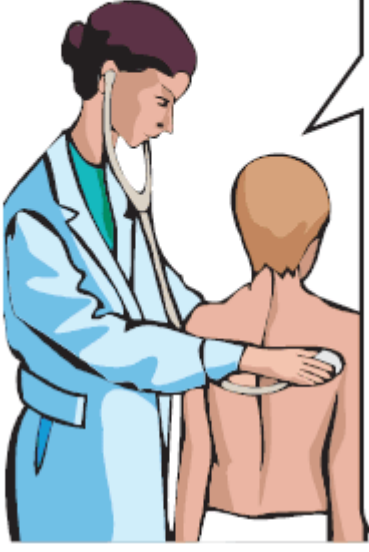
Yukarıdaki çocukların aşağıdaki sivil toplum örgütlerinden hangisinin çalışmasına katıldığı söylenebilir?

- A) Tema
C) Yeşilay

- B) Kızılay
D) Akut

Cevap : A

6.



1 haftadır çok hastayım. Okula da gidemedim. Annem beni evimizin arka sokağında bulunan bir yere götürdü. Orada doktorlar vardı. Beni muayene ettiler ve ilaç verdiler. İlaçlarımı kullanmaya başlayınca kendime geldim. Şimdi daha iyiyim.

Buna göre, yukarıdaki çocuğun aşağıdaki resmi kurumlardan hangisine gittiği söylenebilir?

A) Okul

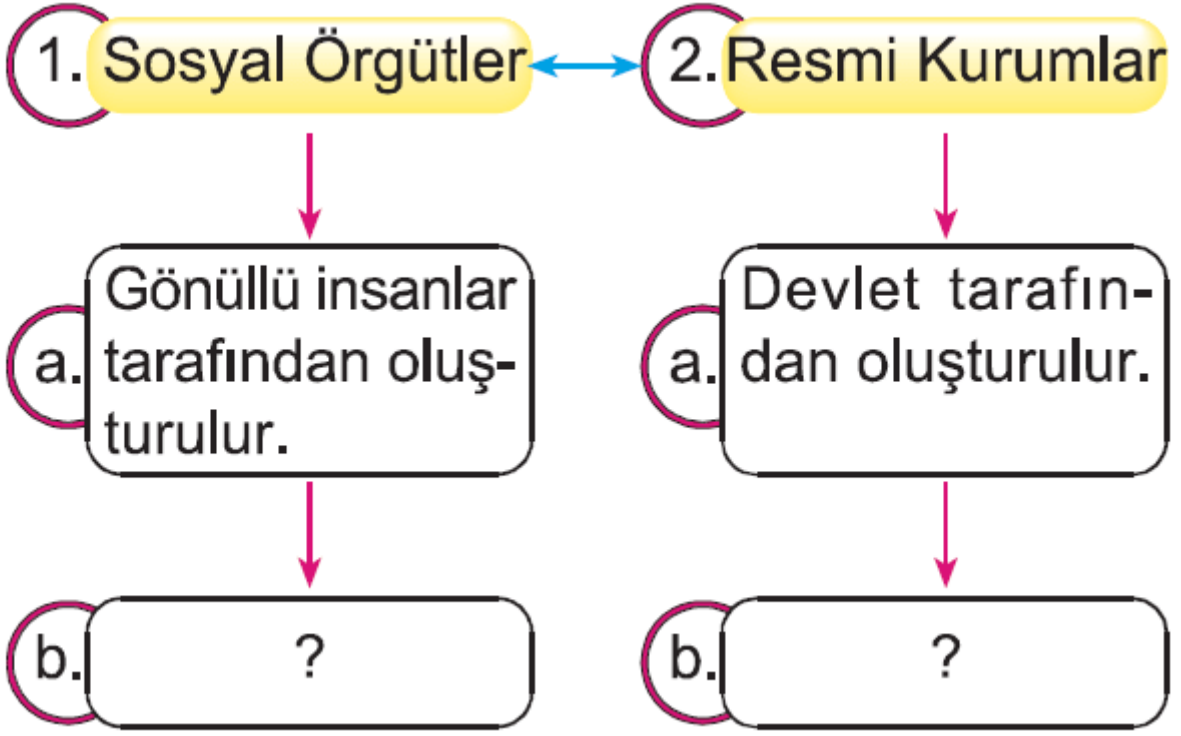
B) Postahane

C) Sağlık Ocağı

D) Karakol

Cevap : C

7.



Buna göre yukarıda “?” ile gösterilen yerlere aşağıdakilerden hangisi yazılmalıdır?

- | | <u>1.b</u> | <u>2.b</u> |
|----|------------|------------|
| A) | Adliye | Karakol |
| B) | Kızılay | Yeşilay |
| C) | Akut | Okul |
| D) | TEMA | Kızılay |

Cevap : C

8. Vatandaşların, can ve mal güvenliklerinin sağlanması devletin görevidir. Devlet bu görevini yerine getirebilmek için bazı kurumlar oluşturmuştur.

Aşağıdakilerden hangisi devletin yukarıdaki amaç doğrultusunda oluşturduğu kurumlardan biridir?

- A) Milli Eğitim Müdürlüğü
- B) Emniyet Müdürlüğü
- C) Valilik
- D) Belediye Başkanlığı

Cevap : B

9.

Sosyal Faaliyetlere Katılarak,

- Yeni durum ve ortamlara uyum sağlayabilirim.
-

Yukarıdaki tabloya yazılacak maddeler arasında aşağıdakilerden hangisi yer almaz?

- A) Sosyal ilişkilerimde anlayışlı ve ölçülü olabilirim.
- B) Kendimi geliştirme imkanı bulabilirim.
- C) Hoşça vakit geçirerek yeni arkadaşlıklar kurabilirim.
- D) Derslerimi çalışacak vakit bulamayabilirim.

Cevap : B

10.



Yeni gelen kitapları kitaplık defterine kayıt ettim. Ancak, bazı kitaplar hala eksik. Bunları bir an önce bulmam gerekiyor.

Buna göre, yukarıdaki öğrencinin aşağıdaki eğitsel kulüplerden hangisinde çalışmalar yaptığı söylenebilir?

- A) Resim Kulübü
- B) Kütüphane Kulübü
- C) Sivil Savunma Kulübü
- D) Kızılay Kulübü

Cevap : B

11.

Devletin topluma hizmet amacıyla kurduđu yerlere denir.

Yukarıdaki boşluđa aşağıdakilerden hangisi yazılmalıdır?

A) Resmi Kurum
C) Eğitsel Kulüp

B) Sosyal Örgüt
D) Kamuoyu

Cevap : A

12.



Yukarıdaki öğrencinin çalışmaları aşağıdaki eğitsel kulüplerden hangisi ile ilişkilendirilebilir?

- A) Bilim ve Fen Teknoloji Kulübü
- B) Engelliler ile Dayanışma Kulübü
- C) Trafik Güvenliği ve İlk Yardım Kulübü
- D) İnsan Hakları ve Yurtaşlık Kulübü

Cevap : C

[Online Test Çöz](#)

[Pdf İndir](#)