


4. Sınıf Fen Bilimleri 7. Ünite Testi Çöz

1.



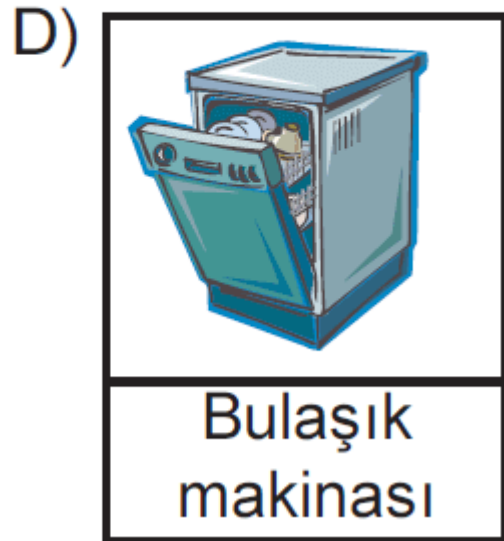
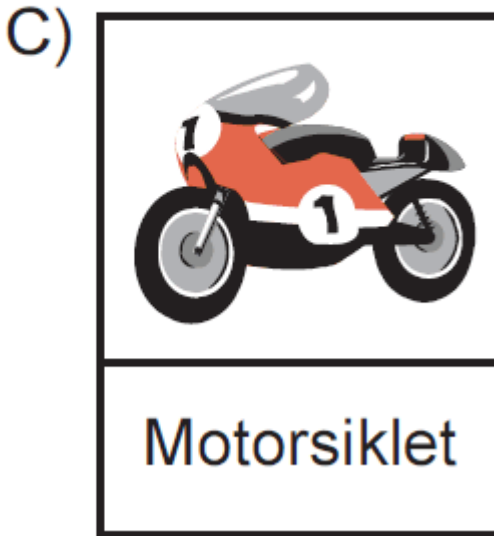
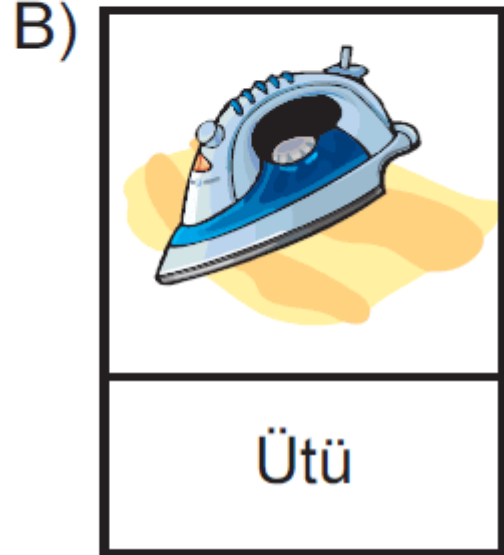
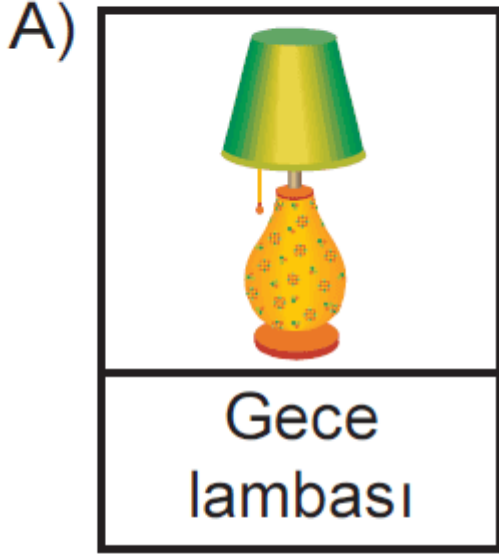
Resimde gösterilen odadaki eşyalardan hangisi şehir cereyanı ile çalışmaz?

- A) Televizyon
- C) Klima

- B) Bilgisayar
- D) El feneri

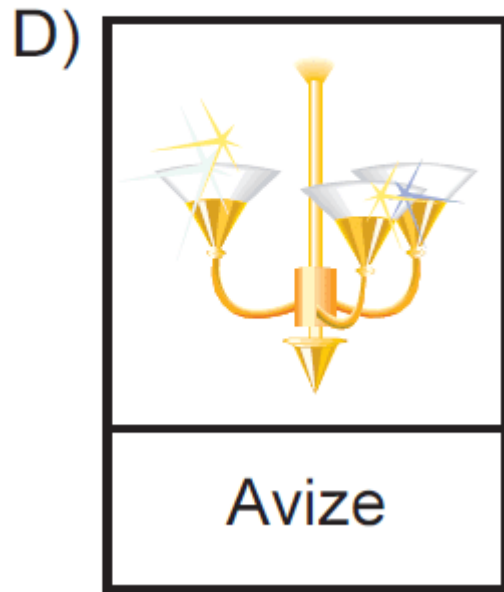
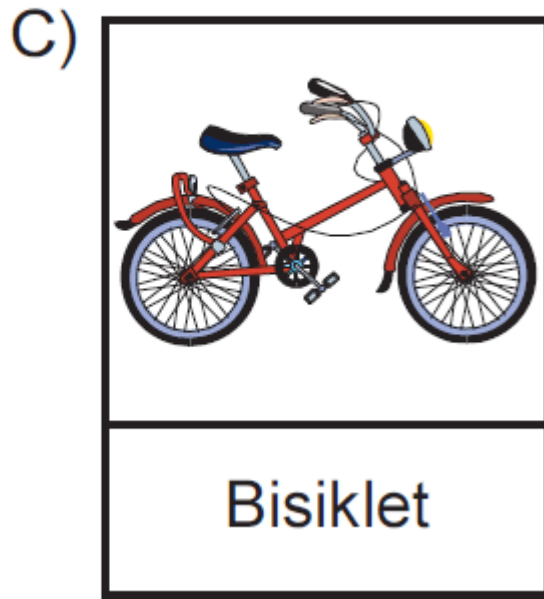
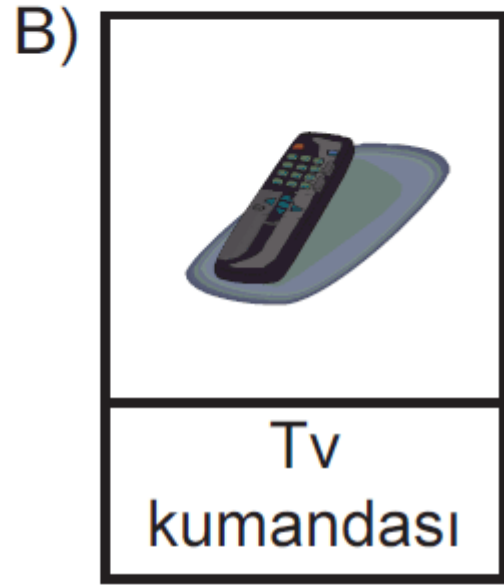
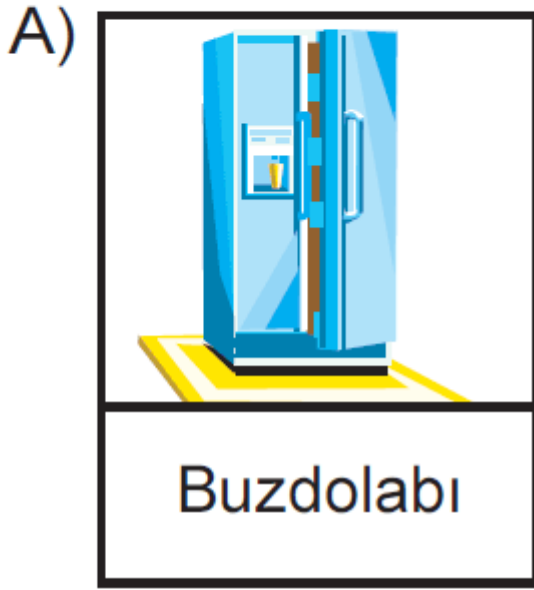
Cevap :

2. Aşağıda verilen araçların hangisi elektrik ihtiyacını aküden karşılar?



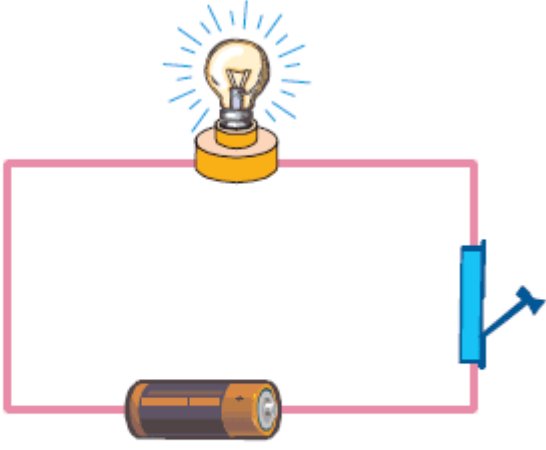
Cevap : C

3. Aşağıda verilen araçlardan hangisi pil ile çalışır?



Cevap : B

4.



Şekilde basit bir elektrik devresi gösterilmiştir.

Buna göre, devredeki anahtar kapatıldığında aşağıda verilen olaylardan hangisi meydana gelmez?

- A) Devredeki tel ısınır.
- B) Lamba yanmaya başlar.
- C) Pil küçülmeye başlar.
- D) Devreden elektrik enerjisi geçer.

Cevap : C

5. Aşağıda verilen bilgilerden hangisi yanlıştır?

- A) Kablosu zedelenmiş ve soyulmuş fişleri kullanmak tehlikelidir.
- B) Elektriğe kapılmış birini hemen elinizle ittirmeliyiz.
- C) Islak zeminlerde terlik giyerek elektrikli araçları kullanmalıyız.
- D) Elektrik prizlerine çatal gibi araçlar sokmamalıyız.

Cevap : B

6. I. El feneri
II. Otomobil
III. Tost makinası




Yukarıda verilen elektrikli araçları çalıştıran kaynaklar sırasıyla aşağıdakilerden hangisidir?

- A) Pil - Akü - Şehir cereyanı
B) Pil - Şehir cereyanı - Akü
C) Şehir cereyanı - Akü - Pil
D) Akü - Pil - Şehir cereyanı




Cevap : A



7.

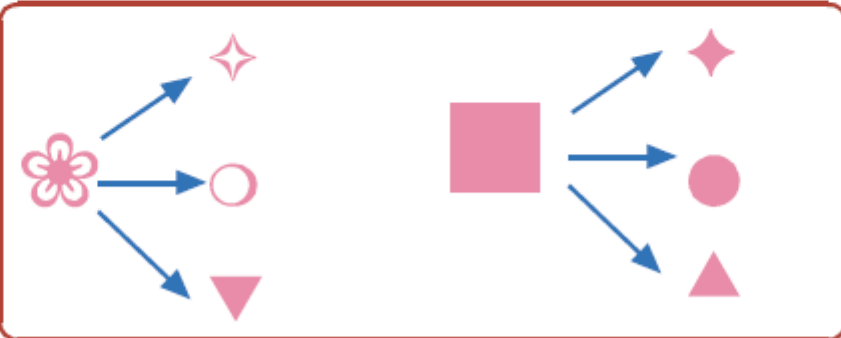
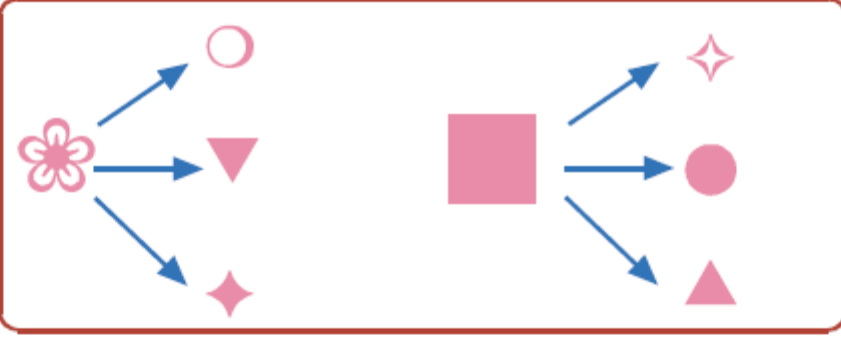
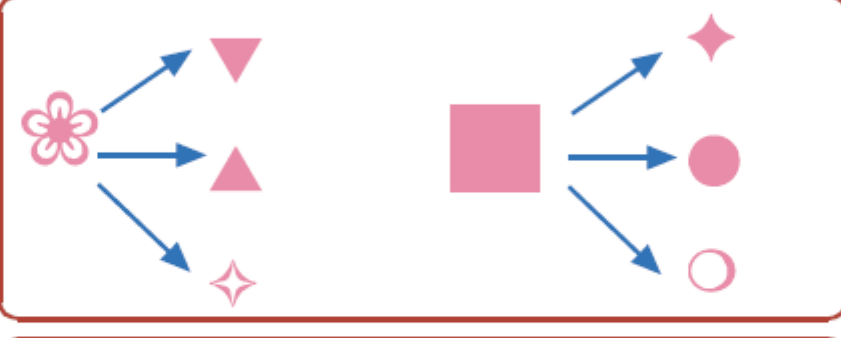

 Anahtar kapatıldığında

-  Devre açılır.
 Ampul yanar.
 Devreden elektrik akımı geçer.

 Anahtar açıldığında

-  Devre tamamlanır.
 Ampul söner.
 Devreden elektrik akımı geçmez.

Yukarıda  ve  yapılması sonucu meydana gelebilecek olaylar verilmiştir. **Buna göre aşağıda verilen eşleştirmelerden hangisi doğrudur?**

- A) 
- B) 
- C) 
- D) 

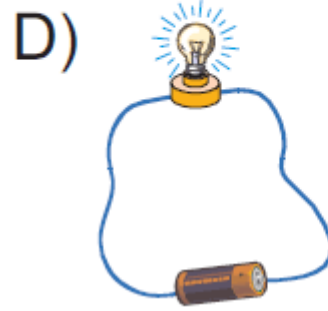
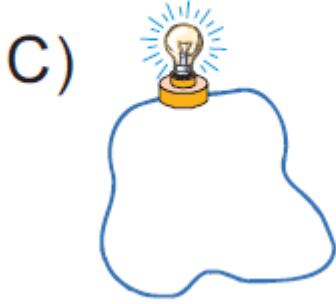
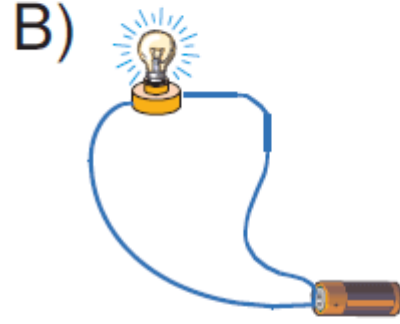
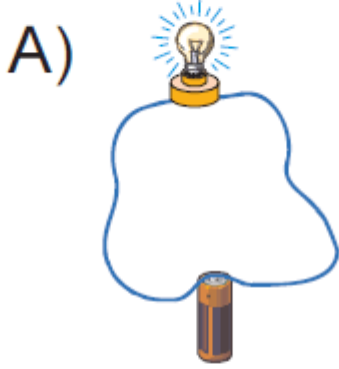
Cevap : B

8. Aşağıda verilen durumların hangisinde sokak lambalarının konumu doğru verilmiştir?



Cevap : B

9. Aşağıda verilen devrelerin hangisinde lamba ışık verir?



Cevap : B

10. Aşağıda verilenlerden hangisi elektrikli araçların çalıştırılması için ullanılmaz?

A) Şehir cereyanı

B) Pil

C) Akü

D) Hoparlör

Cevap : B

[Online Test Çöz](#)

[Pdf İndir](#)

