

4. Sınıf Sosyal Bilgiler 8. Ünite Testi Çöz

1.



Yeryüzünde insanların bazıları siyah tenli, bazıları sarışın, bazıları çekik gözlü olur.

Buna göre, insanlar için aşağıdakilerden hangisi söylenebilir?

- A) Fiziksel özellikleri farklıdır.
- B) Tüm insanlar aynı ten rengine sahiptir.
- C) Sarışın olan insanlar daha zekidir.
- D) Siyah tenli insan sayısı dünyada fazla yoktur.

Cevap : A

2. I. 23 Nisan Ulusal Egemenlik ve Çocuk Bayramı iki yılda bir kutlanır.
II. Ülkemizin komşularından birisi de Bulgaristan'dır.
III. Türkiye topraklarının büyük bir kısmı Asya kıtası üzerinde yer alır.

Buna göre, yukarıdaki bilgilerden hangisi ya da hangileri doğrudur?

A) Yalnız I
C) II ve III

B) I ve II
D) I, II ve II

Cevap : C

3.



İklimi soğuk olan bölgelerde yaşayan insanlar aşağıdaki kıyafetlerden hangisini tercih ederler?

- A) İnce kumaşlardan yapılmış elbiseleri
- B) Kısa kollu gömlekleri
- C) Kalın, kürk benzeri elbiseleri
- D) Naylon kıyafetleri

Cevap : C

4. Dünya üzerinde yer alan aşağıdaki kıtalardan hangisi en büyük yüzölçümüne sahip kıtadır?

- A) Avrupa
- B) Afrika
- C) Asya
- D) Amerika

Cevap : C

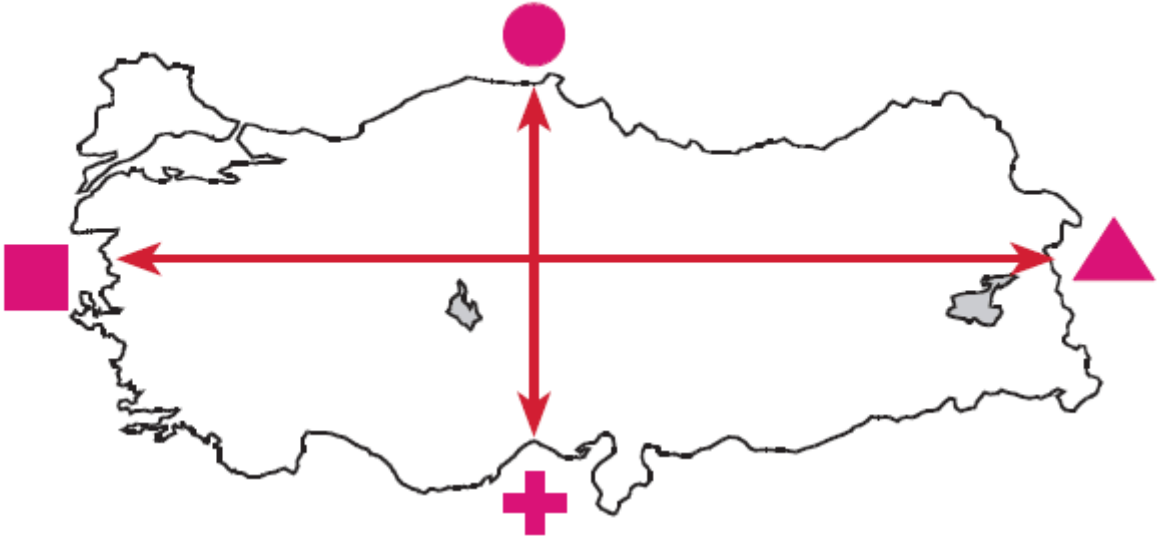
5. I. Dünya üzerinde yedi tane kıta vardır.
II. Ege Denizi ülkemizin batısında yer alır.
III. Eskimolar sıcak iklimde yaşayan insanlardır.

Yukarıda yeralan ifadelerin doğru olanlarına “😊” işareti, yanlış olanlarına “☹️” işareti koyduğunuzda aşağıdaki seçeneklerden hangisine ulaşılır?

	I	II	III
A)	😊	😊	☹️
B)	☹️	☹️	😊
C)	😊	☹️	😊
D)	☹️	😊	☹️

Cevap : A

6.



Yukarıdaki Türkiye haritasında hangi sembol ile gösterilen yöne gidersek kuzeye doğru gitmiş oluruz?

A) ■


B) ●

C) +

D) ▲

Cevap : B

7.



Yukarıda baloncu amcanın elinde bulunan hangi renk balon insanların bilgi seviyelerinin artmasına yardımcı olan yerlerden biridir?

A) Sarı

B) Mavi

C) Yeşil

D) Pembe

Cevap : A

8.

Dünyada birçok devletin kendine has yemek kültürü vardır.

Aşağıdakilerden hangisi söylendiğinde İtalyan mutfağı akla gelir?

A) Kebap

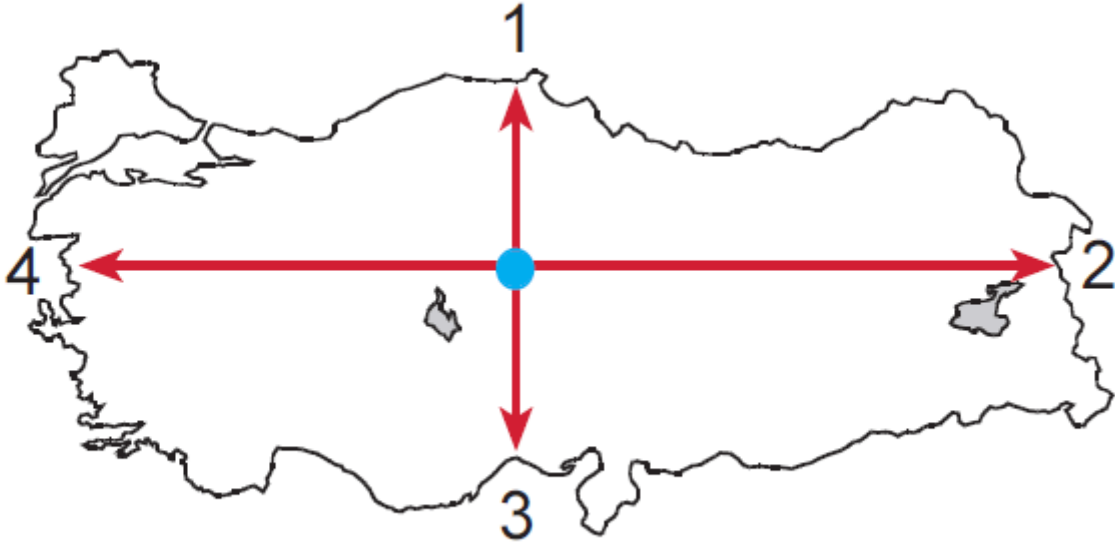
B) Tost

C) Makarna

D) Kuru Fasulye

Cevap : C

9.



Yukarıdaki Türkiye haritasında işaretli noktadan İzmir ilimize doğru hareket eden 4. sınıf öğrencisi hangi numaralı yöne doğru hareket etmiş olur?

A) 1

B) 2



C) 3

D) 4




Cevap : C

10. Aşağıdaki ifadelerin doğru olanlarının karşısına “✓” işareti, yanlış olanların karşısına “X” işareti koyunuz.

●	Ülkemizin Karadeniz’e kıyısı vardır.
▲	Türkiye’nin güney kesiminde-	

	ki komşusu Bulgaristan'dır.
	Ülkemizin üç tarafı denizlerle çevrilidir.

Buna göre, işaretler doğru şekilde yerleştirildiğinde aşağıdakilerden hangisine ulaşılır?

			
A)	X	X	✓
B)	✓	X	✓
C)	X	X	X
D)	✓	✓	X

Cevap : B

11.



Yukarıda yer alan diyalogta Mehmet ve Erol'un söyledikleri için aşağıdakilerden hangisi doğrudur?

	Mehmet	Erol
A)	Doğru	Doğru
B)	Yanlış	Doğru
C)	Doğru	Yanlış
D)	Yanlış	Yanlış

Cevap : A

Online Test Çöz

Pdf İndir