





1) Aşağıdakilerden hangisi açı çeşitlerinden biri değildir?

- A) Kalın Açı B) Geniş Açı
C) Doğru Açı D) Dik Açı





2)

120°	180°	89°
175°	62°	100°
57°	91°	112°

Yukarıdaki açılardan geniş açı olanları boyarsak ortaya nasıl bir şekil çıkar?

- A)  B) 
C)  D) 

3) Aşağıdaki saatlerden hangisinde akrep ve yelkovanın durumu dik açı çeşidine örnek gösterilebilir?

- A)  B) 
C)  D) 

4) $50^\circ + \text{★} = \text{Dar Açı}$

$70^\circ + \text{●} = \text{Dik Açı}$

$100^\circ + \text{▲} = \text{Doğru Açı}$

Açılarla şekiller toplandığında ortaya çeşitli açı çeşitleri çıkmıştır.





Buna göre bu şekillerin alabileceği değerler hangi şıkta doğru verilmiştir?

- A) ★ → 40° ● → 30° ▲ → 60°
B) ★ → 40° ● → 20° ▲ → 70°
C) ★ → 30° ● → 20° ▲ → 80°
D) ★ → 30° ● → 50° ▲ → 90°

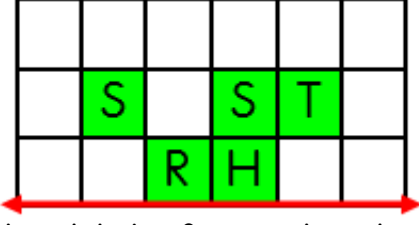
5) Doğru açıdan en büyük dar açıyı çıkarıp bulduğumuz sonucu 3 ile çarparsak hangi açıyı elde ederiz?

- A) 183° B) 273
C) 303° D) 333

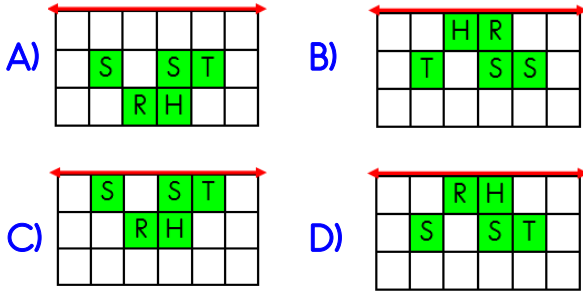
6) Aşağıdaki şekillerden hangisinin simetrik bir şekil değildir?

- A)  B) 
C)  D) 

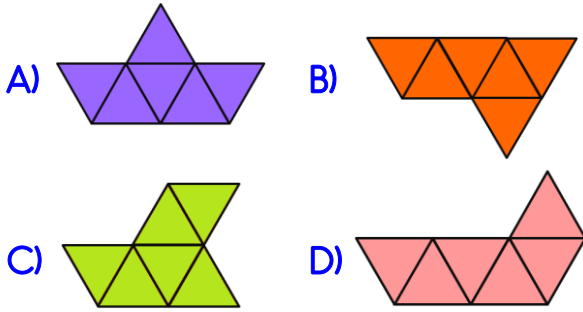
7)



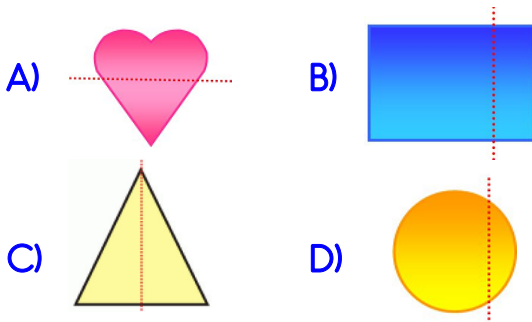
Yukarıdaki harf içeren boyalı alanın doğruya göre simetrisi aşağıdakilerden hangisidir?



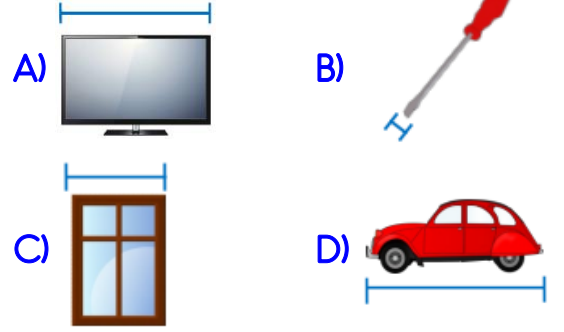
8) Aşağıdaki şekillerden hangisinin simetri doğrusu vardır?



9) Aşağıdaki şekillerden hangisinin simetri çizgisi doğru çizilmiştir?




10) Aşağıdakilerden hangisinde nesnelerin belirtilen yerleri ölçülürken milimetre kullanılır?



11) Aşağıdaki bilgilerden hangisi yanlıştır?

- A) 1 metre 10 santimetreye eşittir.
B) Kuyumcular milimetreyi kullanır.
C) 1 santimetre 10 milimetredir.
D) Milimetre, santimetreden küçüktür.



Yukarıdaki mandalın uzunluğu kaç milimetredir?

- A) 14 mm
B) 15 mm
C) 16 mm
D) 17 mm