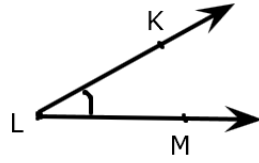


1) Yandaki açı aşağıdakilerden hangisiyle **isimlendirilemez** ?

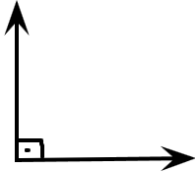


- A) KLM açısı B) L açısı
C) MLK açısı D) LKM açısı

2) Aşağıdakilerden hangisi açıya model olarak **kullanılamaz**?

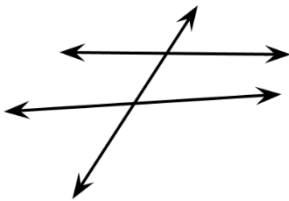


3) Aşağıdaki bilgilerden hangisi yandaki açı için doğrudur ?



- A) Dik açıdır B) Dar açıdır
C) Geniş açıdır D) Doğru açıdır

4)



Yukarıdaki şekilde kaç tane dar açı vardır?



- A) 2 B) 3 C) 4 D) 5

5) Taner bir dik açıyı yandaki birim ile ölçmüştür. Kaç birim bulmuştur?

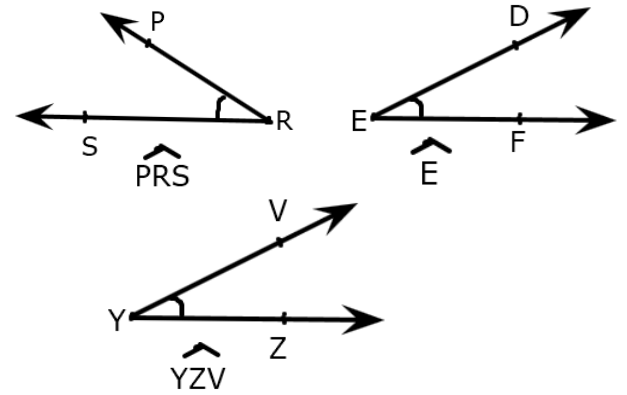


- A) 5 B) 2 C) 3 D) 4

6) Bir açının ölçüsünü aşağıdakilerden hangisiyle ölçeriz ?



7)



Yukarıdaki açılardan hangileri sembolle doğru gösterilmiştir?

- A) \widehat{YZV} B) $\widehat{PRS} - \widehat{E}$
C) $\widehat{YZV} - \widehat{PRS}$ D) $\widehat{E} - \widehat{YZV}$

8) Aşağıdakilerden hangisi geniş açıya daha yakındır ?

- A) 90 B) 78 C) 89 D) 45

9) Sude saat 06.00'da eve gelmiş.

Buna göre akrep ile yelkovan arasındaki açı ne tür bir açıdır?



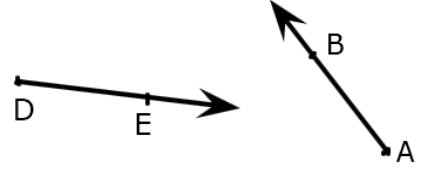
- A) Dar açı B) Doğru açı
C) Geniş açı D) Dik açı

- 10) Dar açı → ● 90°
Dik açı → ● 100°
Geniş açı → ● 180°
Doğru açı → ● 70°

Yukarıdaki eşleşmede yapılan yanlışlık aşağıdakilerden hangisiyle düzeltilebilir ?

- A) 90° ile 180° yer değiştirecek.
B) 100° ile 70° yer değiştirecek.
C) 180° ile 70° yer değiştirecek.
D) 100° ile 180° yer değiştirecek


11)



Yukarıdaki ışınlar başlangıç noktalarından birleştirilirse aşağıdaki açı türlerinden hangisi oluşur?

- A) Dik açı B) Doğru açı
C) Geniş açı D) Dar açı

12)



Mert , 120°'lik bir açı çizmek istiyor. Bunun için K noktası ile hangi noktayı birleştirmesi gerekir ?

- B) R B) Y C) F D) M