

5. Sınıf Sosyal Bilgiler Adım Adım Türkiye-2 Testi Çöz

1. Kültürel zenginliğimizin en önemli kişilerinden biri olan, insanları güldüren, güldürürken de düşündüren kimdir?

- A) Karacaoğlan B) Dadaloğlu
C) Keloğlan D) Nasrettin Hoca

Cevap :



Yukarıdaki şemada soru işareti ile gösterilen yere, aşağıdakilerden hangisi yazılmalıdır?

- A) İnkılâpçılık B) Milliyetçilik
C) Millî egemenlik D) Halkçılık

Cevap : B

3. Sosyal Bilgiler dersinde öğretmen öğrencilerine, "Atatürk ilkelerinin amaçları nelerdir?" sorusunu yöneltmiştir. Öğretmenin bu sorusuna bazı öğrenciler şu şekilde cevap vermişlerdir:



Sürekli gelişme ve yenileşmeye açık olmak ve çağdaş uygarlık düzeyinin üzerine çıkılması

Herkesin vicdan, dinî inanç ve düşünce hürriyetine sahip olması



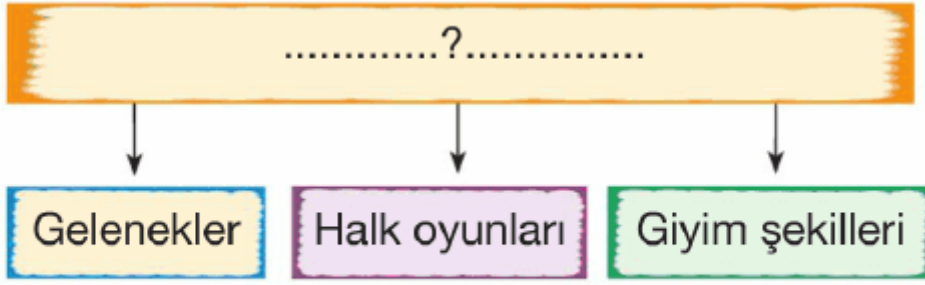
Egemenliğin, devleti yönetme hak ve yetkisinin millete verilmesi

Buna göre, öğrenciler aşağıdaki ilkelerden hangisinin amacına değinmemişlerdir?

- A) Cumhuriyetçilik B) Milliyetçilik
C) İnkılâpçılık D) Laiklik

Cevap : B

4.



Yukarıdaki diyagramda soru işareti ile gösterilen yere aşağıdakilerden hangisi yazılmalıdır?

- A) Ekonomik etkinliklerimiz
- B) Doğal varlıklarımız
- C) Sanat eserlerimiz
- D) Kültürel öğelerimiz

Cevap : B

5.



Tuncay, yarıyıl tatilinde babası ile birlikte Bolu'da bulunan önemli kayak merkezine giderek kayak yapmayı öğrenmiştir.

Buna göre Tuncay, aşağıdaki kış turizm merkezlerinden hangisine gitmiştir?

- A) Erciyes Dağı Kayak Merkezi
- B) Uludağ Kayak Merkezi
- C) Kartalkaya Kayak Merkezi
- D) Sarıkamış Kayak Merkezi

Cevap : C

6. Aşağıda bazı tarihî eserler ile buldukları şehirler eşleştirilmiştir.

Bu eşleştirmelerden hangisi yanlıştır?

A)



Selimiye Camisi



İstanbul

B)



İshak Paşa Sarayı



Ağrı

C)



Mevlâna Türbesi



Konya

D)



Sümela Manastırı



Trabzon

Cevap : A

7. Aile hayatının düzenlenmesi için; cumhuriyetin ilanından sonra Atatürk'ün önderliğinde yapılan köklü değişiklikler aşağıdakilerden hangisi ile ilgilidir?

- A) Medeni Kanun
- B) Eğitim - Öğretim Kanunu
- C) Soyadı Kanunu
- D) Kıyafet Kanunu

Cevap : A

8. Eđitim birliđini sađlayan kokl deđiřiklik hangi kanunla sađlanmıřtır?

- A) Ceza Kanunu
- B) Tevhid-i Tedrisat Kanunu
- C) Medeni Kanun
- D) ller Kanunu



Cevap : B

9.




Atatürk, bağımsızlığımızın kazanılmasında büyük fedakârlıklar gösteren Türk kadınına toplum hayatında erkeklerin sahip olduğu hakların verilmesine büyük önem vermiştir.

Aşağıdakilerden hangisinin doğrudan bu amaca yönelik olduğu söylenemez?

- A) Evlilikte resmî nikah usulünün getirilmesi
- B) Eğitim ve öğretim hizmetlerinin yaygınlaştırılması
- C) Kadınlara seçme ve seçilme hakkının verilmesi
- D) Kadınlara mirastan pay alma hakkının verilmesi

Cevap : B

10.



Milletin geleceğine yalnız ve ancak millet egemen olacaktır.

Aşağıdakilerden hangisi Atatürk'ün bu sözü doğrultusunda gerçekleştirilen inkı-lâplardan biridir?

- A) Soyadı Kanunu'nun çıkarılması
- B) Medeni Kanun'un kabul edilmesi
- C) Cumhuriyetin ilan edilmesi
- D) Türk Dil Kurumunun açılması

Cevap : C

11.



Sümela Manastırı



Manavgat Şelalesi



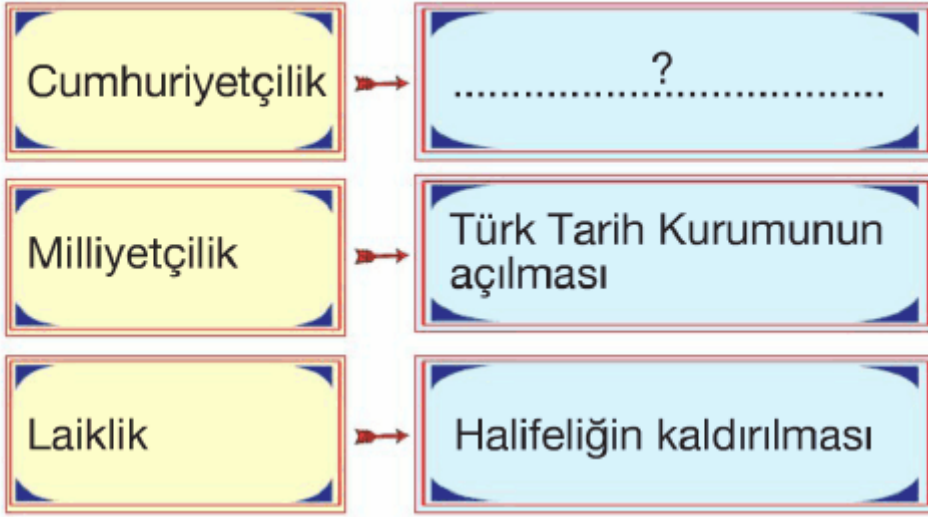
Sultan Ahmet Camisi

Yukarıdaki tarihi yerleri gezen bir kişi aşağıdaki illerimizden hangisine uğramamıştır?

- A) İzmir B) İstanbul
C) Antalya D) Trabzon

Cevap : A

12.



Yukarıdaki diyagramda soru işareti (?) ile gösterilen yere aşağıdakilerden hangisi yazılmalıdır?

- A) Soyadı Kanunu'nun kabulü
- B) Saltanatın kaldırılması
- C) Medeni Kanun'un kabulü
- D) Tekke ve zaviyelerin kapatılması

Cevap : B

13.




Yukarıdaki şemada soru işareti ile gösterilen yere aşağıdakilerden hangisi getirilmelidir?

- A) Halkçılık
- B) Devletçilik
- C) Cumhuriyetçilik
- D) Laiklik

Cevap : B

14. Beşinci sınıf öğretmeni Erdal Bey, öğrencilerinden ülkemizdeki doğal varlıkların resimlerini bulmalarını ve hangi şehirde bulduklarını yazmalarını istemiştir.

Buna göre, aşağıdaki eşleştirmelerden hangisi **yanlıştır**?



Cevap : A

15.



Egemenlik kayıtsız şartsız milletindir.

Aşağıdaki inkılâplardan hangisi, Atatürk'ün bu sözü doğrultusunda yapılmıştır?

- A) Saltanatın kaldırılması
- B) Yeni Türk harflerinin kabul edilmesi
- C) Soyadı Kanunu'nun kabul edilmesi
- D) Türk Dil Kurumunun kurulması

Cevap : A

16.



Yukarıdaki şemada boş bırakılan yere aşağıdakilerden hangisi yazılmalıdır?

- A) Doğal varlıklar
- B) Giyim şekilleri
- C) Geçim kaynakları
- D) Ekonomik faaliyetler

Cevap : B

17. I.



Truva



Çanakkale

II.



Alacahöyük



Çorum

III.




Kültepe



Kayseri

IV.



Karain



Konya

Yukarıdaki eşleştirmelerden hangisi yanlış?

- A) I. B) II C) III D) IV

Cevap : B

18.

Sivas Kongresi	→	1
Erzurum Kongresi	→	2
Büyük Taarruz	→	3
TBMM'nin kuruluşu	→	4
Saltanatın Kaldırılması	→	5

Kronolojik sıraya göre ilk ve son sırada olanlar aşağıdakilerden hangisidir?

- A) 3-5 B) 2-5 C) 2-4 D) 3-4

Cevap : B

[Online Test Çöz](#)

[Pdf İndir](#)