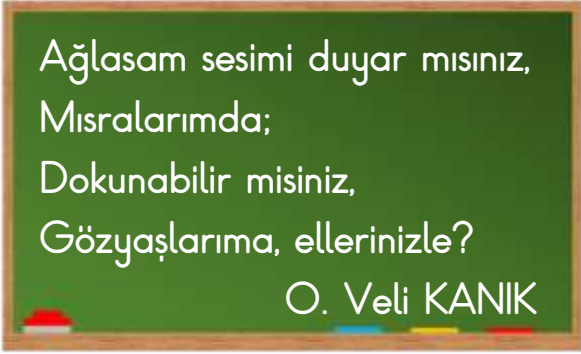
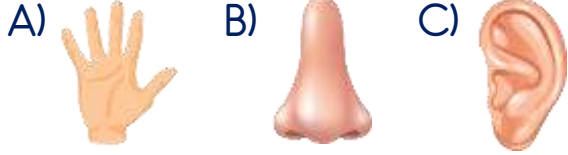


21)



Şair Orhan Veli Kanık, yukarıdaki mısralarında hangi duyu organı ile ilgili bir ifade kullanmamıştır?



22) Miraç o sabah annesinin hazırladığı nefis yumurta kokusu ile uyanıp mutfığa koştu. Kahvaltı masasının hazır olduğunu gördü. Eline çatal almıştı ki annesi arkadan:



- Uyanınca eller yıkandı mı?

Yukarıdaki metne göre Miraç sırası ile hangi duyu organlarını kullanmıştır?

- A) kulak - göz - burun - deri
B) burun - göz - deri - kulak
C) burun - göz - dil - deri

23) Görseldeki sporcu, çekiç atma sporunu yaparken sırası ile hangi hareketleri yapmıştır?



- A) hızlanma - dönme
B) dönme - sallanma
C) dönme - hızlanma

24)



Nihat kutuyu önce iterek, sonra çekerek okların gösterdiği yönde hareket ettirmiştir.

Yukarıda verilen görsel ve bilgiden yola çıkarak hangi sonuca ulaşamaz?

- A) Cisimleri hareket ettirmek için itme veya çekme kuvveti uygulayabiliriz.
B) Nihat iki durumda da kutuyu aynı yönde hareket ettirmiştir.
C) Nihat itme kuvveti uygularken kutuyu daha hızlı hareket ettirmiştir.

25) Görseldeki araç ok yönünde hareket etmektedir.



Buna göre aşağıdaki ifadelerden hangisi yanlıştır?

- A) Araca arkadan uygulanan itme kuvveti aracı hızlandırır.
- B) Araca önden uygulanan çekme kuvveti aracı hızlandırır.
- C) Araca önden uygulanan itme kuvveti aracı hızlandırır.

26) Aşağıdakilerden hangisi hareketli cisimlerin oluşturabileceği tehlikelere örnektir?

- A) Kar sularının eriyip barajları doldurması
- B) Sel sonucunda yerleşim yerlerinin sular altında kalması
- C) Yıl boyunca rüzgârlı olan yerlere rüzgâr türbini kurulması

27)



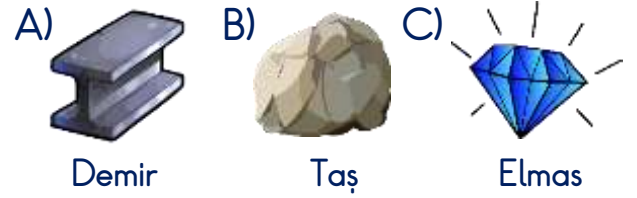
İlayda'nın okul eşyalarından hangisi hem yumuşak hem de esneklik?

- A) 
- B) 
- C) 

28)

Biliyor musunuz? Ben dünyadaki en sert maddeyim. Beni ancak benim türümden bir madde ile çizebilirsiniz.

Yukarıdaki konuşmayı hangi madde yapmıştır?



29) Bazı maddelere dokunmak, koklamak veya tatmak zarar verebilir.



Buna göre görseldeki madde için hangisi söylenemez?

- A) Tatmak tehlikelidir.
- B) Bakmak tehlikelidir.
- C) Koklamak tehlikelidir.

30) Aşağıdaki sembollerden hangisinin anlamı yanlış verilmiştir?

