

3. Sınıf Matematik Basamak ve Basamak Değerleri Testi Çöz

1) 526 sayısındaki 2 rakamının basamak değeri kaçtır?

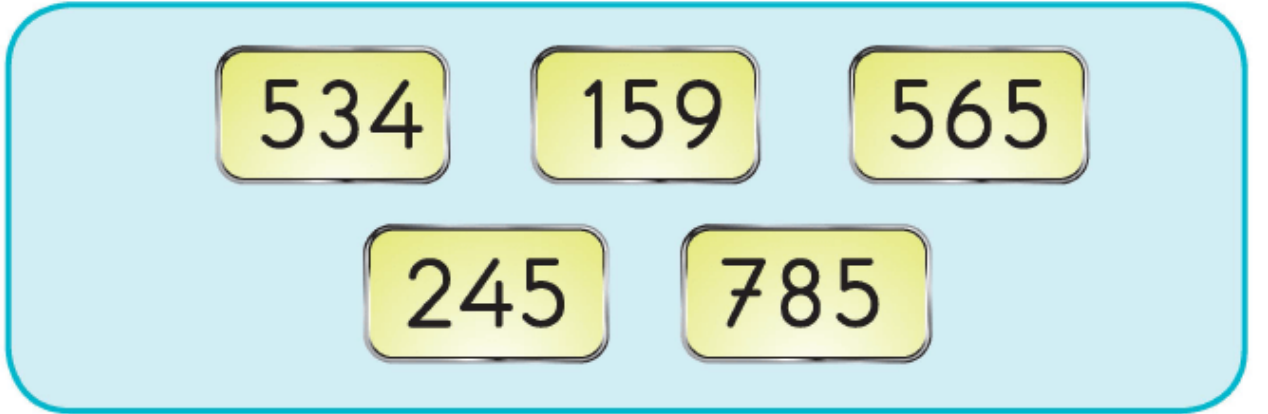
A) 2

B) 20

C) 200

Cevap : B

2)



534 159 565
245 785

Yukarıda verilen sayılardan kaç tanesinin onlar basamağında 5 vardır?



A) 1

B) 2

C) 3

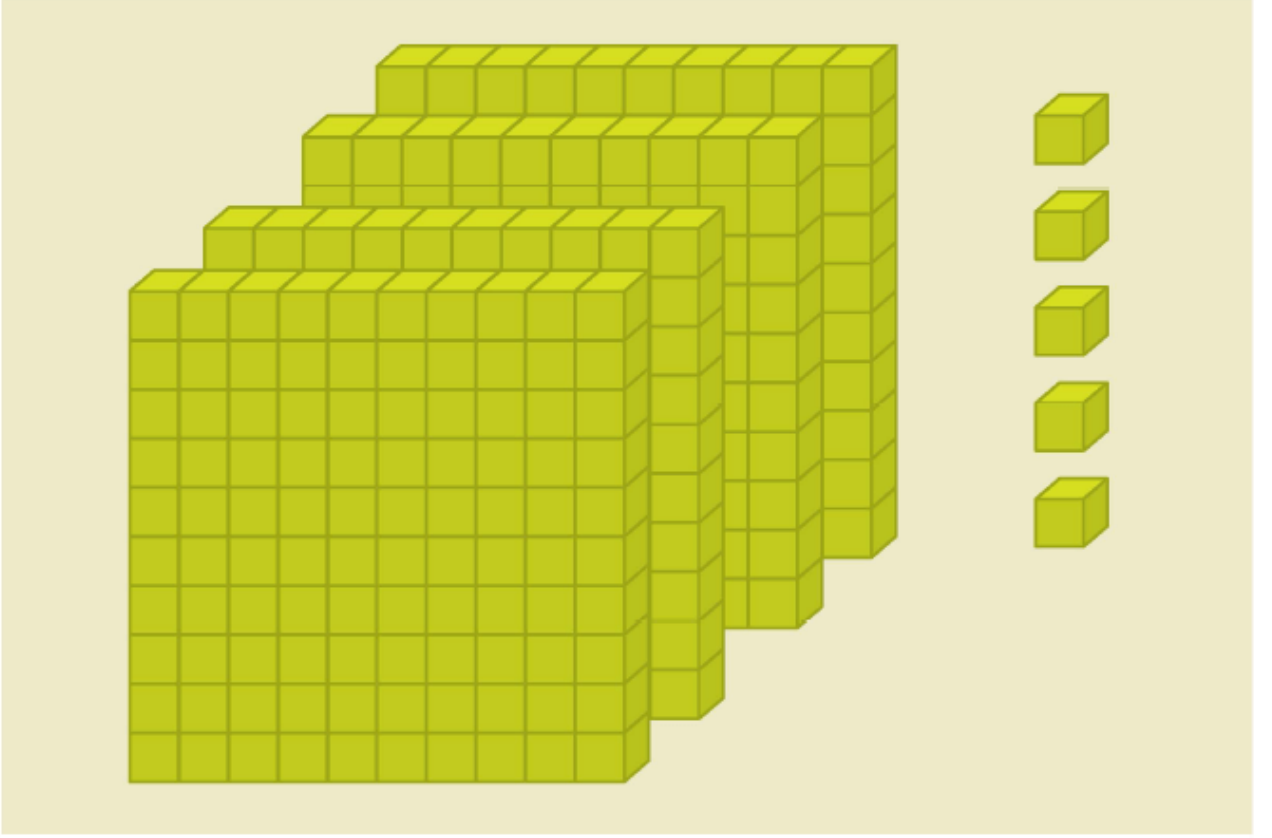
Cevap : A

3) Rakamlarının basamak deęerleri toplamı 547 olan doęal sayı ařaęıdakilerden hangisidir?



Cevap : B

4)



Onluk taban bloklarıyla modellenen yukarıdaki sayının onlar basamağında hangi rakam vardır?

A) 0

B) 1

C) 5

Cevap : A

5)

Sayı	?		
Basamak Adı	Yüzler basamağı	Onlar basamağı	Birler basamağı
Rakamın Basamak Değeri	600	40	0

Yukarıdaki basamak tablosunda gösterilen sayı aşağıdakilerden hangisidir?

A) 460

B) 604

C) 640

Cevap : C

6) Aşağıdaki sayılardan hangisinin birler basamağında 7 ve yüzler basamağında 4 vardır?

A) 347

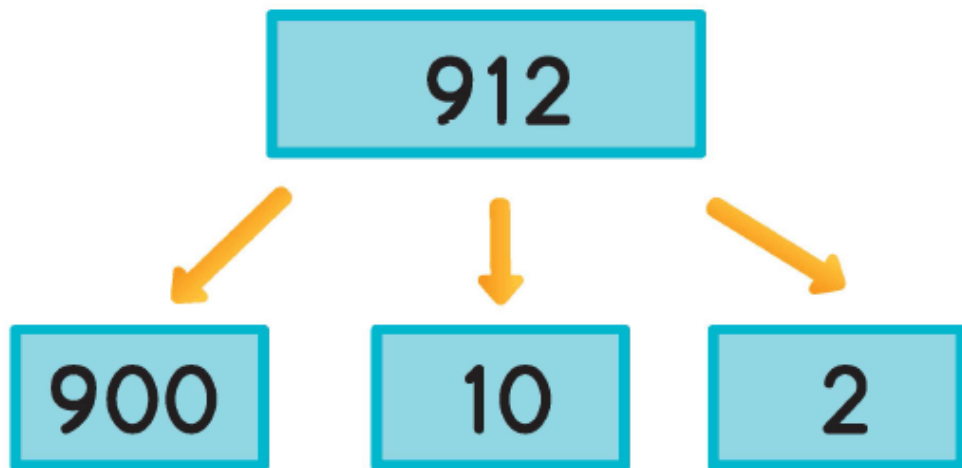
B) 457

C) 704

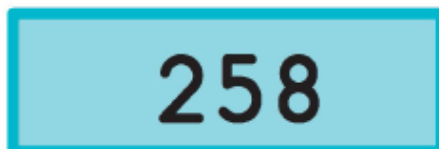
Cevap : B

7) Aşağıdaki sayıların hangisinde rakamlar basamak değerlerine **yanlış** olarak ayrılmıştır?

A)

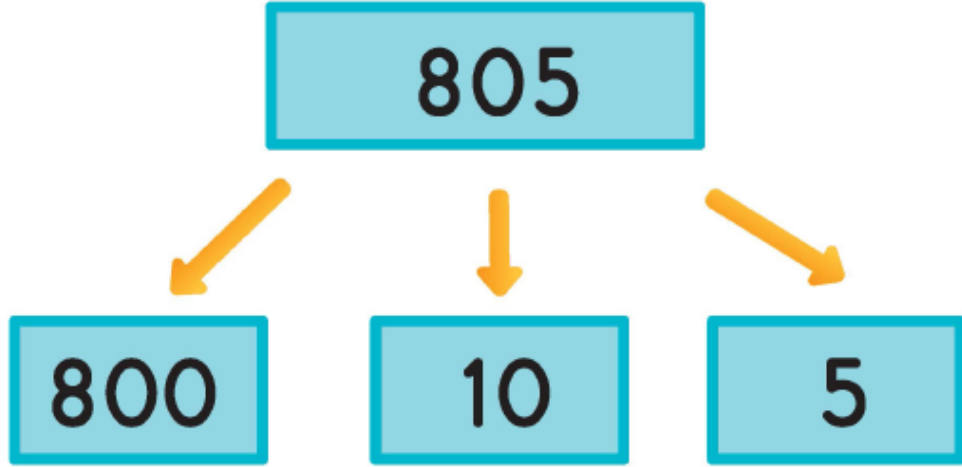


B)





C)



Cevap : C

[Online Test Çöz](#)

[Pdf İndir](#)