


1) Aşağıdakilerden hangisi bitki değildir?



2)

Fasulye	Havuç	Elma
Patates	Ispanak	Turp

Yukarıdaki bitkilerden kaç tanesi kökleri yenen bitkilere aittir?

A) 5 B) 4 C) 3

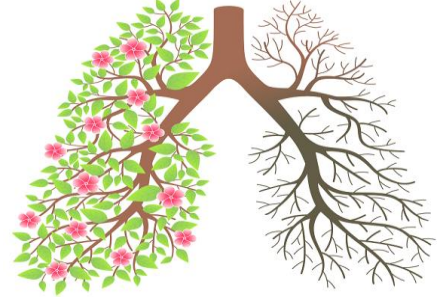
3) Aşağıda verilen bilgilerden hangisi yanlıştır?

- A) Besinlerin çoğunu bitkilerden alırız.
B) Nohut bitkisinin tohumunu tüketiriz.
C) Maydanoz bitkisinin meyvesini yeriz.

4) Bitkiler kökleri ile hem hem de zararlarını önlemeye yardımcı olur. Yukarıdaki cümlede noktalı yerlere sırayla aşağıdakilerden hangisi gelmelidir?

- A) toprak kaymasını - sel sularının
B) su kaybını - hayvanların
C) geri dönüşümü - ekonomiye

5)



Yukarıdaki görselde bitkilerle ilgili anlatılmak istenen aşağıdakilerden hangisidir?

- A) Bazı bitkiler toprağın altında meyvelerini saklarlar.
B) İhtiyacımız olan oksijen, bitkiler tarafından sağlanır.
C) Ağaçlar hiç kesilmezse kışın ısınmakta zorluk yaşarız.

6) Aşağıdaki şıklardan hangisinde verilen gıdaların tümü hayvansal gıdadır?

- A) et - süt - reçel - yumurta
B) bal - fındık - yumurta - süt
C) süt - yumurta - et - bal

7)



Yukarıdaki hayvanlardan hangisi taşımacılıkta kullanılır?

- A) Eşek B) Köpek C) Koyun

8) Aşağıdakilerden hangisi meyve değildir?



9)

Nohut	Ceviz	Kivi
Buğday	Arpa	Yulaf

Yukarıdaki gıdalardan tahıl olanların kutularını boyarsak ortaya nasıl bir şekil çıkar?



10) Aşağıdaki ürünlerden hangisi ağaçlardan elde edilmez?

- A) Okulda kullandığımız kurşun kalem
B) Evde kullandığımız mobilyalar
C) Oyun oynadığımız bilgisayar



Yukarıdaki hayvanlardan kaç tanesi evcil hayvan değildir?

- A) 1 B) 2 C) 3

12) Aşağıda verilen bilgilerden hangisi doğrudur?

- A) Tereyağı bitkisel bir besindir.
B) Koyunun yününden faydalanırız.
C) Hindi evcil bir hayvan değildir.

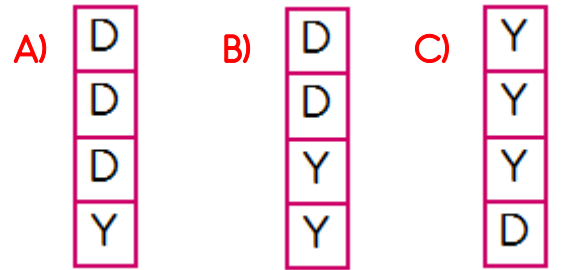
13) Kullanılan bazı eşyaları hayvanların yününden elde ederiz.

Sebzelerin bazılarını çiğ, bazılarını ise pişirerek tüketebiliriz.

Yoğurt bitkisel bir besindir.

Dengeli ve sağlıklı beslenmek için sadece hayvansal besin tüketmeliyiz.

Yukarıdaki bilgilerden yanlış olanların kutularına Y, doğru olanlara D yazarsak nasıl bir durum ortaya çıkar?



14) Aşağıdakilerden hangisi bitki ve hayvanların ortak faydalarındandır?

- A) Her ikisi de besin kaynaklarımızdır.
B) Eşya yapımında kullanılırlar.
C) Oksijen üreterek havayı temizlerler.