

1. Bölgelerin sınırları sabit değildir. Bazı bölgelerin sınırları kısa zaman içerisinde değişirken, bazı bölge sınırlarının değişmesi ise daha uzun zaman almaktadır.

**Aşağıda verilen bölgelerden hangisinin sınırları diğerlerine göre daha uzun zamanda değişir?**

- A) Sanayi bölgesi  
B) İklim bölgesi  
C) Nüfus bölgesi  
D) Ticaret bölgesi  
E) Tarım bölgesi

2.



**Yukarıdaki haritada taralı olarak gösterilen alan aşağıdaki bölgelerden hangisi olarak tanımlanabilir?**

- A) Savan bitki örtüsü bölgesi  
B) Kafkasya dağlık bölgesi  
C) Orta doğu petrol bölgesi  
D) Muson iklim bölgesi  
E) Asya çöl bölgesi

3. I. Beşeri ve fiziki özelliklerine göre bölge sınırları çizilebilir.

II. Nüfus özelliklerine göre belirlenmiş bölge sınırları, iklim özelliklerine göre belirlenmiş bölge sınırlarına göre daha kısa sürede değişebilir.

III. Bitki örtüsü bölgeleri ile iklim bölgelerinin sınırları benzerlik gösterir.

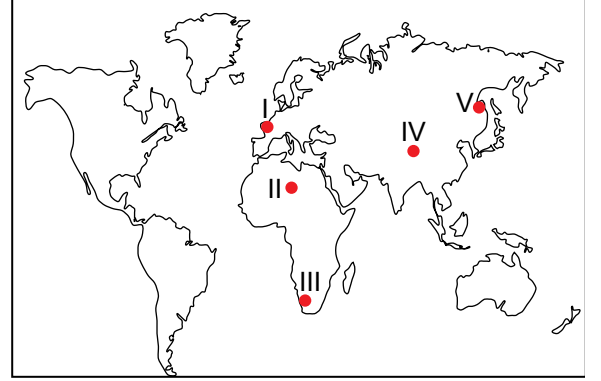
**Yukarıda bölge kavramı ile ilgili verilen bilgilerden hangileri doğrudur?**

- A) Yalnız I  
B) I. ve II.  
C) II. ve III.  
D) I. ve III.  
E) I., II. ve III.

4. Aşağıda verilen bölgelerden hangisi beşeri özelliklerine göre oluşturulmuş bir bölgedir?

- A) Ulaşım Bölgesi  
B) Kutup Bölgesi  
C) Dağlık Bölge  
D) Akarsu Bölgesi  
E) Ovalık bölge

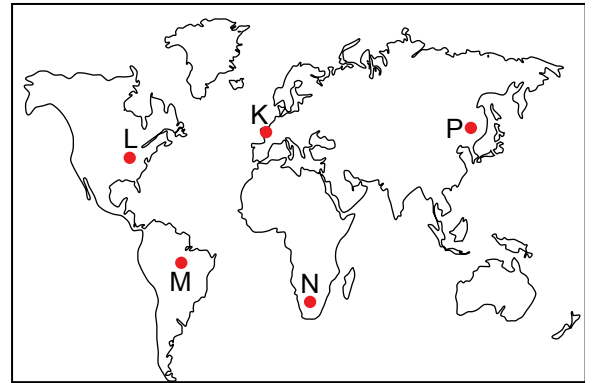
5.



**Yukarıdaki haritada numaralandırılarak verilen yerlerden hangileri çöl bölgeleri içerisinde yer almaz?**

- A) I. ve II.  
B) II. ve III.  
C) III. ve IV.  
D) I. ve V.  
E) IV. ve V.

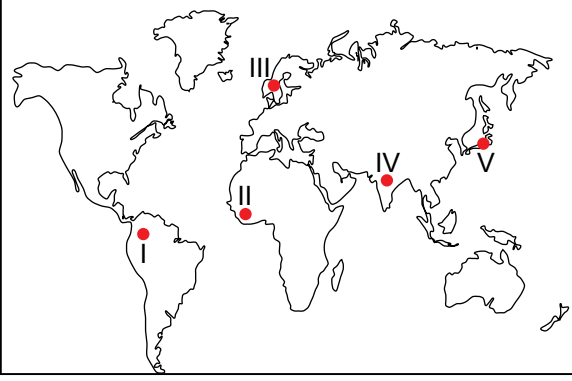
6.



**Yukarıda gösterilen yerlerden hangisi Ekvatorial iklim bölgesi içerisinde yer alır?**

- A) K  
B) L  
C) M  
D) N  
E) P

7.



- I. Latin Amerika Bölgesi    II. Sanayi bölgesi  
III. Orman bölgesi        IV. Muson İklim Bölgesi  
V. Teknoloji bölgesi

**Harita üzerinde numaralandırılarak verilen yerler ve bölge eşleştirmelerinden hangisi yanlıştır?**

- A) I    B) II    C) III    D) IV    E) V

8. Aşağıda verilen ülkelerden hangisi dini turizm bölgesi içerisinde yer alır?

- A) Fransa  
B) Nijerya  
C) Japonya  
D) Arabistan  
E) İngiltere

9. I. Ilıman Okyanusal İklim Bölgesi

II. Akdeniz İklim Bölgesi

III. Muson İklim Bölgesi

IV. Karasal İklim Bölgesi

V. Savan İklim Bölgesi

**Avrupa kıtası'nın yukarıda verilen iklim bölgelerinden hangisinin sınırları içerisinde toprakları yoktur?**

- A) I. ve II.    B) III. ve IV.    C) III. ve V.  
D) I. ve IV.    E) II. ve V.

10. Aşağıda verilen bölge türlerinden hangisi ekonomik özelliklerine göre belirlenmiş bölgeler arasında gösterilemez?

- A) Maden bölgesi  
B) Turizm bölgesi  
C) Dini bölge  
D) Ulaşım bölgesi  
E) Turizm bölgesi

11. Aynı tür canlı ve hayvanları barındıran bölgelere ne ad verilmektedir?

- A) Ekosistem  
B) Biyom  
C) Atol  
D) Biyoçeşitlilik  
E) Habitat