

1.

Atatürkçülüğün Temel Esasları		Atatürk İlkeleri
I	Millî dil	Milliyetçilik
II	Akılcılık prensibi	Laiklik
III	Millî kültürün geliştirilmesi	İnkılapçılık
IV	Millî tarih bilinci	Cumhuriyetçilik

Yukarıdaki tabloda Atatürkçülüğün temel esasları ile ilişkili olduğu Atatürk ilkeleri eşleştirilmiştir.

Bu eşleştirmelerden hangisi ya da hangileri yanlıştır?

A) Yalnız I

B) Yalnız IV

C) II - III

D) I - III

Cevap : B

2. Aşağıda verilenlerin hangisinde neden-sonuç ilişkisi yoktur?

- A) Türk Medenî Kanunu kabul edildi. — Resmî nikâh zorunlu hâle geldi.
- B) Ağırlık ve uzunluk ölçülerinde değişiklik yapıldı. — Türkiye'nin ekonomik alandaki faaliyetleri kolaylaştı.
- C) Tevhid-i Tedrisat Kanunu kabul edildi. — Ankara başkent yapıldı.
- D) Cumhuriyet ilan edildi. — Yeni Türk devletinin yönetim şekli belirlendi.

Cevap : C

- 3. I- Saltanatın kaldırılması
II- Soyadı Kanunu'nun kabul edilmesi
III- Çeşitli fabrikaların açılması
IV- Kanun önünde bütün vatandaşların eşit olması**

Yukarıdakilerden hangisi Atatürk'ün "Cumhuriyetçilik" ilkesi ile ilişkilendirilebilir?

- A) I
- B) II
- C) III
- D) IV

Cevap : A

4. 1926 yılında kabul edilen Kabotaj Kanunu ile aşağıdakilerden hangisi sağlanmıştır?

- A) Aşar vergisinin kaldırılması
- B) Kadınlara belediye seçimlerine katılma hakkının tanınması
- C) Denizlerimizde gemi işletme hakkının Türk vatandaşlarına verilmesi
- D) Halkın devlet yönetiminde söz sahibi olması

Cevap : C

5. Aşağıdakilerden hangisi Atatürkçü Düşünce Sistemi için söylenemez?

- A) Akla ve bilime dayanır.
- B) Bölgesel barışı yeterli görür.
- C) Vicdan ve düşünce hürriyetine saygılıdır.
- D) Millî birlik ve bütünlüğe önem verir.

Cevap : B

6. 1 Kasım 1928'de yeni Türk alfabesi olarak Latin harflerinin kabul edilmesinde aşağıdakilerden hangisi etkili olmamıştır?

- A) Türk dilinin yapısına uygun olması
- B) Okuma ve yazmayı kolaylaştırması
- C) Okur yazar sayısını arttıracak olması
- D) Tarihimizden gelen millî bir alfabe olması

Cevap : B

7. Atatürk'ün ölümüyle ilgili aşağıda verilen bilgilerden hangisi doğrudur?

- A) 57 yaşında vefat etmiştir.
- B) İstanbul'dan alınan cenazesi Savarona yatı ile İzmit'e getirilmiştir.
- C) İzmit'e getirilen cenazesi daha sonra kara yolu ile Ankara'ya getirilmiştir.
- D) Çankaya Köşkü'nde geçici bir kabir yapılmıştır.

Cevap : A

8. Yanda resmi verilen Orhun Anıtları, günümüzde hangi ülkededir?

- A) İran
- B) Çin
- C) Türkmenistan
- D) Moğolistan



Cevap : A

- 9. I- Vali
II- Başbakan
III- Muhtar
IV- Büyükşehir Belediye Başkanı**

Verilenlerden hangisi ya da hangileri, halk tarafından seçilerek göreve gelen yöneticilerden değildir?

- A) Yalnız I
B) Yalnız IV
C) I - III
D) II - III - IV

Cevap : A

- 10. Fiziki haritalarda kullanılan mavi renk ve tonları aşağıdakilerden hangisini gösterir?**

- A) Dağ ve tepeleri
B) Ova ve platoları
C) Deniz, göl ve akarsuları
D) Orman, çayır ve meraları

Cevap : C

- 11. 17 Ağustos 1999'da Marmara Bölgesi'nde meydana gelen, çok sayıda can ve mal kaybına neden olan doğal afet aşağıdakilerden hangisidir?**

- A) Deprem
B) Heyelan
C) Çığ
D) Sel baskını

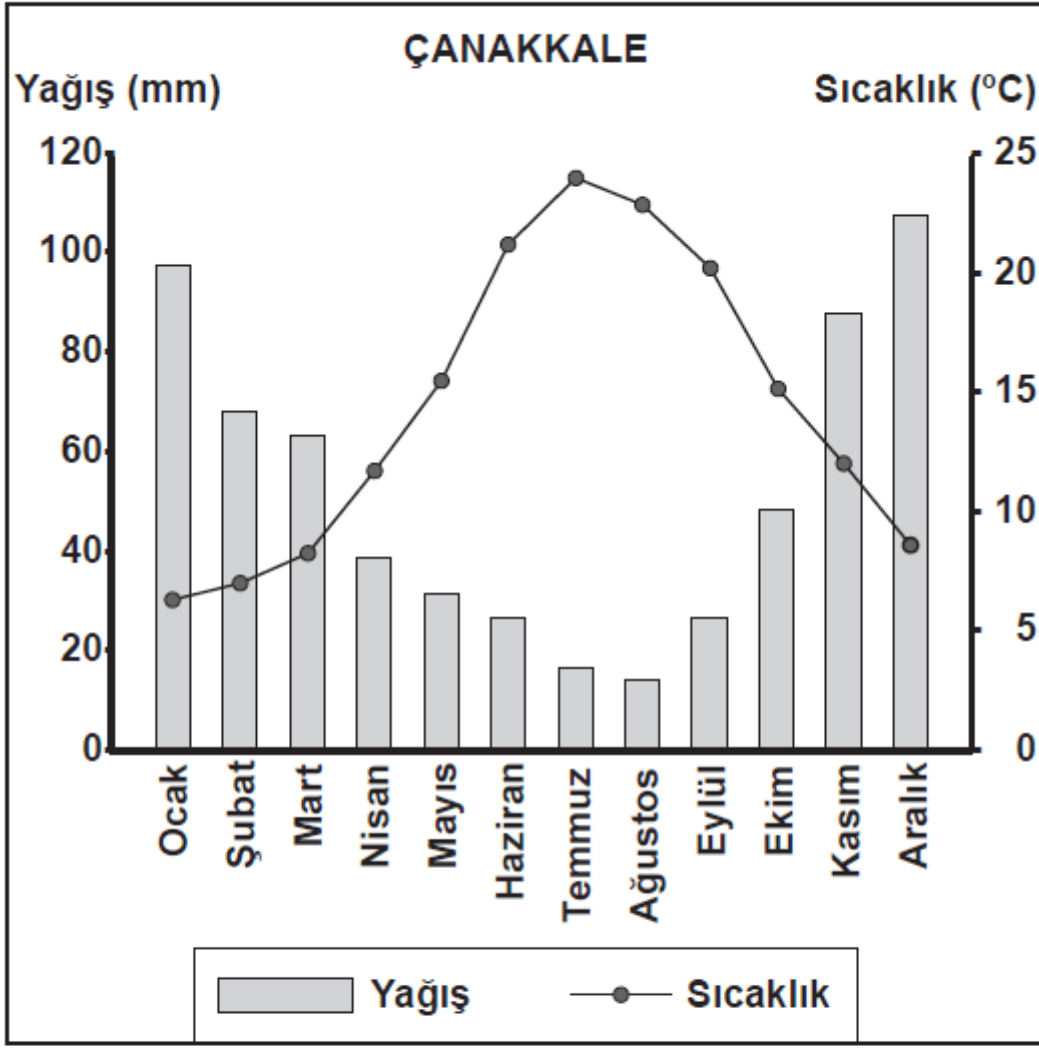
Cevap : A

12. Çok çeşitli iklim özelliklerine sahip bir ülke için aşağıdakilerden hangisi söylenebilir?

- A) Denize kıyısı olduğu
- B) Kuzey Yarım Küre'de yer aldığı
- C) Çok çeşitli bitki türüne sahip olduğu
- D) Hayvancılığın en önemli ekonomik faaliyet olduğu

Cevap : C

13.



Yukarıda Çanakkale'nin yağış ve sıcaklık grafiği verilmiştir. Buna göre en fazla yağış hangi mevsimde düşmektedir?

- A) Kış B) İlkbahar
C) Sonbahar D) Yaz

Cevap : A

14. Aşağıdaki tarım bitkilerinden hangisinin Türkiye ekonomisindeki payı daha azdır?

- A) Pamuk
B) Tütün
C) Buğday
D) Muz

Cevap : A

15.



Türkiye’de buğdayın hasat edilme zamanı (sıcaklığın azalmasına bağlı olarak) batıdan doğuya gidildikçe gecikir.

Buna göre haritadaki illerden hangisinde buğday daha önce hasat edilir?

- A) Manisa
B) Eskişehir
C) Sivas
D) Ağrı

Cevap : A

16. Köyümüzde şekerpancarı yetiştiriyor, elde ettiğimiz ürünleri en yakındaki Turhal Şeker Fabrikası'na satıyoruz. Fabrikada işlenen pancar, şeker hâline geldikten sonra satılmak üzere bakkal veya marketlere gönderiliyor.

Parçada hangi ekonomik faaliyetten söz edilmemiştir?

- A) Tarım
B) Turizm
C) Ticaret
D) Sanayi

Cevap : B

17. Yağışın yetersiz olduğu kurak bölgelerdeki kırsal alanlarda görülen toprak evler aşağıdaki bölgelerimizden hangisinde **daha yaygındır?**

- A) Ege Bölgesi
B) Akdeniz Bölgesi
C) Marmara Bölgesi
D) Güneydoğu Anadolu Bölgesi

Cevap : B

18. İnsanların dinlenmek, eğlenmek ve gezme-görmek amacıyla bir yerden başka bir yere giderek yaptıkları ekonomik etkinliğe ne ad verilir?

- A) Ticaret
B) Turizm
C) Madencilik
D) Ormancılık

Cevap : B

19. Herkes sađlıklı ve dengeli bir evrede yařa-
ma hakkına sahiptir.

**Ařađıdakilerden hangisi bu hakkımızın bize
yklediđi sorumluluklardan biridir?**

- A) Kiřisel eřyalarımızı korumak
- B) Tehlikelerden kaınmak
- C) Dođal gzellikleri korumak
- D) Sosyal etkinliklerde bulunmak

Cevap : C

20. Ařađıdakilerden hangisi Trkiye Cumhuri-
yeti Devleti'nin merkez ynetim birimlerin-
den biri deđildir?

- A) Cumhurbaşkanı
- B) Bařbakan
- C) Bakanlar
- D) Vali

Cevap : C

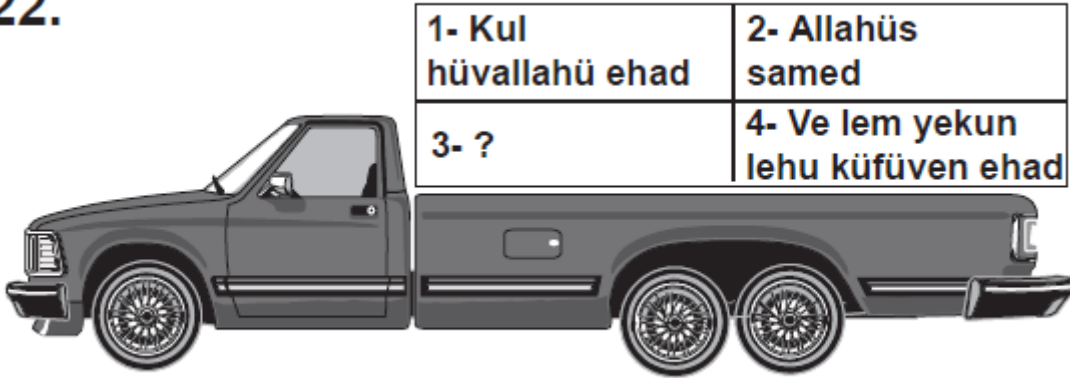
21. • Evrendeki düzen, hiçbir şeyin rastlantı sonucu ortaya çıkmadığını göstermektedir.
• Evrendeki varlıkların kendi kendilerini var etme güçleri yoktur.

Bu bilgilerin ikisini de iyi değerlendiren kimse, aşağıdakilerden hangisine ulaşır?

- A) Varlıklardaki düzen, onların kendi kendilerini var ettiklerini gösterir.
B) Evrenin varlığının bir başlangıcı yoktur.
C) Evrendeki yasalar rastlantı sonucu ortaya çıkmıştır.
D) Evren bir yaratıcı tarafından planlı biçimde var edilmiştir.

Cevap : C

22.



Yukarıdaki araç hareket için yükünün tamamlanmasını bekliyor. Size göre yükü tamamlamak için 3 numaralı kasaya aşağıdakilerden hangisi konulmalıdır?

- A) Fiddünyâ haseneten
B) Ve kınâ azâbennâr
C) Lem yelid ve lem yüled
D) Ve ersele aleyhim tayran ebâbîl

Cevap : C

- 23.**
- Namaz, insanı kötülüklerden uzaklaştırır.
 - Oruç, sabretmeyi öğretir.
 - Zekât, insana paylaşma, cömertlik ve yardımseverlik gibi davranışları kazandırır.
 - Hac insanlara, birbirlerine eşit ve kardeşçe yaklaşmayı öğretir.

Bu bilgilerin tümünü aşağıdakilerden hangisine kanıt olarak gösterebiliriz?

- A) İbadetlerin davranışları güzelleştirdiğine
- B) İbadetlerin insanın Allah ile iletişim kurma yolu olduğuna
- C) Namaz, oruç, zekât ve hac dışında da ibadetler bulunduğuna
- D) İbadetlerin sahip olduğumuz nimetleri iyi kullanmayı öğrettiğine

Cevap : A

24. Aşağıdakilerin hangisinde farz olan bir ibadetten söz edilmiştir?

A)

Sabah okula gelirken arkadaşıma selam verdim.



B)

Ninem hac yapmak için Mekke'ye gitti.



C)

Babamla birlikte camide bayram namazı kıldık.



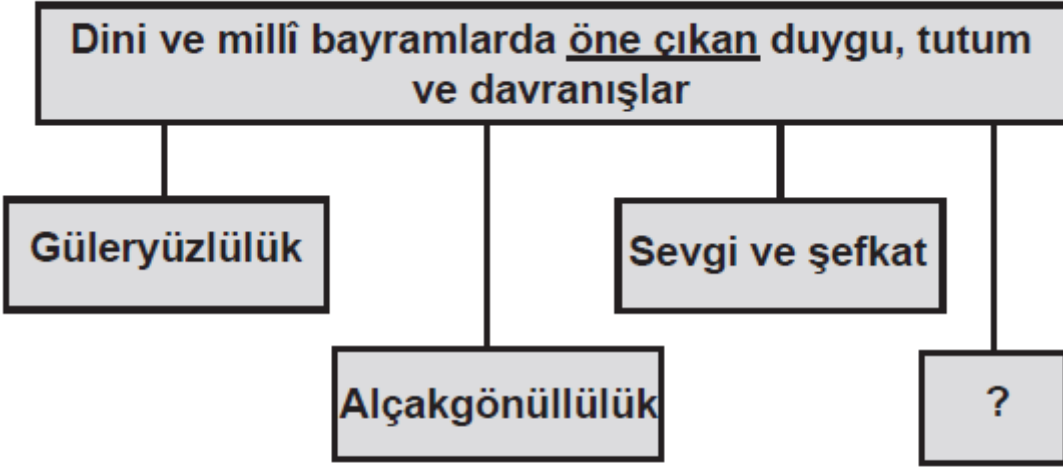
D)

Bayramda kurbanımızı kesmek için köye gittik.



Cevap : B

25.



Soru işareti konulan yere aşağıdakilerden hangisi getirilmelidir?

- A) Çalışkanlık
C) Paylaşmak

- B) Emin olmak
D) Adaletli olmak

Cevap : C

[Online Test Çöz](#)

[Pdf İndir](#)