

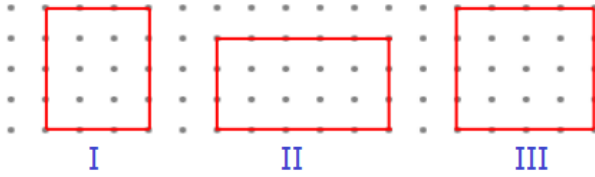
1)

Geometrik şekillerin çevre hesabı yapılırken, şekli oluşturan doğru parçalarının uzunlukları toplanır.

**Çevre uzunluklarıyla** ilgili aşağıdaki bilgilerden hangisi doğru değildir?

- A) Karenin bir kenar uzunluğunu dört ile çarparak çevre uzunluğunu bulabiliriz.
- B) Üçgenin çevre uzunluğunu bulmak için tüm kenar uzunluklarını toplamalıyız.
- C) Dikdörtgenin çevre uzunluğunu bulmak için bir kenar uzunluğunu 2 ile çarparız.

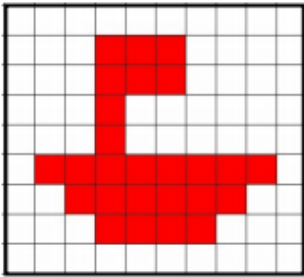
2)



Yukarıda iki nokta arası **1 birim** ise hangi şeklin çevre uzunluğu diğerlerinden azdır?

- A) I
- B) II
- C) III

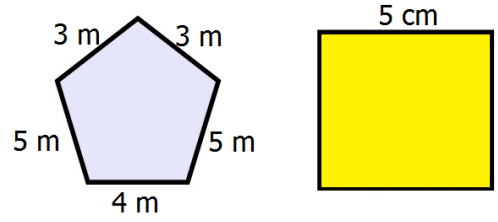
3)



Yukarıdaki şeklin çevresi kaç birimdir?

- A) 32
- B) 34
- C) 36

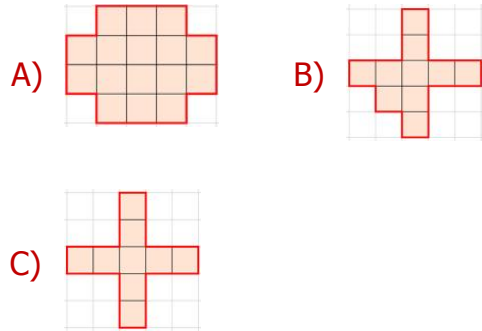
4)



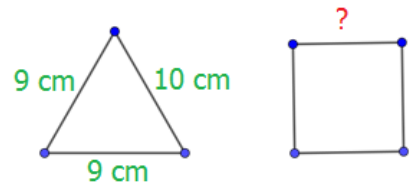
Beşgen ve karenin çevre uzunluklarıyla ilgili aşağıdakilerden hangisi **doğrudur**?

- A) Beşgenin çevre uzunluğu karenin çevre uzunluğundan azdır.
- B) Beşgenin çevre uzunluğu karenin çevre uzunluğuna eşittir.
- C) Beşgenin çevre uzunluğu karenin çevre uzunluğundan fazladır.

5) Çevre uzunluğu **20 birim** olan bir şekil arayan biri aşağıdaki şekillerden hangisini kullanamaz?



6)



Yukarıdaki **üçgenin** çevre uzunluğu ile **karenin** çevre uzunluğu eşittir. Buna göre **karenin** bir kenarı kaç cm'dir?

- A) 9 cm
- B) 8 cm
- C) 7 cm

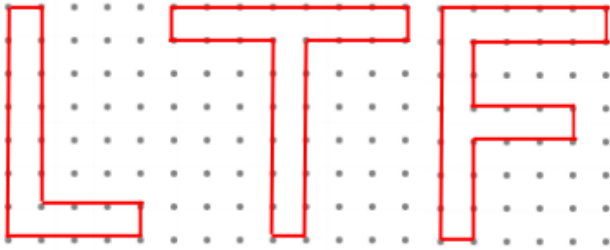
7)

uzun kenar uzunluğu	kısa kenar uzunluğu	
10 cm	8 cm	
12 cm	6 cm	
13 cm	7 cm	

Çevre uzunluğu 36 cm olan bir dikdörtgen çizecek olan Ebru, **sebzeler** ile eşleşen hangi ölçüleri kullanamaz?

- A) domates B) mısır C) patlıcan

8)



Yukarıdaki **harflerden** hangisinin çevre uzunluğu en fazladır?

- A) T B) F C) L

9)



Yukarıdaki şekillerin çevre uzunlukları **farkı** aşağıdakilerden hangisidir?

- A) 2 birim B) 3 birim C) 4 birim

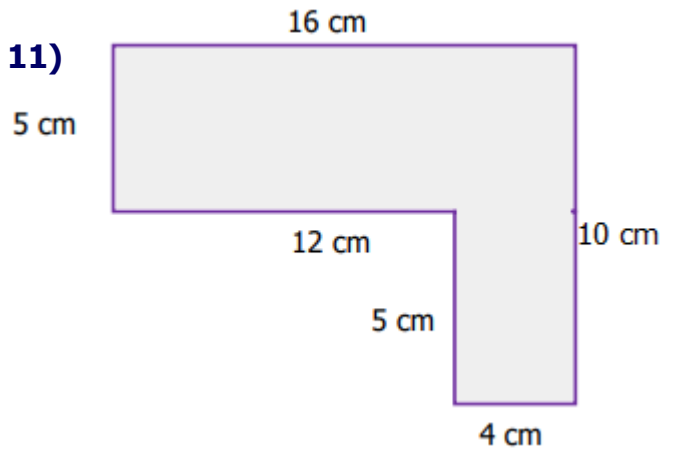
10)



3 karenin birleşiminden oluşan yukarıdaki şeklin **çevre uzunluğu** kaç metredir?

- A) 44 m B) 40 m C) 36 m

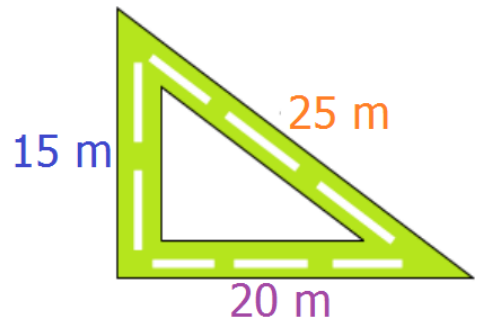
11)



Yukarıdaki şeklin **çevre uzunluğunun** çeyreği kaç santimetredir?

- A) 12 cm B) 13 cm C) 14 cm

12)



Yukarıda **üçgen** şeklindeki yürüyüş yolunun çevresinde **tam 15 tur** yürüyüş yapan biri kaç metre yol yürümüş olur?

- A) 900 m B) 850 m C) 720 m