

3. Sınıf Matematik Çıkarma İşlemi Testi Çöz

1)
$$\begin{array}{r} 856 \\ -444 \\ \hline \end{array}$$

Yukarıda verilen çıkarma işleminin sonucu aşağıdakilerden hangisidir?

A) 402

B) 412

C) 422

Cevap : B

$$\begin{array}{r} 2) \quad 703 \\ \underline{-121} \\ \hline \end{array}$$

Yukarıda verilen çıkarma işleminin sonucu aşağıdakilerden hangisidir?

A) 572

B) 582

C) 682

Cevap : B

3) Aşağıdaki çıkarma işlemlerinden hangisinin sonucu **yanlıştır**?

$$\begin{array}{r} A) \quad 657 \\ \underline{-325} \\ \hline 332 \end{array}$$

$$\begin{array}{r} B) \quad 534 \\ \underline{-274} \\ \hline 260 \end{array}$$

$$\begin{array}{r} C) \quad 725 \\ \underline{-346} \\ \hline 389 \end{array}$$

Cevap : C

4)
$$\begin{array}{r} 800 \\ -453 \\ \hline \end{array}$$

Yukarıda verilen çıkarma işleminin sonucu aşağıdakilerden hangisidir?

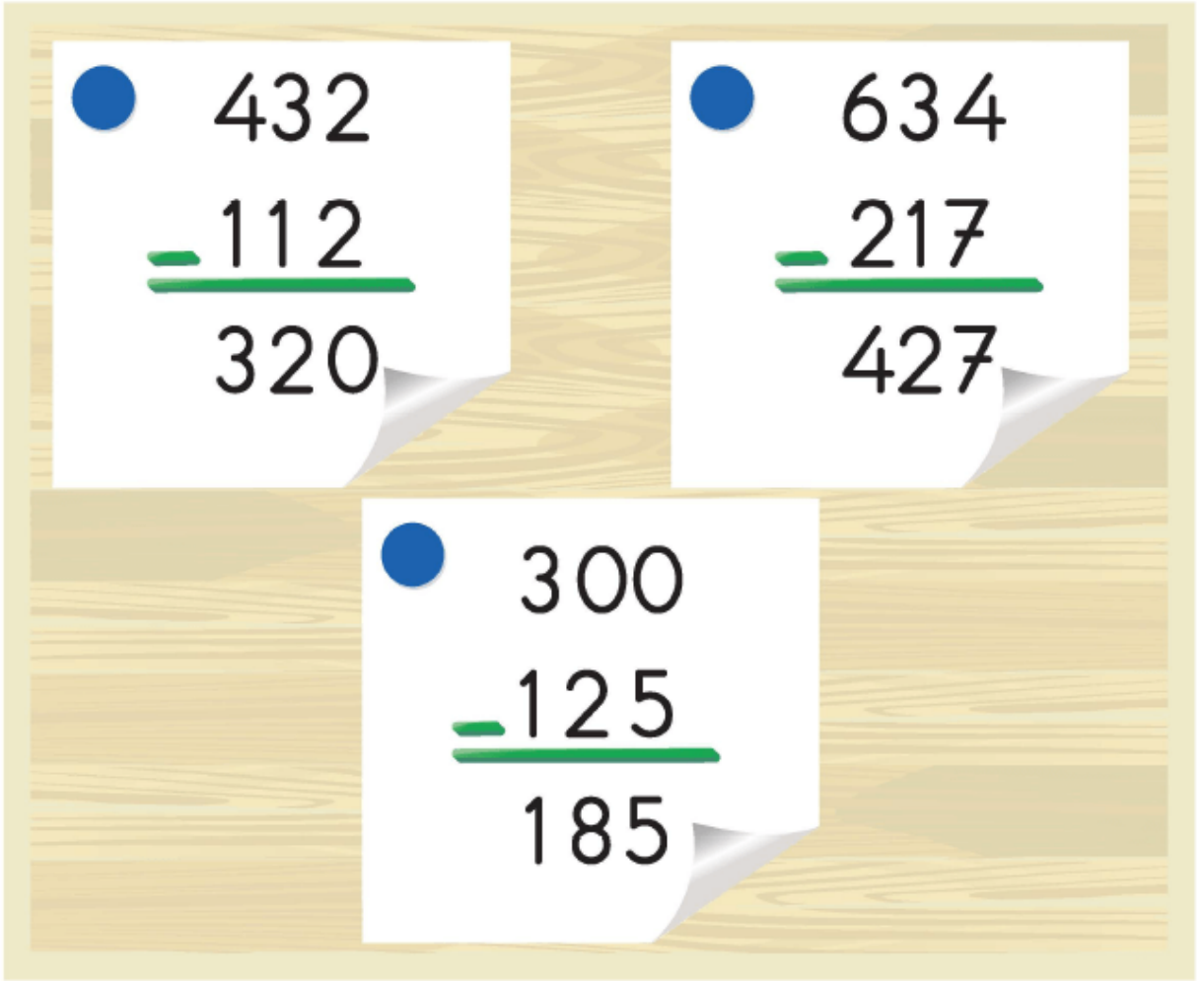
A) 347

B) 357

C) 457

Cevap : A

5)



Yukarıdaki panoda verilen çıkarma işlemlerinden kaç tanesi doğru yapılmıştır?

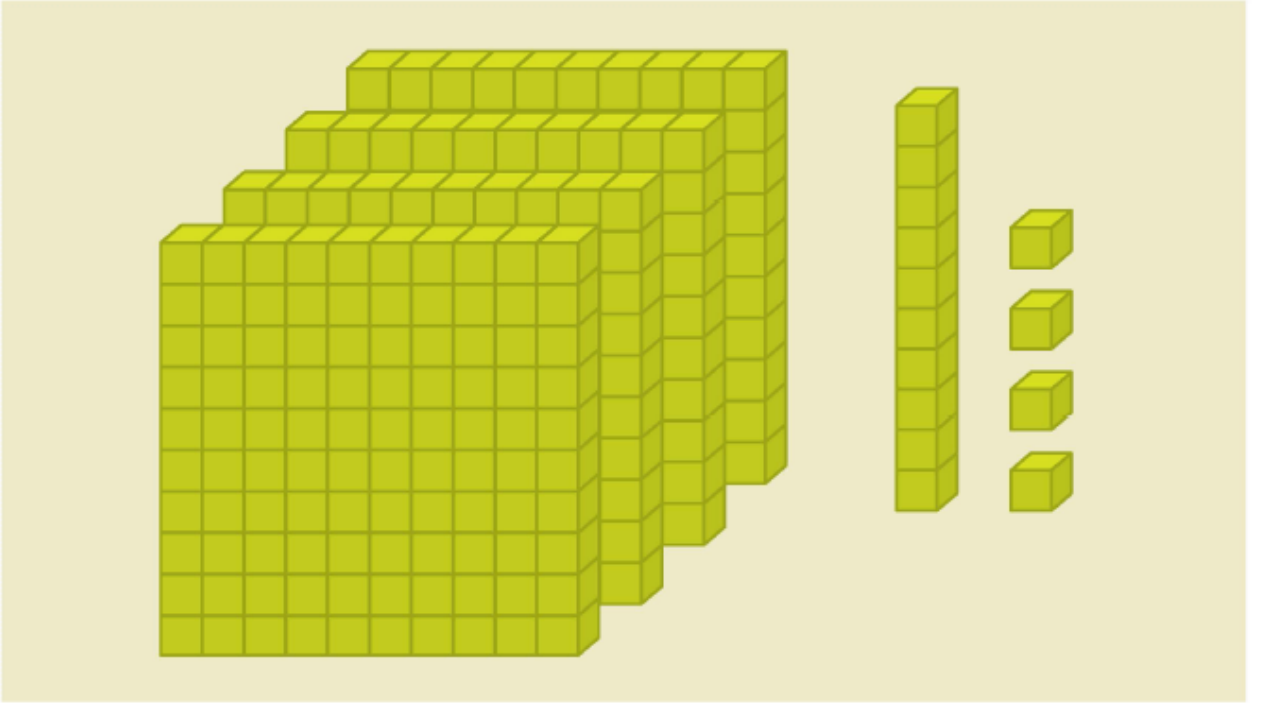
A) 1

B) 2

C) 3

Cevap : A

6)



Onluk taban bloklarıyla modellenen yukarıdaki sayının 255 eksiği kaçtır?


A) 151

B) 159

C) 169

Cevap : B

7)



Yukarıdaki birinci abaküste verilen sayı, ikinci abaküste verilen sayıdan kaç **fazladır**?

A) 348

B) 358

C) 368

Cevap : C

[Online Test Çöz](#)

[Pdf İndir](#)