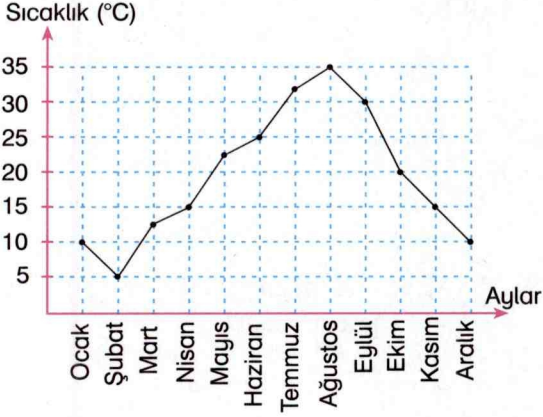


1. 2. ve 3. soruları aşağıdaki grafiğe göre çözümlü.

Grafik: Bir ilde aylara göre ölçülen ortalama sıcaklıklar.



1. Grafiğe göre en soğuk ay hangi aydır?

- A) Ocak
B) Şubat
C) Mart
D) Aralık

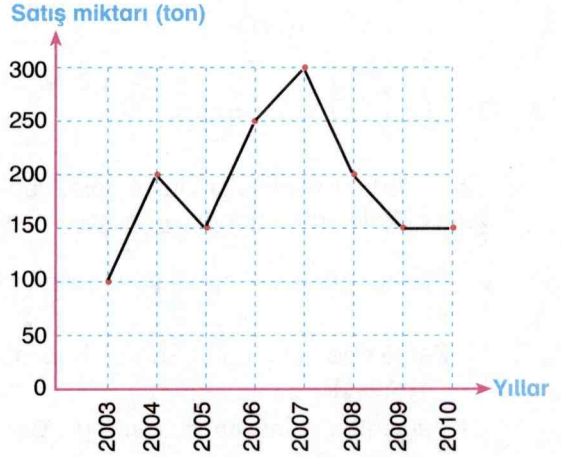
2. Grafiğe göre en sıcak ay hangi aydır?

- A) Haziran
B) Temmuz
C) Ağustos
D) Eylül

3. Aşağıda verilen hangi iki ayda sıcaklık ortalamaları birbirine eşittir?

- A) Mart – Nisan
B) Haziran – Ekim
C) Aralık – Ocak
D) Temmuz – Eylül

4. Grafik: Bir köyde yıllara göre satılan toplam fındık miktarı.



Grafiğe göre, aşağıdaki ifadelerden hangisi yanlıştır?


- A) 2009 ve 2010 yıllarında eşit miktarda fındık satılmıştır.
B) En fazla fındık 2007 yılında satılmıştır.
C) En fazla fındık satılan yıl, en az fındık satılan yıldan 200 ton fazla fındık satılmıştır.
D) 2007 yılından sonra satılan fındık miktarı her yıl bir önceki yıla göre sürekli azalmıştır.

5. Bir mağazaya, açıldıktan sonraki saat aralıklarında gelen bay ve bayan müşteri sayılarını gösteren bir çizgi grafiği oluşturulmuştur.

Bu grafiğe bakarak aşağıdakilerden hangisi hakkında bir bilgi edinemeyiz?

- A) Saat 12.00'den önce kaç müşteri geldiği
B) Gelen müşterilerin meslekleri
C) Bir günde toplam kaç müşteri geldiği
D) Gelen bayan ve erkek müşteri sayısı arasındaki farkın kaç olduğu

6. Aşağıdaki grafikte Berkay, Efe ve Kubilay'ın bir hafta boyunca çözdüğü soru sayıları verilmiştir.



Yukarıda verilen çizgi grafiğine göre, aşağıdaki ifadelerden hangisi yanlıştır?

- A) Efe her gün eşit sayıda soru çözmüştür.
 B) Perşembe günü en az soruyu Kubilay çözmüştür.
 C) Perşembe günü en çok soruyu Berkay çözmüştür.
 D) Pazar günü çözülen toplam soru sayısı, pazartesi günü çözülen toplam soru sayısından fazladır.

7. Tarık, bir haftada toplam kaç sayfa kitap okumuştur?

- A) 155
 B) 160
 C) 165
 D) 170

8. Tarık, en az kitabı hangi gün okumuştur?

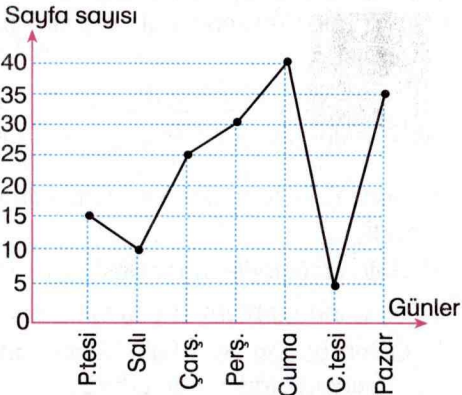
- A) Cumartesi
 B) Pazar
 C) Salı
 D) Cuma

9. Tarık, salı ve pazar günleri toplam kaç sayfa kitap okumuştur?

- A) 35
 B) 40
 C) 45
 D) 50

7, 8 ve 9. soruları aşağıdaki grafiğe göre çözüünüz.

Grafik: Tarık'ın bir hafta boyunca günlere göre okuduğu sayfa sayısı



10. Beş arkadaşın dört günde çözdükleri soru sayıları aşağıdaki tabloda verilmiştir.

İsim \ Günler	Ali	Emel	Burcu	Zülal	Ufuk
Cumartesi	30	38	47	22	55
Pazar	31	50	44	47	42
Pazartesi	25	42	66	18	56
Salı	43	40	55	65	35

Bu tabloya göre Ali'nin en fazla soru çözdüğü gün kim en az soru çözmüştür?

- A) Emel
 B) Zülal
 C) Burcu
 D) Ufuk