

6. Sınıf Sosyal Bilgiler Coğrafi Konum-Harita Ve Ölçekler-1 Testi Çöz

1.



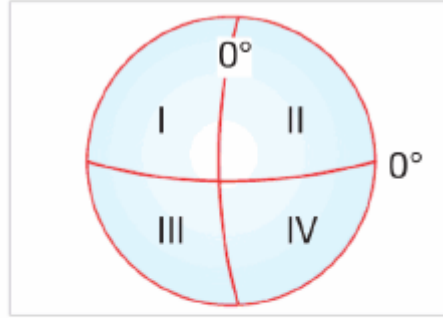
Ülkelerin ya da illerin sınırlarını gösteren haritalar aşağıdakilerden hangisidir?

- A) Fizikî haritalar
- B) Beşerî haritalar
- C) Siyasî haritalar
- D) Özel haritalar

Cevap : C

2. Türkiye $36^{\circ} - 42^{\circ}$ kuzey paralelleri, $26^{\circ} - 45^{\circ}$ doğu meridyenleri arasında yer alır.


Buna göre, Türkiye yandaki şekil üzerinde numaralandırılmış alanlardan hangisi üzerinde yer almaktadır?







- A) I
- B) II
- C) III
- D) IV

Cevap : B

3.

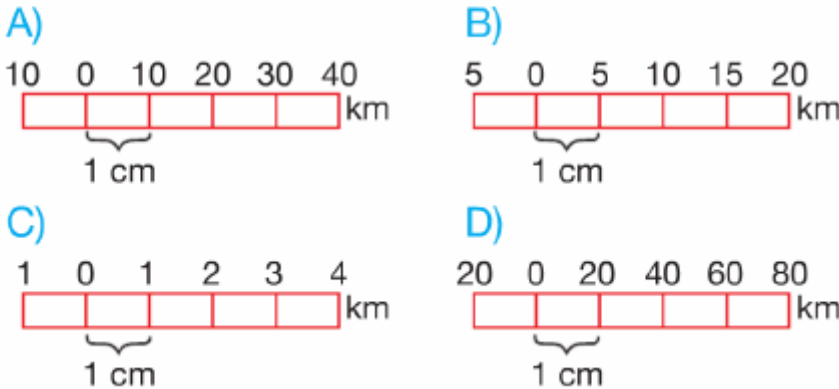


Öğretmen Hakan Bey'in bu sorusuna, hangi öğrencinin verdiği bilgi yanlıştır?

- A)  Uzunluk hesaplama
- B)  Yerel saat hesaplama
- C)  Yön bulma
- D)  Nüfus yoğunluğu bulma

Cevap : B

4. **Aşağıdaki çizgi ölçeklerden hangisiyle çizilen Türkiye haritasındaki ayrıntılar daha fazladır?**



Cevap : C

5.



Yukarıdaki okçu bir çizimin harita olabilmesi için gereken şartlardan yanlış olanı vurmak istediğinde hangi hedefe atış yapmalıdır?

- A) 1 B) 2 C) 3 D) 4

Cevap : C

6.

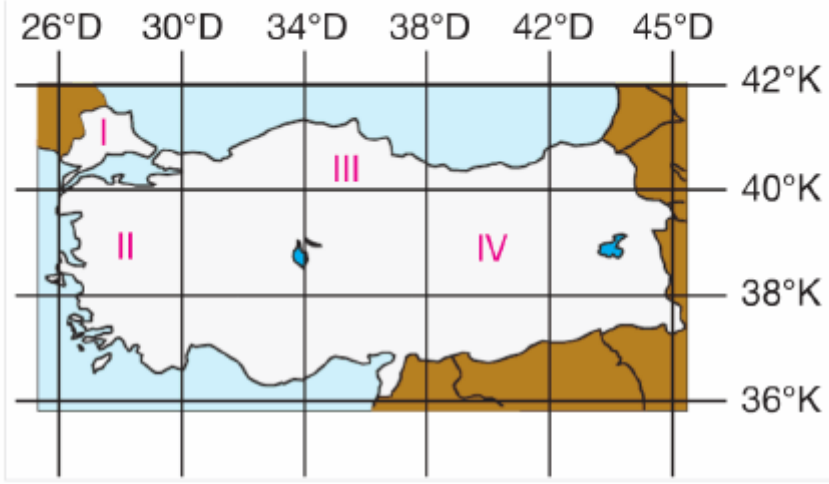
- I. Başlangıç paraleli Ekvator'dur.
- II. Uzunlukları birbirine eşittir.
- III. Meridyenleri dik keserler.
- IV. Ekvator'dan kutuplara gidildikçe boyları kısalır.

Yukarıda verilenlerden hangisi paralellerin özelliklerinden biri değildir?

- A) I B) II C) III D) IV

Cevap : B

7. Aşağıdaki haritada, Türkiye'den geçen bazı enlem ve boylam dereceleri verilmiştir.



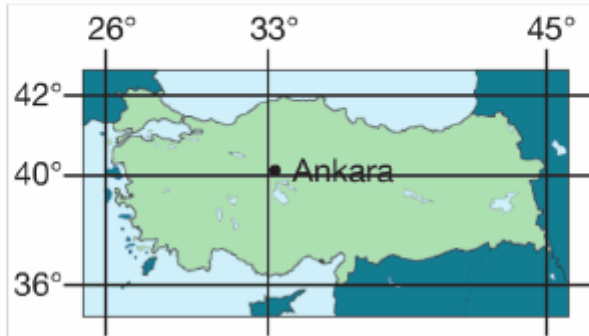
Yukarıdaki haritada A merkezi, 39° kuzey paraleli ile 41° doğu meridyeninin kesiştiği yerde bulunmaktadır.

Buna göre, A merkezi harita üzerindeki kaç numaralı bölgede yer almaktadır?

- A) I B) II C) III D) IV

Cevap : B

8. Aşağıdaki Türkiye haritasında Türkiye'nin ve Ankara'nın coğrafi koordinatları verilmiştir.



Buna göre, Ankara'nın coğrafi koordinatları aşağıdakilerden hangisidir?

- | <u>Paralel</u> | <u>Meridyen</u> |
|----------------|-----------------|
| A) 40° Kuzey | 33° Doğu |
| B) 33° Kuzey | 26° Doğu |
| C) 36° Güney | 45° Doğu |
| D) 33° Güney | 45° Doğu |

Cevap : A

9. Aşağıdakilerden hangisinde Eski Dünya kıt'aları bir arada verilmiştir?

- A) Avrupa – Amerika – Afrika
- B) Avrupa – Okyanusya – Antartika
- C) Asya – Avrupa – Amerika
- D) Avrupa – Asya – Afrika

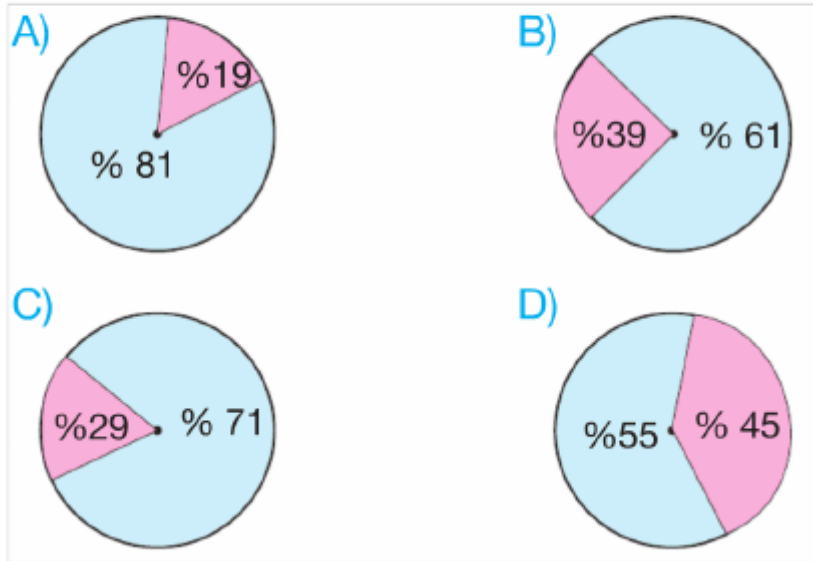
Cevap : A

10. Aşağıdakilerden hangisi, Türkiye'nin özel konumu ile ilgili değildir?

- A) Dört mevsimin belirgin şekilde yaşanması
- B) Üç tarafı denizlerle çevrili yarımada oluşu
- C) Değişik iklim tiplerine sahip olması
- D) Zengin yer altı kaynaklarına sahip olması

Cevap : A

11. Aşağıdakilerden hangisi, Güney Yarım Küre'deki karaların ve denizlerin dağılışı oranını göstermektedir?



Cevap : A

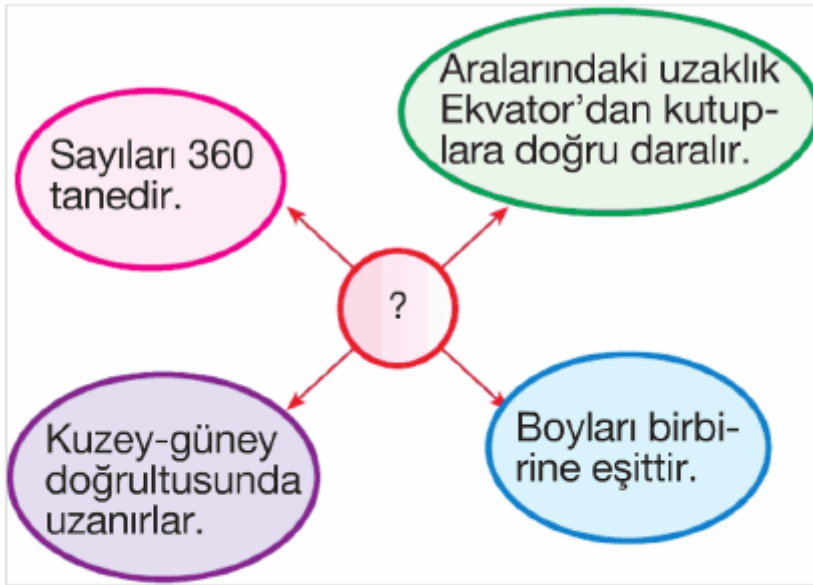
12. Yeryüzündeki bir noktanın Ekvator'a olan uzaklığının açı cinsinden değerine enlem denir.

Aşağıdakilerden hangisi üzerinde enlemin etkisi yoktur?

- A) Akdeniz Bölgesi'nin Ege Bölgesi'nden birkaç derece sıcak olması
- B) Türkiye'nin batısından doğusuna gidildikçe ortalama yükseltinin artması
- C) Akdeniz'in tuzluluk oranının Karadeniz'den fazla olması
- D) Antalya'nın Ankara'dan daha sıcak olması

Cevap : B

13.

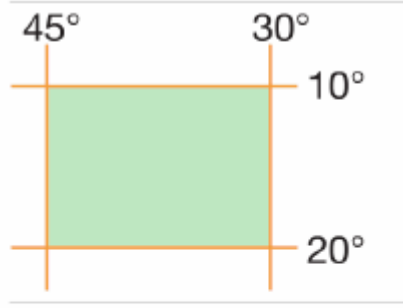


Yukarıdaki kavram haritasında (?) ile gösterilen yere aşağıdakilerden hangisi getirilmelidir?

- A) Ölçek
- B) Paralel
- C) Meridyen
- D) Kutup

Cevap : C

14. Yandaki şekilde taralı alan ile ilgili olarak verilen aşağıdaki bilgilerden hangisi yanlıştır?



- A) Güney Yarımküre'dedir.
- B) En kuzeyi ile en güneyi arasında 1110 km'lik uzaklık vardır.
- C) Başlangıç Meridyeni'nin doğusundadır.
- D) Türkiye'nin güneyinde yer alır.

Cevap : C

15.



- I. Avrupa
- II. Asya
- III. Afrika

Yukarıdaki kıt'aların yüzölçümüne göre küçükten büyüğe doğru sıralanışı aşağıdakilerden hangisinde doğru olarak verilmiştir?

- A) I, II, III
- B) III, II, I
- C) II, III, I
- D) I, III, II

Cevap : C

[Online Test Çöz](#)

[Pdf İndir](#)

