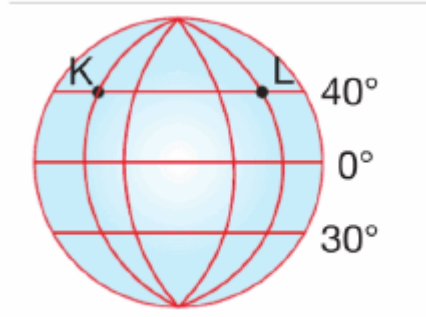


6. Sınıf Sosyal Bilgiler Coğrafi Konum-Harita Ve Ölçekler-2 Testi Çöz

1. Yandaki şekilde gösterilen K ve L noktalarında, gece gündüz süresi yıl boyunca aynıdır.



Bu durumun nedeni aşağıdakilerden hangisidir?

- A) Başlangıç Meridyeni'ne uzaklıklarının aynı olması
- B) Aynı enlem üzerinde bulunmaları
- C) Yerel saatlerinin aynı olması
- D) Aynı boylam üzerinde bulunmaları

Cevap : B

2.



Öğretmenin bu sorusuna bazı öğrenciler şu şekilde cevap vermişlerdir:



İpek

İki meridyen arasındaki zaman farkı 4 dakikadır.



Mehmet

Bütün meridyenler kutuplarda birleşir.



Sinan

Aynı meridyen üzerinde bulunan tüm noktaların yerel saati aynıdır.



Caner

İki meridyen arasındaki uzaklık her yerde eşittir.

Bu öğrencilerden hangisinin verdiği cevap yanlıştır?

A) İpek

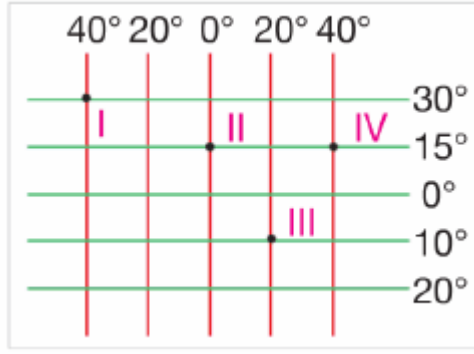
C) Sinan

B) Mehmet

D) Caner

Cevap : B

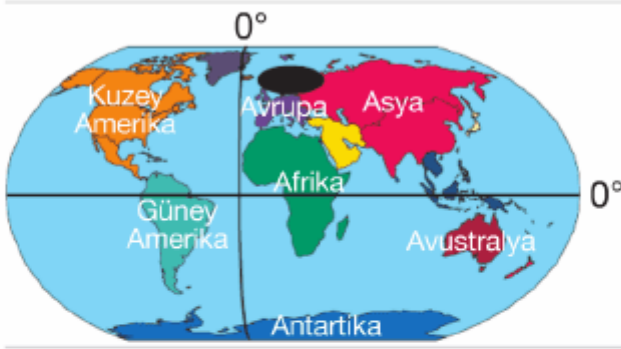
3. Yandaki şekil üzerinde işaretlenen noktalarla ilgili olarak aşağıdakilerden hangisi yanlıştır?



- A) I nolu nokta Ekvator'a en yakındır.
B) III nolu noktada, Dünya'da dönüş hızı en fazladır.
C) IV nolu noktada yerel saat en ileridir.
D) III ve IV noktaları Başlangıç Meridyeni'nin doğusundadır.

Cevap : A

4. İsmet, babasının yurt dışı görevleri nedeniyle haritada taralı olarak gösterilen bölgeye gidecektir.



Buna göre, İsmet'in gideceği bölge ile ilgili aşağıdakilerden hangisi söylenemez?

- A) Ekvator'un kuzeyinde yer alır.
B) Kuzey Amerika kıtasının doğusundadır.
C) Başlangıç Meridyeni'nin batısında yer alır.
D) Gittiği kıtanın tamamı Kuzey Yarım Küre üzerindedir.

Cevap : C

5. Dünya üzerinde herhangi bir yerin enlem ve boylamlarının bilinmesi, aşağıdakilerden hangisi hakkında kesin bir bilgi elde etmemizi sağlar?

- A) Matematik konumu
- B) Ekonomik gelişmişliği
- C) Özel konum
- D) Ortalama yükseltisi

Cevap : A

6.



Yukarıdaki haritada numaralandırılmış alanlardan hangisi "Yeni Dünya Karaları" içinde yer almaz?

- A) I
- B) II
- C) III
- D) IV

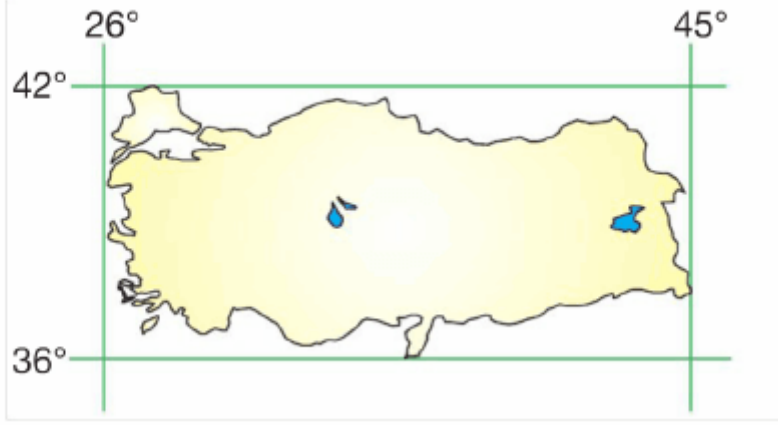
Cevap : C

7. Aşağıdakilerden hangisi Türkiye'nin matematik konumu ile ilgili değildir?

- A) Başlangıç Meridyeni'nin doğusunda bulunması
- B) Dört mevsimin belirgin olarak yaşanması
- C) Üç tarafının denizlerle çevrili olması
- D) Kuzey Yarım Küre'de yer alması

Cevap : C

8.



Yukarıdaki haritada Türkiye'nin matematik konumu verilmiştir.

Buna göre Türkiye'nin matematik konumunu tanımlarken aşağıdakilerden hangisi yanlış olur?

- A) 42° Kuzey B) 45° Doğu
C) 36° Kuzey D) 26° Batı

Cevap : C

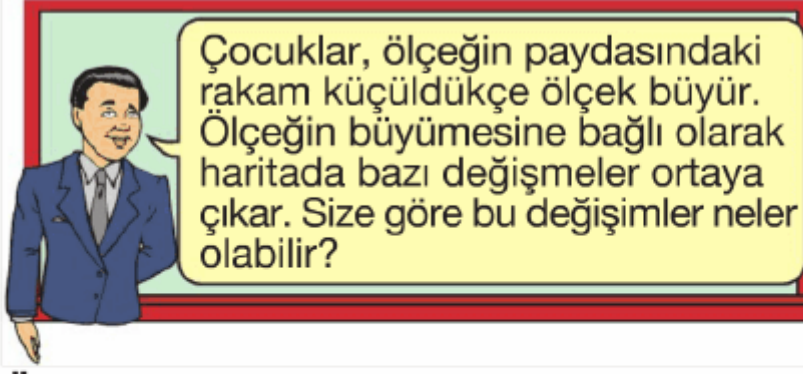
9. Ekvator'un kuzey ve güneyinde, ona paralel birer derece aralıklarla çizilen dairelere paralel denir.

Buna göre, aşağıdakilerden hangisi paralellerin özelliklerinden biri değildir?

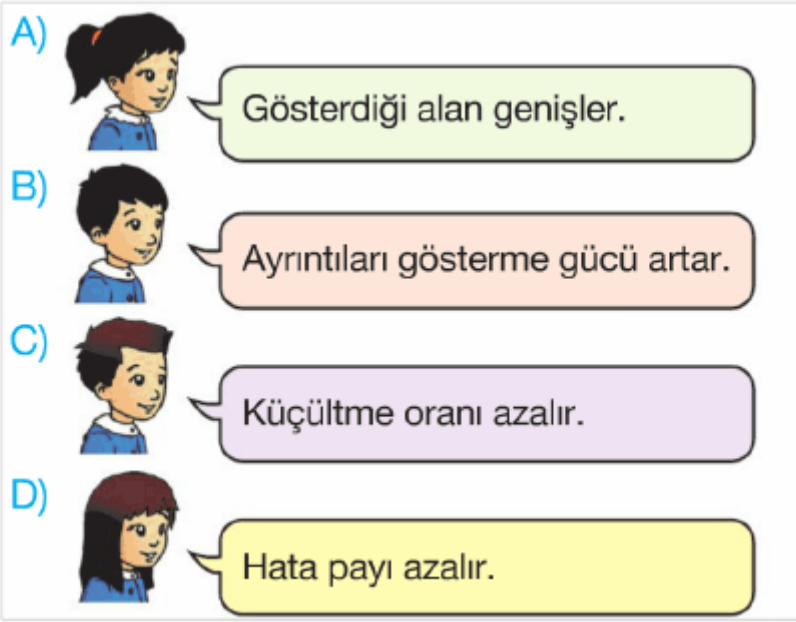
- A) En büyük paralel dairesi Ekvator'dur.
B) Uzunlukları Ekvator'dan kutuplara doğru kısalır.
C) Ard arda gelen iki paralel dairesi arasındaki uzaklık her yerde 111 km'dir.
D) Toplam olarak 360 paralel dairesi vardır.

Cevap : C

10.

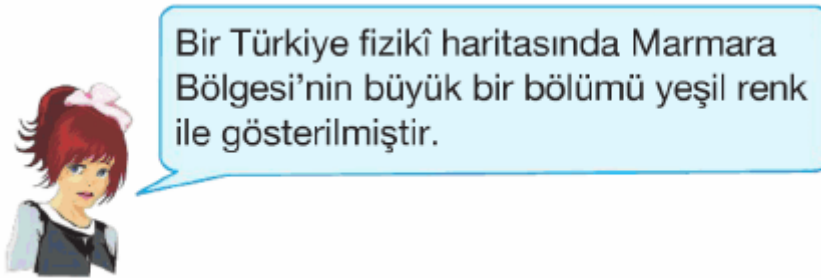


Öğretmen Faruk Bey'in bu sorusuna aşağıdaki öğrencilerden hangisi yanlış cevap vermiştir?



Cevap : A

11.



Bu durum, bölgenin aşağıdaki özelliklerinden hangisiyle ilgilidir?

- A) Bitki örtüsünün gür olmasıyla
- B) Yükseltisinin az olmasıyla
- C) İkliminin çeşitli olmasıyla
- D) Ekili - dikili alanlarının fazla olmasıyla

Cevap : B

12.



Yukarıda eşit boyutlu sayfalara çizilmiş olan dört farklı haritadan hangisinin ölçeğinin en büyük olması beklenir?

- A) 1 B) 2 C) 3 D) 4

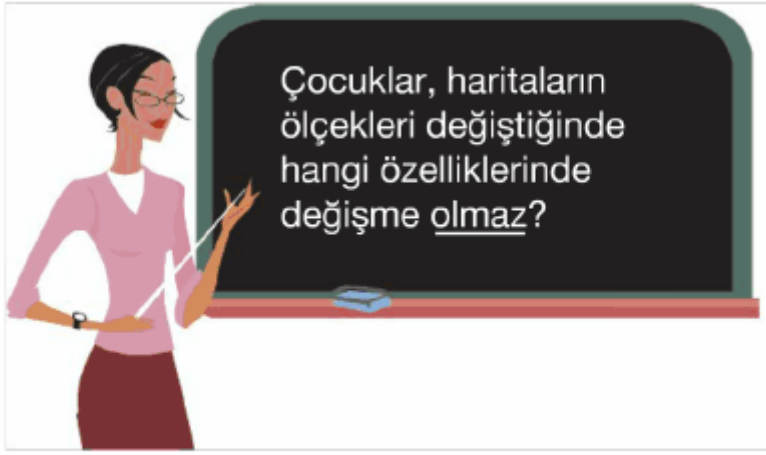
Cevap : C

13. Aşağıdakilerden hangisi harita ve krokinin ortak özelliklerinden biri olarak gösterilebilir?

- A) Kuş bakışı olarak çizilmeleri
B) Kabataslak çizilmeleri
C) Belli bir ölçekle çizilmeleri
D) Matematik konumları göstermeleri

Cevap : A

14.



Öğretmen Serpil Hanım'ın bu sorusuna, aşağıdaki öğrencilerden hangisi yanlış cevap vermiştir?

- A)  Ayrıntıları gösterme gücü
- B)  Haritanın kapladığı alan
- C)  Enlem ve boylam değerleri
- D)  Haritadaki uzunluk

Cevap : C

15. Aşağıdaki ölçeklerden hangisine göre çizilen bir haritada A ve B kentleri arasındaki uzunluk en fazla olur?

- A) 1 / 150000 B) 1/1200000
C) 1/1750000 D) 1/2600000

Cevap : A

[Online Test Çöz](#)

[Pdf İndir](#)