

1. Deniz ve okyanuslarda belli bir yönde hareket eden su kütlelerine akıntı denilmektedir.

- I. Yoğunluk farkı
- II. Seviye farkı
- III. Sürekli rüzgarlar

Akıntıların oluşmasında yukarıda verilenlerden hangileri etkili olmaktadır?

- A) Yalnız I
- B) Yalnız II
- C) I. ve II.
- D) I. ve III.
- E) I., II. ve III.

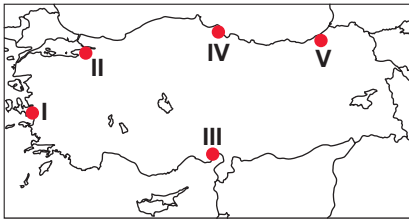
2. Aşağıdakilerden hangisinin oluşumunda dalgaların aşındırma ve biriktirme faaliyetleri etkili olmuştur?

- A) Moren
- B) Lös
- C) Barkan
- D) Lagün
- E) Fiyort

3. Aşağıdakilerden hangisi dalga birikim şekillerinden değildir?

- A) Falez
- B) Kıyı oku
- C) Tombolo
- D) Kumsal
- E) Kıyı kordonu

4. Dağların kıyıya paralel şekilde uzandığı yerlerde dalga aşınım şekillerine daha çok rastlanır?



Yukarıdaki bilgiye göre haritada işaretlenmiş yerlerden hangisinde dalga aşınım şekillerine daha fazla rastlanması beklenir?

- A) I
- B) II
- C) III
- D) IV
- E) V

5. Bir koyun önünün kıyı oku tarafından kapanmasıyla oluşan göllere lagün adı verilmektedir.

Lagünlerin oluşumunda aşağıda verilenlerden hangisi doğrudan etkili olmuştur?

- A) Akarsular
- B) Dalgalar
- C) Buzullar
- D) Volkanizma
- E) Yer altı suları

6.



Yukarıda oluşum aşamaları gösterilen yer şekli aşağıdakilerden hangisinde verilmiştir?

- A) Falez
- B) Tombolo
- C) Kıyı oku
- D) Kıyı kordonu
- E) Kemer

7. Karadeniz kıyıları falezlerin en fazla bulunduğu kıyılarımızdır.

Bu durumun oluşmasında Karadeniz kıyılarının hangi özelliği etkili olmuştur?

- A) Yağış miktarları
- B) Bitki çeşitliliği
- C) Dağların uzanışı
- D) Dalga boyları
- E) Deniz suyunun tuzluluk oranı

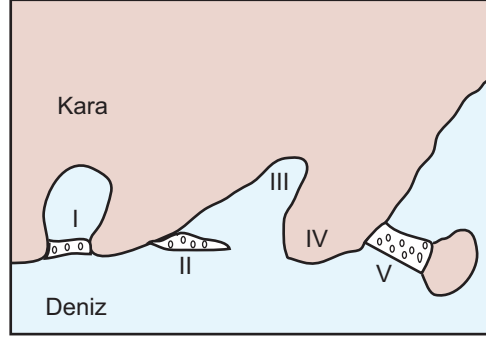
8. Aşağıda deniz kıyısında bulunan ve denize uzaklıkları aynı olan beş farklı yerin eğim oranları verilmiştir.

| | Eğim (%) |
|-----|----------|
| I | 5 |
| II | 12 |
| III | 2 |
| IV | 10 |
| V | 18 |

Bu yerlerden hangisinde falez oluşma ihtimali daha fazladır?

- A) I B) II C) III D) IV E) V

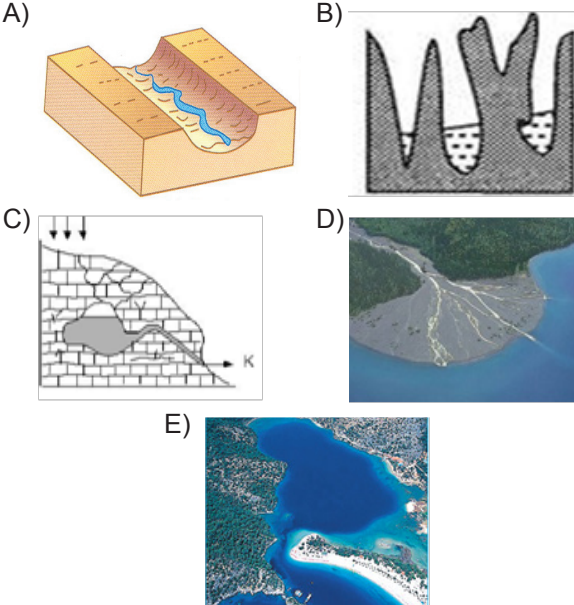
- 10.



Şekilde numaralarla gösterilenlerden hangisi yanlış verilmiştir?

- A) I. Lagün B) II. Kıyı oku
C) III. Koy D) IV. Delta
E) V. Tombolo

9. Aşağıdaki şekillerden hangisinin oluşumunda dalgaların biriktirme faaliyetleri etkili olmuştur?



11. Sıcak kuşakta mercan kalıntılarının üst üste birikmesiyle oluşan adalara ne denilmektedir?

- A) Fiyort B) Skyer
C) Atol D) Ria
E) Haliç

12. I. Dalga ve akıntıların etkisiz olması
II. Kıta sahanlığının geniş olması
III. Gelgit etkisinin fazla olması

Kıyılarda dalga birikim şekillerinin oluşabilmesi için yukarıda verilenlerden hangileri gereklidir?

- A) Yalnız I B) Yalnız II
C) I. ve II. D) I. ve III.
E) I., II. ve III.