

1) Aşağıdaki ifadelerden hangisi yanlıştır?

- A) Asansöre binerken yanımızda bir yetişkin olmalıdır.
- B) Islak zeminlerde oynamalıyız.
- C) Muslukları açık bırakmamalıyız.

2) Yandaki trafik ışığına uygun olarak aşağıdakilerden hangisi doğrudur?



- A) Yayılar geçebilir.
- B) Arabalar geçebilir.
- C) Hem yayılar hem arabalar geçebilir.

3) Yandaki trafik işaretinin anlamı aşağıdakilerden hangisidir?



- A) Okul geçidi
- B) Üstgeçit
- C) Yayılar giremez

4) Aşağıdakilerden hangisi acil telefon numaraları arasında değildir?

- A) 155
- B) 112
- C) 111

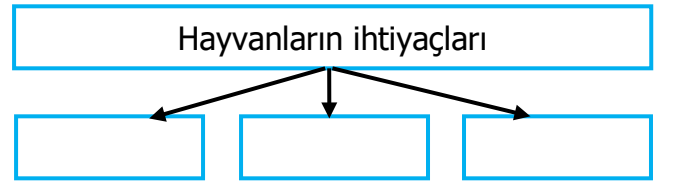
5) Aşağıdakilerden hangisi oyun oynamak için güvenlidir?

- A) Okul bahçesi
- B) Anayol kenarı
- C) İnşaat alanı

Tüm canlılar yaşamlarını sürdürebilmek için.....ihtiyaç duyarlar.

6) Yukarıdaki noktalı alana aşağıdakilerden hangisi yazılamaz?

- A) Suya
- B) Havaya
- C) Paraya



7) Tablodaki boşluklara aşağıdakilerden hangileri yazılmalıdır?

- A) Giysi-Para-Yemek
- B) Güneş-Hava-Su
- C) Toprak-Ev-Araba

8) Hangisi evcil bir hayvandır?

- A) Tavuk
- B) Kirpi
- C) Kurt

- ◆ İnsanlar için zararlıdır.
- ◆ Çevreyi güzelleştirir.
- ◆ Havayı temizler.


9) Yukarıdakilerden kaç tanesi bitkilerin faydalarındandır?

- A) 1 B) 2 C) 3

10) Aşağıdaki ifadelerden hangisi yanlıştır?

- A) Yediğimiz sebze ve meyveler bitkilerden elde edilir.
B) Bitkiler olmadan yaşam olmaz.
C) Bitkiler çevre kirliliğine neden olur.

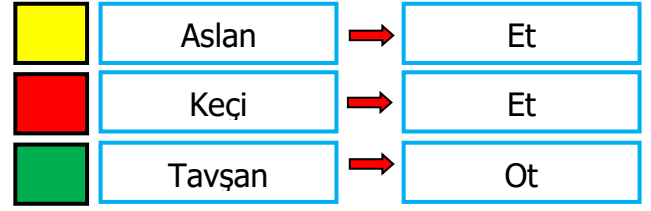
11) Yandaki görselde verilen yerde aşağıdaki hayvanlardan hangisi yaşar?



- A) Yabani hayvanlar
B) Evcil hayvanlar
C) Balıklar

12) Aşağıdakilerden hangisi dini bayramlarımızdan birisi değildir?

- A) Ramazan Bayramı
B) Kurban Bayramı
C) Zafer Bayramı



13) Hangi hayvanın beslenme durumu yanlış eşleştirilmiştir?

- A) ■ B) ■ C) ■

14) Aşağıdaki ifadelerden hangisi yanlıştır?

- A) Plastik maddeler doğaya zarar verir.
B) Plastik maddeleri kullandıktan sonra geri dönüşüme atmalıyız.
C) Plastik maddeleri daha çok kullanmalıyız.

15) Aşağıdakilerden hangisi evde kullandığımız bir teknolojik alet değildir?

- A) Tost Makinesi
B) Ultrason cihazı
C) Saç kurutma makinesi

16) Aşağıdakilerden hangisi doğrudur?

- A) Çocuklar süs havuzunda oynayabilirler.
B) Su kanalları çocuklar için tehlikelidir.
C) İnşaat alanlarında top oynayabiliriz.