

# 2013 Bursluluk 7. Sınıf Sosyal Bilgiler Testi Soruları Çöz

1. Aşağıdaki atasözlerinden hangisi, insan ilişkilerinde olumlu iletişimin önemini vurgular?

- A) “Kara haber tez duyulur.”
- B) “Laf ile peynir gemisi yürümez.”
- C) “Tatlı dil yılanı deliğinden çıkarır.”
- D) “Bir ağızdan çıkar, bin ağıza yayılır.”

Cevap : C

**2. 19. yüzyılda Osmanlı topraklarından geçen seyyah Sanz, gördüklerini şu şekilde anlatmıştır:**

**“... Adalet ve hukuk yoluyla toplum düzenini sağlayan Türkler, Hristiyan ve Müslüman farkı gözetmeksizin adaleti herkese eşit olarak tatbik ederler. Belli başlı kadıların masalarında İncil ve Tevrat birlikte bulunur. Hristiyanları İncil, Yahudileri Tevrat üzerine yemin ettirirler...”**

**(Sanz, Türkiye'nin Dört Yılı, sf: 93)**

**Seyyah Sanz'ın anlatımından hareketle, Osmanlı toplum yaşamı ile ilgili olarak aşağıdakilerden hangisi söylenemez?**

- A) Farklı inanç ve kültürler bir arada yaşamıştır.
- B) Osmanlı toplumu Türklerden oluşmuştur.
- C) Adalet ve hoşgörü anlayışı gelişmiştir.
- D) İnanç hürriyeti sağlanmıştır.

Cevap : B

### 3. Fatih Sultan Mehmet;

- Cenevizlilerden Amasra'yı almış,
- Trabzon İmparatorluğu'na son vermiş,
- Kırım'ı Osmanlı'ya bağlamıştır.

Fatih Sultan Mehmet'in bu faaliyetleri, Osmanlı Devleti'nin en çok hangi alanda gelişmesine katkı sağlamıştır?

- |          |            |
|----------|------------|
| A) Sanat | B) Tarım   |
| C) Bilim | D) Ticaret |

Cevap : B

### 4. Mevlana, Hacı Bektaş Veli ve Yunus Emre gibi şahsiyetler, Anadolu'nun Türk yurdu olmasına hangi alanda katkı sağlayarak hizmet etmişlerdir?

- |           |           |
|-----------|-----------|
| A) Fikrî  | B) Mali   |
| C) Askerî | D) Mimari |

Cevap : A

**5. Orhan Bey, Bursa'nın fethinden sonra Rumlara şehri teslim etmelerinin sebebini sorduğu zaman onlardan şu cevabı aldı:**

**“- Sizin devletinizin günden güne büyüdüğünü ve bizim devletimizin zayıfladığını anladık. Babanızın idaresine geçen köylülerin memnun kalıp bizi anmadıklarını gördük. Biz de bu rahatlığa heves ettik.”**

**Rumların cevabı, Osmanlı'nın kısa zamanda büyümesini sağlayan aşağıdaki nedenlerden hangisi ile ilişkilendirilebilir?**

- A) Kurulduğu bölgenin coğrafi konumu
- B) Adaletli ve hoşgörülü politika izlenmesi
- C) Güçlü bir merkezî yönetime sahip olması
- D) Başarılı bir iskân siyasetinin uygulanması

Cevap : B


**6. • Lale Devrinde matbaanın kurulması  
• II. Mahmut Döneminde ilk resmî gazete olan Takvim-i Vekâyî'nin yayımlanması**

**Yapılan bu ıslahatların, Osmanlı'da ortaya çıkaracağı değişim, aşağıdakilerden hangisidir?**

- A) Fikir hayatının gelişmesi
- B) Askerî yapının değişmesi
- C) Merkezî otoritenin güçlenmesi
- D) Ekonomik büyümenin gerçekleşmesi

Cevap : A

7.



**Ben Galileo Galilei. 1564'te doğdum. İtalyan teleskobik gök biliminin kurucusuyum. Astronomi alanında yaptığım çalışmalarla gezegenler ve Samanyolu hakkında ayrıntılı bilgiler edindim ve bu bilgileri yayınladım. Dünya'nın döndüğü görüşünü savunuyordum. Papalık tarafından bu görüşümden vazgeçmem istendi. Arkadaşımın papa seçilmesinden cesaret alarak yazdığım "İki Kâinat Sistemi Üzerine Konuşmalar" adlı kitabımı yayınladım. Ancak kitabım yasaklandı ve ben de ömür boyu hapse mahkûm edildim.**

**Galileo Galilei'nin karşılaştığı durumdan hareketle yaşadığı dönem için, aşağıdakilerden hangisi söylenebilir?**

- A) Düşünce hürriyeti vardır.
- B) Bilim özgürlüğü sağlanmıştır.
- C) Bilim adamları desteklenmiştir.
- D) Din-bilim çatışması yaşanmıştır.

Cevap : A

**8. Osmanlı Devleti'nde zeki ve yetenekli çocuklar, Enderun adı verilen okulda iyi bir eğitim gördükten sonra devletin önemli hizmetlerine atanırlardı.**

**Bu uygulama, Osmanlıların aşağıdakilerden hangisine önem verdiğini gösterir?**

- A) Taht kavgalarının önlenmesine
- B) Yönetici kadroların eğitilmesine
- C) Ülke bütünlüğünün korunmasına
- D) Merkezî otoritenin sağlanmasına

Cevap : B

**9. Birûnî; matematik, astronomi, eczacılık ve sosyoloji gibi değişik alanlarda çok sayıda eser vermiştir. Eski Yunan medeniyetini ve bilginlerini takdir etse de Aristo ve Batlamyus'un teorilerinden bazılarını karşı çıkarak Dünya'nın durağan değil, dönen bir kütle olduğunu ileri sürmüştür.**

**Parçada verilen bilgiye göre Birûnî hakkında, aşağıdakilerden hangisi söylenemez?**

- A) Çok yönlü bir bilim insanıdır.
- B) Dünya bilim mirasına katkıda bulunmuştur.
- C) Batı medeniyetine ait eserlerden yararlanmıştıdır.
- D) Buluşlarının doğruluğu yaşadığı dönemle sınırlı kalmıştır.

Cevap : B

**10. Birinci Dünya Savaşı'nın nedenlerinden biri de Fransız İhtilali ile dünyaya yayılan milliyetçilik akımıdır.**

**Birinci Dünya Savaşı'nın aşağıdaki sonuçlarından hangisi, verilen bu nedenin ortaya çıkardığı bir sonuçtur?**

- A) Milletler Cemiyetinin kurulması
- B) Mandacılık sisteminin ortaya çıkması
- C) İttifak Devletleri'nin savaştan yenik ayrılması
- D) İmparatorlukların yıkılması ve ulus devletlerin kurulması

Cevap : B

**11. Berk :** İlk Türk devletlerinde devlet işleri, toplanan Kurultayda görüşülerek yürütülürdü. Bugün de benzer uygulama Türkiye Büyük Millet Meclisi ile yapılmaktadır.

**Betül :** Türk milletinin devlet yönetimindeki bu uygulaması ne anlama geliyor?

**Berk :** .....

Yukarıda, Berk ile Betül arasında Türk devletlerinde yönetim şekli ve egemenlik anlayışındaki değişim ve süreklilikle ilgili bir konuşma geçmektedir.

**Bu konuşmada Berk'in söyleyebileceği en uygun cevap, aşağıdakilerden hangisi olabilir?**

- A) Devletin dinî kurallara göre yönetildiği
- B) Yönetimde fikir alışverişine önem verildiği
- C) Devlet başkanlarının sınırsız yetkilere sahip olduğu
- D) Yönetimde her zaman devlet başkanlarının kararlarının uygulandığı

Cevap : B



**12. Okulumuzda; Demokrasi, İnsan Hakları ve Vatandaşlık Kulübünün başkanlık seçimi için yedinci sınıflardan altı öğrenci adaylığını koydu. Yapılan oylama sonucunda en fazla oyu alan aday, kulüp başkanı oldu.**

**Parçada verilen bu uygulama, demokrasilerde görülen aşağıdaki prensiplerden hangisi ile ilişkilendirilebilir?**

- A) Hoşgörü  
C) Seçme-seçilme
- B) İnanç özgürlüğü  
D) Kuvvetler ayrılığı

Cevap : C

- 13. • 13. yüzyılda Anadolu'da kurulan esnaf ve zanaatkârlar birliğidir.**
- Dinî, ahlaki, sosyal ve ekonomik nitelikler taşır.
  - Meslek ahlakının geliştirilmesinde önemli bir yere sahiptir.

**Verilen özellikleri, aşağıdakilerden hangisiyle ilişkilendirebiliriz?**

- A) Medrese  
C) Ahilik teşkilatı
- B) Enderun  
D) Divan-ı Hümayun

Cevap : C

- 14.** I- Sorunların mecliste görüşülüp gerekli kanuni düzenlemelerin yapılması  
II- Hükûmetin çıkarılan kanunları uygulaması  
III- Anayasa Mahkemesinin meclisin çıkardığı kanunları denetlemesi

Verilen sürecin kavramlarla doğru ifade edilmiş hâli, aşağıdakilerden hangisidir?

<u>I</u>	<u>II</u>	<u>III</u>
A) Yasama	Yürütme	Yargı
B) Yasama	Yargı	Yürütme
C) Yürütme	Yasama	Yargı
D) Yargı	Yürütme	Yasama

Cevap : A

- 15.** I- Zorunlu eğitim süresini belirlemek  
II- Yardıma muhtaç öğrencilere burs vermek  
III- Okul, derslik, spor salonu gibi tesisleri yaptırmak  
IV- Eğitim-öğretim hakkı ile ilgili yasaları düzenlemek

Eğitim-öğretim hizmetlerinin gerçekleşmesinde, yukarıdakilerden hangileri maddi durumu iyi olan vatandaşlarımızın gönüllük esasına göre, üzerine düşen sorumluluklarındandır?

- |              |                 |
|--------------|-----------------|
| A) Yalnız II | B) I ve II      |
| C) II ve III | D) I, III ve IV |

Cevap : C

16 ve 17. soruları ařađıda verilen metne gre cevaplayınız.

**ALİ:** Ailemle Orta Anadolu'nun gneyinde kurak bir kyde yařardık. zellikle yazın kuraklıđa bađlı olarak byk su sıkıntısı ekilirdi. Tarımda sulama yapamadıđımız iin verim ve gelirimiz dřk olurdu. Zaten altı kardeřtik bu toprak hangi birimizi geindirecek!... Mecburen en byk ađabeyim hari tm kardeřler Ankara'ya g ettik, iř g sahibi olduk.

**16.** Ali Bey ve kardeřlerinin g tr ařađıdaki-lerden hangisidir?

- A) İ g B) Mbadele g  
C) Dıř g D) Beyin g

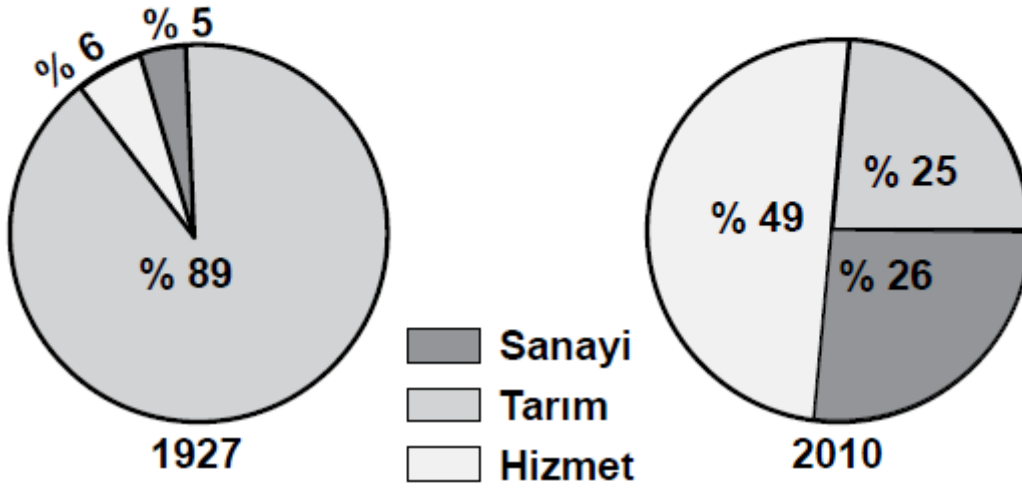
Cevap : A

**17.** Ailenin Ankara'ya gnn ncelikli sebebi ařađıdakilerden hangisidir?

- A) Sađlık sorunları  
B) Ekonomik sorunlar  
C) Eđitim yetersizliđi  
D) Tarımda makineleřme

Cevap : B

**18. Aşağıdaki grafiklerde Türkiye’de çalışan nüfusun iş kollarına dağılımı gösterilmiştir.**



**Bu grafiklere bakarak aşağıdakilerden hangisi söylenebilir?**

- A) Hizmet, en az gelişen sektördür.
- B) Tarımın ekonomideki önemi artmıştır.
- C) Sanayi sektöründe istihdam oranı artmıştır.
- D) Turizm, hizmet sektörünün gelişmesini sağlamıştır.

Cevap : C

**19. Aşağıdaki ülkelerden hangisinin ekonomik gelişiminde, sahip olduğu petrol yataklarının varlığı etkili olmuştur?**

- A) Almanya
- B) Japonya
- C) Yunanistan
- D) Suudi Arabistan

Cevap : C

**20. Türkiye Nüfus Haritası'nı inceleyen bir öğrenci, nüfusun öncelikle Marmara Denizi çevresinde yer alan illerde (İstanbul - Bursa - Kocaeli) yoğunlaştığını görür.**

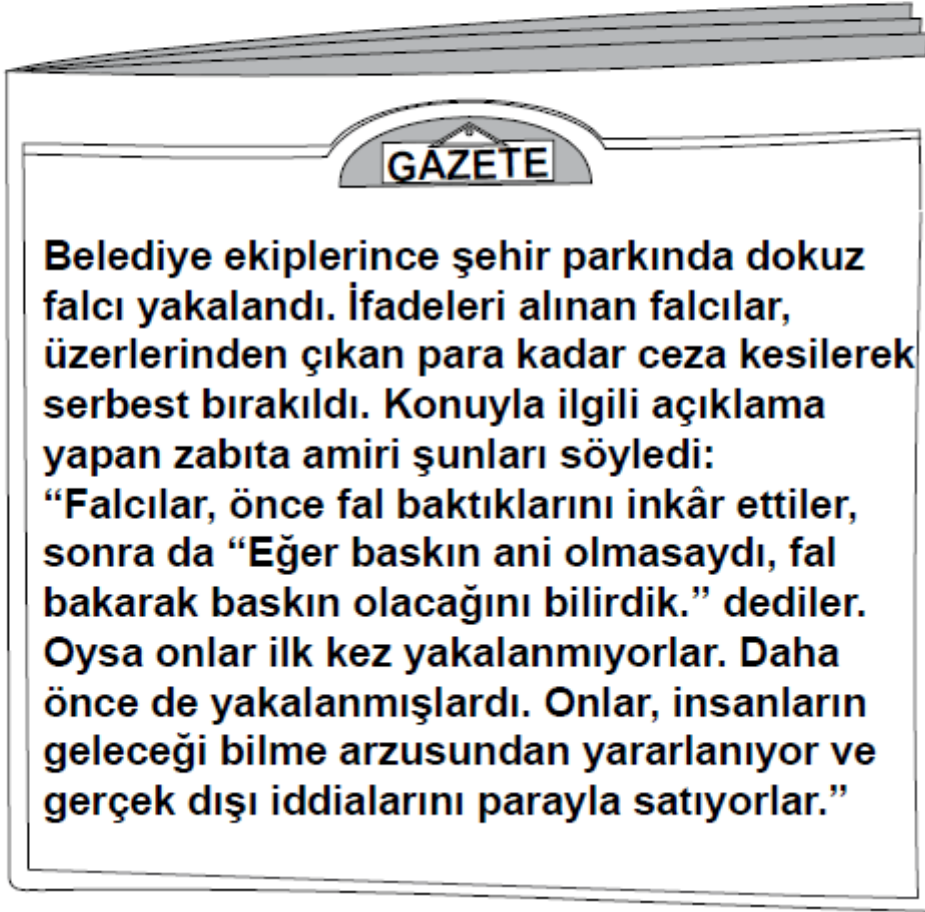
**Bu durumda bölgenin hangi özelliğinin etkisi olduğu söylenemez?**

- A) Olumlu iklim özelliklerinin
- B) Coğrafi konum özelliklerinin
- C) Gelişmiş bir sanayiye sahip olmalarının
- D) Fay hatlarının yakınında yer almalarının

Cevap : C

**DİN KÜLTÜRÜ VE AHLAK BİLGİSİ DERSİNİ  
OKUYANLAR AŞAĞIDAKİ SORULARI CEVAPLA-  
YACAKLARDIR.**

**21.**



**Bu habere göre, falcılar hakkında aşağıda-  
kilerden hangisi söylenemez?**

- A) Haksız kazanç elde etmektedirler.
- B) İnsanların geleceğe ilişkin meraklarını istis-  
mar etmektedirler.
- C) Fala bakarak zabıtalara kendilerine baskın  
yapacağını bilebilirler.
- D) Geleceğe ilişkin söyledikleri, bilimsel temele  
dayanmamaktadır.

Cevap : C

**22. “Oruç, (kötülüklerden koruyan) bir kalkandır. Sizden biriniz oruçlu iken kötü söz söylemesin, kavga etmesin. Ona birisi kötü söz söyleirse, ‘Ben oruçluyum’ desin.”**

**(Buhari, Savm, 9.)**

**Ramazan ayında oruç tutan Hatice'nin bu hadisi öğrendikten sonra aşağıdaki davranışlardan hangisini yapması beklenir?**

- A) Kötülüklerden kaçınması
- B) Nimetlerin değerini bilmesi
- C) Sağlığına özen göstermesi
- D) Düşkünlere yardım etmesi

Cevap : A

**23. Din Kültürü ve Ahlak Bilgisi öğretmeni Mustafa Bey, öğrencilerinden Hz. Muhammed'in insani yönüyle ilgili Kur'an-ı Kerim mealinden ayetler bulmalarını istedi.**

**Buna göre, Zehra'nın bulduğu aşağıdaki ayetlerden hangisi konu ile ilgili değildir?**

- A) *"De ki: Ben de ancak sizin gibi bir insanım. (Ne var ki) bana, 'İlahınız ancak bir tek ilahtır' diye vahyolunuyor..."* (Kehf suresi, 110. ayet.)
- B) *"De ki: Ben size, 'Allah'ın hazineleri benim yanımdadır.' demiyorum. 'Ben gaybı da bilmem. Size, 'Ben bir meleğim' de demiyorum. Ben sadece bana gönderilen vahye uyuyorum..."* (En'âm suresi, 50. ayet.)
- C) *"Bu nasıl peygamber, (bizler gibi) yemek yiyor, çarşıda dolaşıyor! O'na kendisiyle beraber uyarıcı olarak bir melek indirilmeli değil miydi? dediler."* (Furkân suresi, 7. ayet.)
- D) *"Ey Peygamber! Biz seni bir şahit, bir müjdeleyici, bir uyarıcı; Allah'ın izniyle onun yoluna çağıran bir davetçi ve aydınlatıcı bir ışık olarak gönderdik."* (Ahzâb suresi, 45 ve 46. ayetler.)

Cevap : A



**24. Gelin tanış olalım,  
İşi kolay kılalım,  
Sevelim sevilelim,  
Bu dünya kimseye kalmaz.**

**Yunus Emre**

**Bu dizelerden çıkarılabilecek ahlaki değer  
aşağıdakilerden hangisidir?**

- A) Adalet  
B) Hoşgörü  
C) Alçak gönüllülük  
D) Diğerkâmlık

Cevap : B

**25. “Melekler ve ruh (Cebrail) O’na süresi elli  
bin yıl olan bir günde yükselir.”**

**(Meâric suresi, 4. ayet.)**

**Bu ayet, meleklerin aşağıdaki özelliklerin-  
den hangisine delil oluşturur?**

- A) Hızlı olduklarına  
B) Yiyip içmediklerine  
C) Kuvvetli olduklarına  
D) Cinsiyetleri olmadığına

Cevap : A

**[Online Test Çöz](#)**

**[Pdf İndir](#)**