


2014 Bursluluk 7. Sınıf Sosyal Bilgiler Testi Soruları Çöz

1.

Sınıfımıza yeni gelen Emel, teneffüslerde bile bahçeye hiç çıkmıyor, sürekli sırasında oturuyor. Galiba sınıfımıza ve okula daha alışamadı. Ben de olsaydım sanırım onun gibi davranırdım.



Emel'in durumunu gözlemleyerek düşüncelerini dile getiren Ece, aşağıda verilen olumlu iletişim kurallarından hangisini uygulamıştır?

- A) Sabırlı olma
- B) Empati kurma
- C) Göz temasında bulunma
- D) Kendini doğru ifade etme

Cevap : B

2. I- Üretilen bilgiler, dünyanın her yerine kolayca yayılmıştır.
II- Toplumdan kopuk bireylerin sayısında artış yaşanmıştır.
III- Uluslar, birbirlerini daha yakından tanıma imkânı bulmuştur.
IV- Kuşaklar arası kültürel çatışma daha belirgin bir hâle gelmiştir.

Yukarıdaki ifadelerden hangileri, kitle iletişim araçlarının zararlı etkilerini dile getirmektedir?

- A) I ve II
B) I ve III
C) II ve IV
D) III ve IV

Cevap : C

3.

Bazen hiç umulmadık adamdan, ben pek çok şeyler öğrenmişimdir. Hiçbir düşünceyi, değersiz görmemek lazımdır. Neticede, kendi fikrimi uygulayacak bile olsam, herkesi ayrı ayrı dinlemekten zevk alırım.



Atatürk bu düşüncesiyle, aşağıdakilerden hangisini vurgulamak istemiş olabilir?

- A) Bütün fikirlere değer verilmesi gerektiğini
- B) Fikir ayrılığına düşmenin yanlış olduğunu
- C) Her insanın fikir üretmesi gerektiğini
- D) Mantıklı fikirleri dinlediğini

Cevap : A

4. “Yahudilerin toptan öldürüldüğü, Engizisyon Mahkemelerinin ölüm saçtığı bir devirde Osmanlılar, idareleri altındaki çeşitli dinlere bağlı kimseleri barış ve uyum içinde yaşatıyorlardı.”

Gibbons

Osmanlı Devleti'nin Kuruluşu, s.22


Gibbons'un sözlerinden hareketle, Osmanlı toplumu hakkında, aşağıdakilerden hangisi söylenemez?

- A) Hoşgörü kültürü gelişmiştir.
- B) İnanç birliği kurulmuştur.
- C) Din hürriyeti hayat bulmuştur.
- D) Birlikte yaşama fikri oluşmuştur.

Cevap : B

5.

Sevgili öğrenciler! Sizlere, Selçuklular zamanında Anadolu'nun Türkleşmesinde rol oynayan, halkı eğiten, yeni toprakların vatan olarak benimsenmesine önemli katkı sağlayan bazı kişiler hakkında bilgi vermek istiyorum.



Aşağıdakilerden hangisi, derse giriş konuşmasını yapan öğretmenin anlatmak istediği kişilerden biri olabilir?

- A) Takiyüddin
- B) Yunus Emre
- C) Akşemseddin
- D) Barbaros Hayreddin Paşa

Cevap : B

6.

Bir gün Germiyanogulları Beyliđi'nden gelen biri, Bilecik Rumlarından bir kiřiden bardak satın almıř, ancak parasını ödememiřti. Parasını alamayan satıcı, Osman Bey'e gelerek řikâyette bulundu. Bunun üzerine Osman Bey, Germiyanlıyı çağırarak Rum'un hakkını ondan aldı. O günden sonra haksızlıđa uğrayanların kendisine müracaat etmesini istedi.

Ahmet Simsirgil. Kayı I. s.32

Verilen durum, Osmanlı Beyliđi'nin güçlenmesini sađlayan ařađıdaki faktörlerden hangisiyle iliřkilendirilebilir?

- A) Adalet anlayıřıyla
- B) Hořgörü fikriyle
- C) İskân politikasıyla
- D) Yöneticilerin yeteneđiyle

Cevap : A

7. Osmanlı Devleti; Anadolu, Suriye ve Mısır bölgelerine egemen olduğunda, bu bölgeler için stratejik ve merkezî bir üs konumunda olan Kıbrıs Adası, Venedik'in idaresinde bulunuyordu. Bu yıllarda ada, Doğu Akdeniz'de Hristiyanların kalesi durumundaki tek yerleşim yeri idi. Ayrıca Kıbrıs kralı zaman zaman, Osmanlı aleyhine kurulan ittifaklara da yardımlarda bulunuyordu.

Verilen bilgiden hareketle Kıbrıs'ın fethinin, Osmanlı Devleti'ne;

- I- dinî**
- II- iktisadi**
- III- siyasi**
- IV- askerî**

alanların hangilerinde katkı sağladığı söylenebilir?

- A) I ve II**
- B) II ve III**
- C) III ve IV**
- D) I, III ve IV**

Cevap : A

8.

Bıraktıkları hayratlar hangi çeşit olursa olsun bizdekinden fazladır. Bu yüzden yaşarken bile bizden daha cömerttirler. Dört padişah tarafından yapılan dört büyük caminin etrafı hayrat ile doludur. Kasabalar ve تنها yol kıyılarına yolcular için kervan-saraylar yaptırır, yollar açtırırlar. Su olmayan yerlere çeşmeler ve tuvaletler yaptırır- lar. Halkın ücretsiz faydalandığı bu yapılar öyle muhteşemdir ki saraya benzer.

M. Serrano Y. Sanz
Türkiye'nin Dört Yılı, 1552-1556; s.89

Seyyah Sanz'ın, Osmanlı ile ilgili bu anlatımından Türk kültürüne ait aşağıdaki unsurlardan hangisi çıkarılabilir?

- | | |
|-------------------|----------------|
| A) İyilikseverlik | B) Adaletlilik |
| C) Mütevazılık | D) Eşitlik |

Cevap : A

9.

Konuřmanın, saklanabilecek bir biçimde aktarılmasının yolunu bulduk. Kil tabletler üzerine, tapınağa getirilen malları ucu sivri bir kamař kalemle malı gösteren iřaret ya da resimler çizdik. Çiftçilerin tapınağa getirdikleri yulafları kaydettik. Sonra, yulaf resmini kil tabletler üzerine çizdik. Böylece yulaf iřareti, yazının ilk bařlangıcı sayıldı.



Sizce bu konuřmayı yapan çocuk, ařağıdaki uygarlıkların hangisinde yařamıřtır?

- A) Asur B) Sümer C) Mısır D) Hitit

Cevap : B

10. • Coğrafya ve astronomi ile de uğraşan Harezmî, en önemli çalışmalarını matematik alanında yaptı. Sıfırı matematiğe kazandırdı. Cebir ile ilgili kitabı tercüme edilerek 17. yüzyıla kadar Avrupa üniversitelerinde okutuldu.
- İbn-i Sina; tıp, felsefe ve diğer bilimlerdeki çalışmalarıyla tanınır. Özellikle tıp alanında yazmış olduğu “El Kanun-Fi’t-Tıp” (Tıp Kanunu) adlı eseri, Doğu ve Batı ülkelerinde uzun yıllar okutulmuştur.

Bu bilgilere göre; aşağıdaki yargılardan hangileri Harezmî ve İbn-i Sina'nın ortak özelliklerindedir?

- I- Aynı dönemde yaşamış olmaları
- II- Çalışmalarının evrensel nitelik taşımaları
- III- Benzer alanlarda eserler vermeleri
- IV- Çok yönlü çalışmalar yapmaları

- A) I ve II
- B) I ve III
- C) III ve IV
- D) II ve IV

Cevap : B

11. Leonardo da Vinci, insanın anatomik yapısını inceleyerek doğru tasvir etmeyi amaçladı. Anatomi alanındaki çalışmalarıyla bilim tarihinde bilinen ilk robot tasarımını yaptı. 1495 yılında yaptığı bu tasarım ancak 1950'lerde keşfedildi. Da Vinci'nin "Leonardo'nun robotu" adı verilen bu tasarımı, kalp rahatsızlıklarının tedavisi için, 2005 yılında bir İngiliz kalp cerrahına esin kaynağı oldu.

Bu bilgiye göre, Leonardo da Vinci'nin çalışmalarıyla ilgili olarak aşağıdakilerden hangisi söylenemez?

- A) Bilimsel alanda özgün buluşlar yapmıştır.
- B) Çalışmaları, tıp biliminin gelişmesine katkı sağlamıştır.
- C) Eserleri, günümüz doktorlarına ilham kaynağı olmuştur.
- D) Buluşlarının bilimsel geçerliliği, dönemiyle sınırlı kalmıştır.

Cevap : B

12. Galileo (Galile), “Dünya dönüyor!” dediği için ölüm cezasına çarptırıldı. Ölüm cezasından kurtulmak için kilisenin doğrularına evet demek zorunda kaldı. Mahkeme çıkışında söylediği “Ben ne dersem diyeyim, o dönmeye devam ediyor.” sözleri uzun süre bilim çevresinin dilinden düşmemiştir.

Galile bu sözü ile aşağıdakilerden hangisine vurgu yapmak istemiş olabilir?

- A) Kilisenin bilimi desteklediğine
- B) Bilim ile dinin uzlaştırıldığına
- C) Bilimsel doğruların değişmeyeceğine
- D) Fikirlerinde her zaman ısrarcı olduğuna

Cevap : C

13. Osmanlı Devleti’nde tımar sahipleri mazeretsiz olarak üç yıl arka arkaya toprağı boş bırakırlarsa; devlet tımar sahibinin elinden o toprağı geri alırdı.

Bu uygulamanın temel amacı aşağıdakilerden hangisidir?

- A) Ülke bütünlüğünü korumak
- B) Tarımsal çeşitliliği artırmak
- C) Üretimde devamlılığı sağlamak
- D) Köylerde ticareti canlandırmak

Cevap : C

- 14.**
- Hastane
 - Medrese
 - İmarethane

Verilen vakıfların işlevleri ile aşağıdaki hizmetler eşleştirildiğinde hangi seçenek dışarıda kalır?

- A) Üretim faaliyetlerini denetlemek
- B) Eğitim faaliyetlerini yürütmek
- C) Toplumsal yardımlaşmayı sağlamak
- D) Topluma sağlık hizmeti vermek

Cevap : A

15. İlk Türk devletlerinde, Tanrı'nın egemenlik hakkını doğrudan kağana verdiğiğine inanılan kut anlayışı vardı. Kutun kan yoluyla hükümdarın tüm erkek çocuklarına geçtiğine inanılırdı. Bütün hanedan üyelerinde kut olduğundan kendine siyasi ve askerî bakımdan güvenen kişi taht kavgasına girebilirdi.

Bu bilgilerden, ilk Türk devletlerindeki hükümdarlık anlayışı ile ilgili olarak aşağıdakilerden hangisi çıkarılamaz?

- A) Hükümdarlık görevi kutsal kabul edilmiştir.
- B) Her hanedan üyesinin kağan olabilme hakkı vardır.
- C) Kut anlayışına göre hükümdarlık en büyük oğula verilir.
- D) Hükümdar olma yöntemi iç istikrarsızlıklara sebep olmuştur.

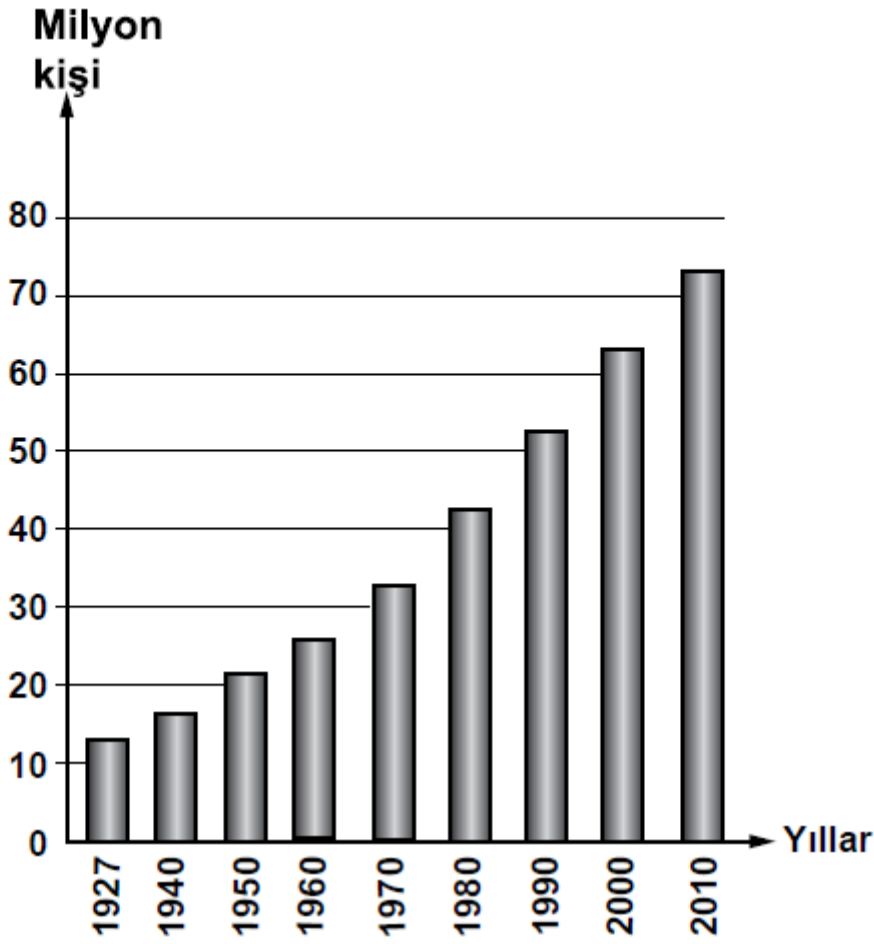
Cevap : C

16. Aşağıdakilerden hangisi bir bölgenin nüfus bakımından yoğunlaşmasını olumsuz etkiler?

- A) Gür ormanlar
- B) Sanayi tesisleri
- C) Su kaynakları
- D) Verimli topraklar

Cevap : A

17.



Yukarıdaki grafikte bazı sayım yıllarına göre Türkiye nüfusu gösterilmiştir.

Grafığe bakarak aşağıdakilerden hangisi söylenebilir?

- A) Her yıl nüfus artış miktarı aynıdır.
- B) Nüfus sürekli olarak artış göstermiştir.
- C) 2010'da nüfusumuz 80 milyondan fazladır.
- D) 1940-1950 arası nüfusumuz 15 milyon artmıştır.

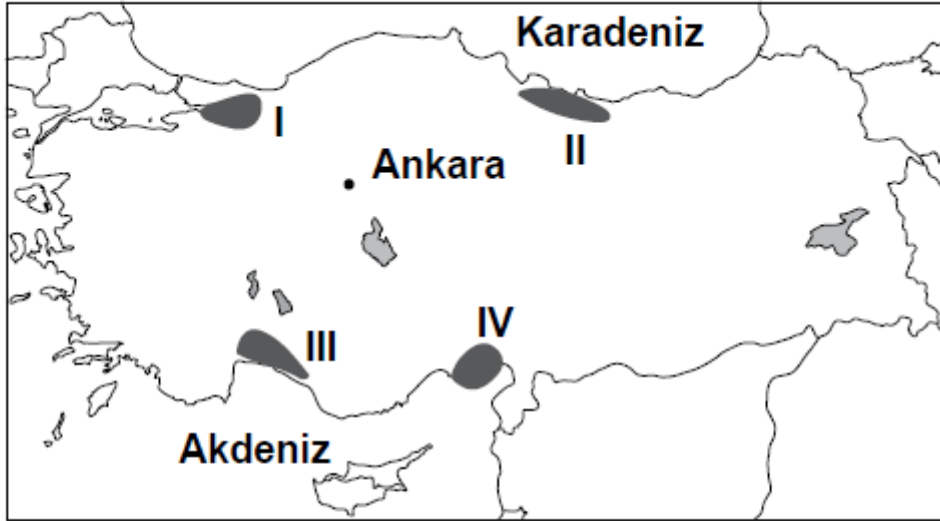
Cevap : B

18. Türkiye’de modern teknikleri kullanarak tarımda verimin arttırılmak istenmesinin en önemli sebebi aşağıdakilerden hangisidir?

- A) Gıda fiyatlarının yükselmesi
- B) Tarımsal iş gücünün azalması
- C) Topraklarımızın erozyona uğraması
- D) Tarım ürünlerine olan talebin artması

Cevap : B

19.



Haritada numaralandırılarak verilen alanların hangisinde nüfusun artmasında turizm sektörünün etkisi daha fazla olmuştur?

- A) I
- B) II
- C) III
- D) IV

Cevap : C

20. Aşağıdakilerden hangisi üretim teknolojisindeki gelişmelerin olumlu yönlerinden biridir?

- A) İnsanların refah seviyesini yükseltmesi
- B) Bazı el sanatlarını ortadan kaldırması
- C) Doğal kaynakları daha hızlı tüketmesi
- D) Ülkeler arasında gelişmişlik farkını arttırması

Cevap : A

21. Zehra, çevresindekilere yardım etmeyi ilke edinen annesini “Benim annem bir melektir.” diye severdi.

Zehra bu ifadesiyle annesinde bulunan meleklerin hangi özelliğini vurgulamak istemiştir?

- A) Hatasız bir insan olduğunu
- B) İyilik ve güzellik sahibi olduğunu
- C) Nurdan yaratılmış olduğunu
- D) Güçlü ve kuvvetli olduğunu

Cevap : B

22. “Gerçekleşeceğinden hiç bir şüphe bulunmayan, kendilerini bir araya topladığımız ve her şahsa yaptığının karşılığının tam verilip asla haksızlığa uğratılmadığı o gün gelince halleri ne olacak.”

(Al-i İmran Suresi, 25. ayet)

Bu ayetin konusu aşağıdakilerden hangisidir?

- A) Allah inancı B) Kitap inancı
C) Ahiret inancı D) Peygamber inancı

Cevap : C

23. Aşağıda verilen ibadetlerden hangisi yalnız Ramazan ayında yapılır?

- A) Vitr namazı B) Fıtır sadakası
C) Kurban D) Zekat

Cevap : B

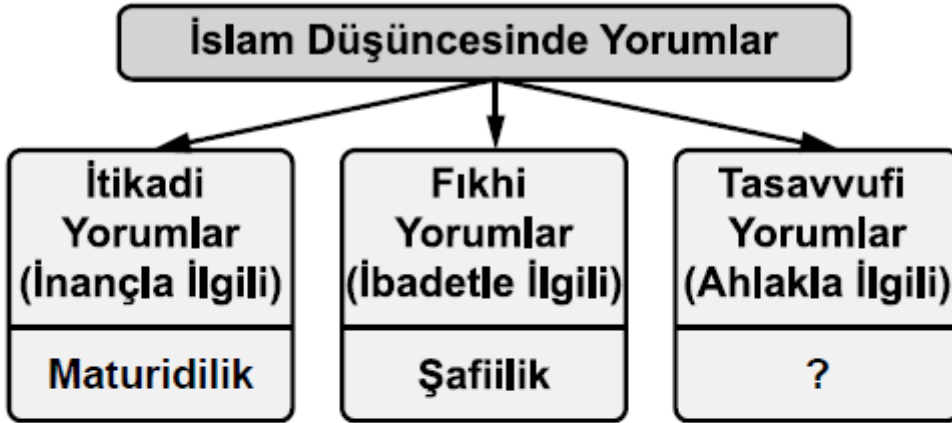
24. Deki: “**Ben size, Allah’ın hazineleri benim yanımdadır, demiyorum. Ben gaybı da bilmem. Size, Ben bir meleğim de demiyorum. Ben sadece bana gönderilen vahye uyarım...**” (En’am suresi, 50. ayet)

Bu ayet Peygamberimizin hangi yönüne işaret etmektedir?

- A) Her şeyi bildiğine
- B) Son peygamber olduğuna
- C) Günahsız olduğuna
- D) Bir insan olduğuna

Cevap : B

25.



Bu şemada tasavvufi yorumlarla ilgili boş bırakılan bölüme aşağıdakilerden hangisi yazılmalıdır?

- A) Eşarilik
- B) Hanefilik
- C) Yesevilik
- D) Caferilik

Cevap : C

