

1. ✓ Yapraklar sararır ve dökülmeye başlar.
✓ Elmalar toplanır.

Yukarıdaki olaylar hangi mevsimde yaşanır?

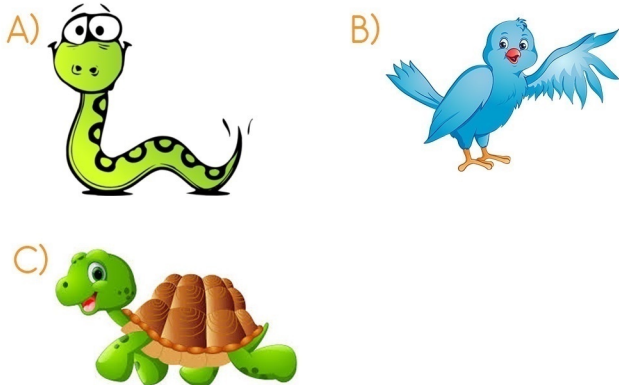
- A) İlkbahar B) Yaz
C) Sonbahar

2. Evde bakılabilen, insanlara alışmış olan hayvanlara denir.

Yukarıdaki cümleyi en uygun hangi ifade ile tamamlamalıyız.

- A) evcil hayvanlar B) vahşi hayvanlar
C) sevimli hayvanlar


3. Aşağıdaki hayvanlardan hangisi türü bakımından diğerlerinden farklıdır?



4. Aşağıdaki hayvan barınma yerleri eşleştirmesinde hangi seçenek yanlıştır?

- A) tavuk - kümes B) koyun - ahır
C) solucan - toprak altı

5. Aşağıdakilerden hangisi söğüt ağacıdır?



- 6.




Yukarıdaki görsellerin kaç tanesinde çocukları bitki ve hayvanlara karşı doğru davranışı gösterilmiştir?

- A) 4 B) 3 C) 2

7. Aşağıdaki davranışlardan hangisi yanlıştır?

- A) Piknik dönüşünde çöplerimizi toplamalıyız.
B) Sokakta yaşayan hayvanlara yiyecek vermemeliyiz.
C) Çevreye zarar verenleri nazik bir dille uyarmalıyız.

8. Aşağıdakilerden hangisi geri dönüştürülebilir bir madde değildir?



9. Dünya'ya en yakın gök cisimidir.
 Dünya'dan büyük, güneşten küçüktür.
 Şekli küreye benzer.

Yukarıda ay ile ilgili verilen bilgilerden hangileri doğrudur?

- A) B)
C)

10. Güneş Dünya'nın ısı ve ışık kaynağıdır.
 Güneş Dünya'dan küçüktür.
 Güneş, Dünya, Ay ve yıldızlar uzay adı verilen boşlukta yer alırlar.

Yukarıdaki bilgileri doğru(D) ve yanlış(Y) olarak işaretlediğimizde hangi seçenekteki görüntü oluşur?

- A) B) C)



11. Okullar açıldığında aşağıdaki hangi olay gerçekleşebilir?

- A) Bazı hayvanlar kış uykusuna yatarlar.
B) Göçmen kuşlar sıcak ülkelere göç eder.
C) Gündüzler uzun, geceler daha kısadır.

12. Yeni yılı hangi mevsimle karşılarız?

- A) Kış B) Yaz C) Sonbahar

13. Aşağıdaki hayvanlardan hangisi farklı bir ortamda yaşar?



Yukarıdaki hayvanların kaç tanesi evcil hayvandır?

- A) 4 B) 5 C) 6