

3.SINIF

6.Ünite: Doğada Hayat

- ✓ Bitkiler olmasaydı yeryüzünde yaşam olmazdı.
✓ Bitkiler kökleri ile hem toprak kaymasını hem de sel sularının zararlarını engeller.
✓ Bazı hayvanların etinden, sütünden, bazıları-
nın da yumurtasından veya derisinden yarar-
lanırız.

Yukarıdaki ifadelerden kaç tanesi doğrudur?

- A) 1 B) 2 C) 3

2. ① Işık ② Su ③ İlaç ④ Isı

Meyve ve sebzelerin yetişmesi için hangilerine ihtiyaç vardır?

- A) 1, 2, 3 B) 1, 2, 4 C) Hepsi

3. Bazı meyve ve sebzeler soğuk hava şartlarına dayanıklı olduğu için ülkemizin pek çok yerinde yetişebilir.

Aşağıdaki meyvelerden hangisi bu gruba girmektedir?

- A) Muz B) Portakal C) Armut

4. Geceleyin doğadan yararlanarak yön bulabileceğimiz yöntem hangisidir?

- A) Pusula
B) Kutup Yıldızı
C) Ağaçlardaki Yosunlar

5. ▲ Nüfus artışı
● Tarım arazilerine ürün ekilmesi
■ Ağaçların bilinçsizce kesilmesi

Yukarıdakilerden hangileri doğaya zarar verir?

- A) ▲ ■ B) ▲ ● ■ C) ● ■




6. Aşağıdaki vakıflardan hangisi çevre koruma ile ilgili değildir?

- A) ÇEKÜL B) Kızılay C) ÇEVKO

7.

Karınca yuvalarının ağzı kuzeyi gösterir.	Ağaçların ve kayaların yosun tutan tarafları kuzey yönünü gösterir.
Kutup Yıldızı kuzeyi gösterir.	Güneş tam tepede iken yere dikilen bir çubuğun gölgesinin bulunduğu taraf güneyi gösterir.

Yukarıda verilen tablodaki doğru ifadeleri boyadığımızda hangi şekli elde ederiz?

- A) 
- B) 
- C) 

8. Aşağıdakilerden hangisi geri dönüştürülebilir bir ürün değildir?

- A) Oyuncak B) Pet şişe C) Pil

6.Ünite: Doğada Hayat

9. ★ Ağaç dikmek

- Bütün atıkları aynı çöp kutusuna atmak
- Bilinçsiz avlanmayı engellemek

Yukarıdaki ifadelerden hangileri doğayı korumak için alınabilecek önlemlerden biridir?

- A) ★ B) ● ■ ★
C) ★ ●

10. Aşağıdaki hangi hayvan nesli tükenme tehlikesi yaşamaktadır?

- A) Fil B) Panda
C) Aslan

11. Önümü doğuya çevirdiğimde sağ kolum nereyi gösterir?

- A) Güney B) Kuzey C) Batı

12. Çöpe atılan piller, toprağı ve su kaynaklarını kirletmektedir.
 İnsanlar her zaman doğayı olumsuz etkilerler.
 Bazı atıklar uzun yıllar toprakta çürümez ve çevreye, canlılara zarar verir.

Yukarıdaki ifadelerden doğru olanların yanına "D", yanlış olanların yanına "Y" yazdığımızda hangi seçenek doğru olur?

- A) D Y D
 Y Y Y
 D Y Y

13. Aşağıdakilerden hangisi en güvenilir yön bulma yöntemidir?

- A) Ağaç yosunu
B) Kutup Yıldızı
C) Pusula

14. Yeni tarım alanları açmak, odun elde etmek, ev ve eşya yapmak için ağaçların kesilmesi zarar verir.

Yukarıdaki cümlede boş bırakılan yere hangisi getirilemez?

- A) ormana
B) ekonomiye
C) çevreye

15. Aşağıdaki hangi hayvanın hem etinden, hem sütünden, hem de derisinden faydalanırız?

- A) Koyun B) Tavuk
C) Eşek