


# 2.SINIF

## 6.Ünite: Doğada Hayat

1. ■ Bitkilerin büyümesi için ısı, hava ve suya ihtiyaçları vardır.  
▲ Bitkiler toğraktan aldığı suyu sadece köklerinde kullanır.  
● Bitkiler tphumun çimlenmesiyle oluşur.

Yukarıdaki ifadelerden hangileri doğrudur?

- A) ■ ▲ ●      B) ■ ●  
C) ■ ▲

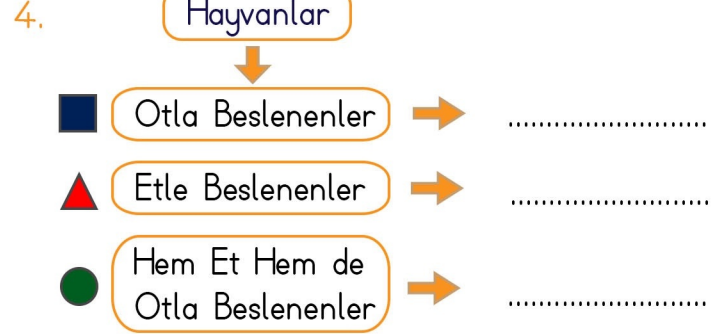


Bir tohumun bitki olabilme aşamalarını sıralarsak yukarıdaki görsellerin sıralanışı hangi seçenekte doğru olarak gösterilmiştir?

- A) 2-4-1-3      B) 2-1-4-3  
C) 4-2-1-3

3. Aşağıdakilerden hangisi bitkilerin faydalarından değildir?

- A) Çevreyi güzelleştirir.  
B) Havayı temizler.  
C) Yağmurun yağmasını engeller.



Yukarıdaki şemaya göre hayvanlar gruplandırılmıştır. Bu gruplamaya göre hangi seçenekteki eşleştirme doğrudur?

- A) ■ → İnek      B) ▲ → Aslan  
● → Tavuk      ■ → Kartal  
C) ▲ → Koyun  
● → Siğir

5. "Dünya'da hiç bitki olmasaydı ....."

Cümlesi aşağıdakilerden hangisiyle tamamlanamaz?

- A) insanlar ve hayvanlar beslenemezdi.  
B) temiz hava azalır, hava kirliliği oluşurdu.  
C) çok yağmur yağardı.

6. Aşağıdakilerden hangisi geri dönüştürülebilir atıktır?



## 6.Ünite: Doğada Hayat

7. Aşağıdaki ifadelerden hangisi yanlıştır?

- A) Verimli toprakların ve su kaynaklarının olduğu yerde nüfus daha fazladır.
- B) Dağlık arazilerin bulunduğu yerlerde sanayi daha gelişmiştir.
- C) İklim şartlarına bağlı olarak insanların kıyafetlerinde, yiyeceklerinde farklılık olabilir.

8.

kar

dolu

uçurum

rüzgar

girdap

sis

Yukarıdakilerden kaç tanesi bir hava durumudur?

A) 6

B) 5

C) 4

9. Toprak ve kayaların büyük parçalar hâlinde yamaçlardan aşağı sürüklenmesi ile oluşan doğal afet hangisidir?

A) Deprem

B) Heyelan

C) Fırtına

10. Aşağıdakilerden hangisi doğal afetlerde zarar görenlere ilk yardım, yiyecek, giyecek gibi yardım yapan kuruluşlardan değildir?

A) TEMA

B) Kızılay

C) AFAD

11. Aşağıdakilerden hangisi selin zararlarına karşı yapılacak önlemlerden değildir?

- A) Sel tehlikesi olan yerlerde yüksek sesle konuşulmamalıdır.
- B) Dere yataklarına ev yapılmamalıdır
- C) Ağaçlandırma çalışmaları yapılmalıdır.

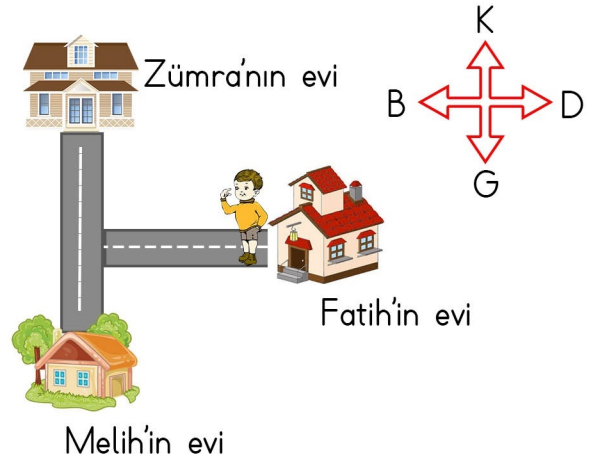
12. Dünya'nın güneşin etrafında dönmesi sonucu aşağıdakilerden hangisi oluşur?

A) Hafta

B) Gece ve gündüz

C) Mevsimler

13.



Fatih evinden çıkarak Melih'in evine gitmek istiyor. Buna göre Fatih, sırasıyla hangi yönlere doğru yürümelidir?

A) Önce batı, sonra güney

B) Önce batı, sonra kuzey

C) Önce doğu, sonra güney