

1) "İnsan eliyle önlenemeyen sel, fırtına, deprem ve dolu gibi felaketlere denir."

Yukarıdaki cümlede boş bırakılan yere hangisi yazılmalıdır?

- A) doğal unsur
- B) doğa olayı
- C) doğal afet

2) Doğal afet yaşayan insanlara hangisi yardım eder?



Görseldeki durum hangi doğal afet sonucunda oluşmuştur?






- A) Sel
- B) Deprem
- C) Çiğ

4) En şiddetli ve en yıkıcı olan doğal afet aşağıdakilerden hangisidir?

- A) Çiğ
- B) Deprem
- C) Hortum

5)  Toprak Kayması(Heyelan)
 Elektrik Kesintisi
 Çiğ
 Fırtına-Kasırga

Yukarıdakilerden hangisi veya hangileri doğal afet değildir?

- A) Yalnız 
- B)  ve 
- C)  ve 

6)

Doğal afetlerde kurtarma çalışmalarına katılıyorum.

Yukarıdaki noktalı yere hangisi gelmelidir?



7) Sel ve heyelana karşı aşağıdaki önlemlerden hangisi alınmalıdır?

- A) Binalar sağlam yapılmalı
- B) Araçlara zincir takılmalı
- C) Ağaç dikilmeli

8) Çığ daha çok nerelerde meydana gelir?

- A) Akarsu kenarlarında
- B) Karın çok yağdığı eğimli yerlerde
- C) Ovaların en düz yerlerinde

9) Ülkemizde depremlerin çok sık meydana gelme nedeni aşağıdakilerden hangisidir?

- A) Ülkemizin deprem bölgesinde olması
- B) Binaların depreme dayanıklı olmaması
- C) Yaz ve kış ayları arasında sıcaklık farkının fazla olması

10) Yandaki görsel hangi doğal afet türüne aittir?



- A) Deprem
- B) Çığ
- C) Sel

11) Hangisi doğal afet esnasında Kızılay'ın yaptığı çalışmalardan biri değildir?

- A) Afetzedeler için çadır kurmak
- B) Yaralıları hastaneye taşımak
- C) Yiyecek ve içecek vermek

12) Yandaki görsel hangi doğal afet türüne aittir?



- A) Deprem
- B) Hortum
- C) Sel

13)



Şerife ile Yusufun görseldeki çalışma ile hangisini amaçladıkları söylenemez?

- A) Deprem olmasını önlemek
- B) Toprak kaymasını önlemek
- C) Sel oluşmasını önlemek