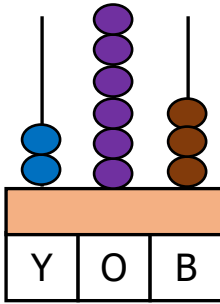


1) Okunuşu "Altı yüz yirmi dokuz" olan doğal sayı aşağıdakilerden hangisidir?

- A) 619 B) 629 C) 609

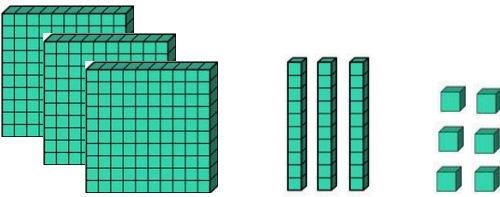
2)



264 sayısı abaküsteeki modellenirken hangi basamağındaki top eksik çizilmiştir?

- A) Birler ba. B) Onlar ba. C) Yüzler ba.

3)



Yukarıda modellenen sayının okunuşu aşağıdakilerden hangisidir?

- A) 336 B) 366 C) 236

4) Onlar basamağı 7, birler basamağı 2, yüzler basamağı 4 olan sayı hangisidir?

- A) 274 B) 724 C) 472

5) Aşağıdaki sayılardan hangisinin okunuşu yanlış verilmiştir?

- A) 401: Dört yüz on bir
B) 313: Üç yüz on üç
C) 510: Beş yüz on

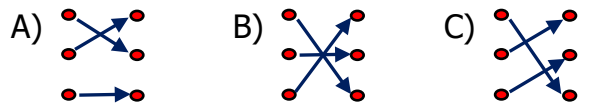
6) Aşağıdakilerden hangisi üç basamaklı en büyük doğal sayıdır?

- A) 998 B) 999 C) 900

7)

647	•	•	Yüz sekiz
108	•	•	Dört yüz yirmi beş
425	•	•	Altı yüz kırk yedi

Yukarıda verilen doğal sayılar ve okunuşları doğru eşleştirildiğinde oklar nasıl görünür?



8) Yandaki sayının okunuşu "Yedi yüz seksen üç" olduğuna göre noktalı yere hangi rakam yazılmalıdır?


7 ... 3

- A) 6 B) 7 C) 8

- 9) Aşağıdaki tabloda verilen rakamlarla yazılan en büyük ve en küçük üç basamaklı sayılardan hangisi doğrudur?

	Rakamlar	Üç Basa – maklı En Büyük Sayı	Üç Basa – maklı En Küçük Sayı
A)	3, 6, 2	632	263
B)	5, 0, 7	750	507
C)	1, 5, 4	451	145

10)






Üç basamaklı bir doğal sayı yukarıdaki şekilde modellenmiştir.

Kareler yüzükleri, üçgenler onlukları gösterdiğine göre bu doğal sayı aşağıdakilerden hangisidir?

- A) 603 B) 630 C) 613

- 11) Hangi öğrencinin söylediği sayı yandaki tahtada yoktur?



- A)  İkiz yüz on dört
- B)  Sekiz yüz üç
- C)  Beş yüz doksan altı

- 12) Aşağıdaki sayılardan hangisi, üç basamaklı doğal sayı değildir?

- A) Yedi yüz on
B) Doksan dokuz
C) Yüz bir

- 13) Aşağıdaki sayılardan hangisinin okunuşu yanlış verilmiştir?

- A) 190 → Yüz doksan
B) 634 → Altı yüz otuz dört
C) 317 → Üç yüz yedi

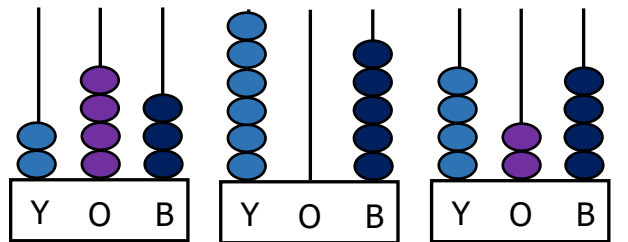
14)



Yukarıdaki sayıları birer kez kullanarak aşağıdaki sayılardan hangisi yazılamaz?

- A) Sekiz yüz otuz altı
B) Üç yüz seksen dört
C) Altı yüz seksen üç

15)



Yukarıda abaküste modellenen sayılardan hangisi aşağıda verilmemiştir?

- A) 425 B) 605 C) 243