

## 5. Sınıf Matematik Doğal Sayılarda Çıkarma İşlemi Testi Çöz

1. Bir satıcı, ocak ayında 1 296 tane beyaz eşya satmıştır. Şubat ayında da 927 tane beyaz eşya satıyor.



**Bu satıcının ocak ayında sattığı beyaz eşya, şubat ayında sattığı beyaz eşya sayısından ne kadar fazladır?**

- A) 269    B) 361    C) 371    D) 369

Cevap :

2.



Filiz

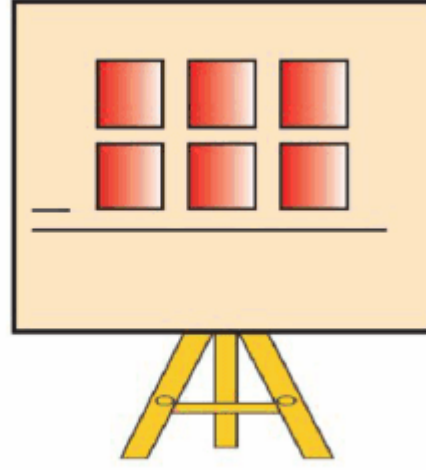
Bir çıkarma işleminde çıkan sayı en büyük yedi basamaklı çift doğal sayıdır. Fark ise altı basamaklı en küçük tek doğal sayıdır.

**Filiz'in belirttiği çıkarma işleminde eksilen kaçtır?**

- A) 10 100 000    B) 10 100 007  
C) 10 099 997    D) 10 099 999

Cevap :

3. 6, 7, 9, 4, 3, 1 rakamları tahtada verilen işlemdeki kutulara yerleştirilerek en küçük fark bulunuyor. Buna göre, fark kaçtır?



- A) 19      B) 22      C) 34      D) 46

Cevap : A

4. Yanda verilen çıkarma işlemine göre,  $a+b+c$  toplamının alabileceği en büyük değer kaçtır?

$$\begin{array}{r} a6b \\ - c76 \\ \hline 685 \end{array}$$

- A) 12      B) 13      C) 15      D) 16

Cevap : A

5.


$$\begin{array}{r} 51C \ 34A \\ - 1D2 \ 5B6 \\ \hline 373 \ 787 \end{array}$$

Yukarıdaki çıkarma işleminde verilmeyen rakamların toplamı kaçtır?

- A) 16      B) 18      C) 21      D) 24

Cevap : B

6.



**Bir çıkarma işleminde eksilen sayı ile çıkan sayının toplamı 3 648, fark 436 ise çıkan sayı kaçtır?**

A) 2 042

B) 1 716

C) 1 606

D) 1 066

Cevap : C

7.

$$\begin{aligned} \square - 378 &= 1\,436 \\ \square + \Delta &= 4\,000 \\ \Delta - \square &= ? \end{aligned}$$

**Yukarıdaki tahtada verilen eşitliklere göre, “?” yerine hangi sayı gelmelidir?**

- A) 2 186                      B) 1 814  
C) 744                         D) 372

Cevap : C

8. Bir mandalina bahçesinden birinci hafta 5 736 kg, ikinci hafta 4 788 kg mandalina toplanıyor.



**Bu mandalina bahçesinden 15 000 kg mandalina toplamak isteyen bir üretici üçüncü hafta kaç kg mandalina toplama-  
lıdır?**

- A) 5 524                      B) 4 564  
C) 4 476                      D) 4 376

Cevap : C

9. İlçemizin nüfusu 7 272 'dir.  
Köyümüzün nüfusu 606 'dır.


**İlçemizin nüfusu, köyümüzün nüfusundan ne kadar fazladır?**



- A) 6 664                      B) 6 666  
C) 6 676                      D) 7 678

Cevap : B

10. Yandaki çıkarma işlemine göre,  $(\star + \square + \bigcirc)$  işleminin sonucu kaçtır?



- A) 7                      B) 9                      C) 11                      D) 15

Cevap : C

11. Turistik bir ilçeye temmuz ayında 6 718 turist, ağustos ayında 4 418 turist geldi.



**Bu ilçeye üç ayda toplam 16 205 turist geldiğine göre, eylül ayında kaç turist gelmiştir?**

A) 5 069

B) 5 096

C) 4 902

D) 4 979

Cevap : A

12. Bir çıkarma işleminde eksilen, çıkan ve farkın toplamı 2 036'dır.

**Bu çıkarma işleminde fark 542 ise çıkan sayı kaçtır?**

A) 1 018

B) 752

C) 518

D) 476

Cevap : A

13. Nur'un annesi 2010 yılında 48 yaşındaydı. **Nur'un annesinin doğum tarihi aşağıdakilerden hangisidir?**

- A) 1942
- B) 1946
- C) 1962
- D) 1968



Cevap : C

14.



Çocuklar, bir çıkarma işleminde fark 103'tür. Bu işlemde eksilen 15 azaltılır, çıkan 15 arttırılırsa yeni fark kaç olur?

**Öğretmenin sorusuna hangi öğrencisi doğru cevap vermiştir?**

A)



73

B)



133

C)



118

D)



88

Cevap : A

15. Yandaki çıkarma işlemine aşağıdakilerden hangisi uygulanırsa fark **değişmez**?

$$\begin{array}{r} 70 \\ - 25 \\ \hline 45 \end{array}$$

- A) Çıkan sayı 5 azaltılırsa
- B) Hem çıkan hem eksilen 5 arttırılırsa
- C) Eksilen 5 azaltılırsa
- D) Çıkan 5 arttırılırsa

Cevap : A

16. Yandaki çıkarma işleminde çıkan sayı kaçtır?

$$\begin{array}{r} 700\ 000 \\ - \dots\dots\dots \\ \hline 436\ 287 \end{array}$$

- A) 363 713
- B) 264 813
- C) 264 723
- D) 263 713

Cevap : A

17. Tahtada verilenlere göre,  $\Delta - \star$  işleminin sonucu kaçtır?

$$\begin{array}{l} \Delta - 437 = 389 \\ 1005 - \star = 525 \end{array}$$

- A) 346
- B) 480
- C) 640
- D) 720

Cevap : A



**18.** Bir çıkarma işleminde çıkan sayı farkın 3 katına eşittir. **Bu çıkarma işleminde fark 475 ise eksilen kaçtır?**

- A) 950    B) 1 425    C) 1 900    D) 2 100

Cevap : C

**19.** Bir bahçede üretilen 12 400 kg meyveden 3 756 kg'ı mandalina, 5 788 kg'ı portakal geri kalanı da nardır.

**Buna göre, bahçede üretilen nar miktarı kaç kg'dır?**

- A) 3 864                      B) 2 856  
C) 2 828                      D) 2 414

Cevap : C

**20.** Yandaki tahtada verilen çıkarma işleminde fark kaçtır?



- A) 116 286  
B) 116 176  
C) 106 286  
D) 106 176

Cevap : B

[Online Test Çöz](#)

[Pdf İndir](#)