

Aşağıdaki işlemlerden hangisi saksılardaki toplam çiçek sayısını verir?




- A) 2×4 B) $4 + 4$ C) 2×2

2) $4+4+4+4+4=?$




Yanda verilen toplama işleminin

çarpma işlemi şeklinde ifade edilişi hangi seçenekte doğru verilmiştir?

- A) $4 \times 4=16$
B) $5 + 4=9$
C) $5 \times 4=20$

3)  $\rightarrow 2 \times 6 = 12$
 $\rightarrow 3 \times 3 = 9$
 $\rightarrow 2 \times 5 = 7$


Yandaki tabloda verilen çarpma işlemlerinden hangisi yanlıştır.

- A) 
B) 
C) 

4) Aşağıdaki çarpma işlemlerinden hangisinin sonucu 8'dir?

- A) $3 \times 2 = \dots\dots$
B) $4 \times 2 = \dots\dots$
C) $3 \times 3 = \dots\dots$

5)



Civcivlerin toplam ayak sayısını bulmak için hangi işlemi yapmalıyız?

- A) $6 + 2 = 8$
B) $2 \times 2 = 4$
C) $2 \times 6 = 12$

6)

$$\begin{array}{r} 6 \rightarrow \dots\dots 1 \\ \times 2 \rightarrow \dots\dots 2 \\ \hline 12 \rightarrow \dots\dots 3 \end{array}$$

Çarpma işlemine ait terimlerin adları hangi seçenekte doğru verilmiştir?

1 2 3

- A) çarpan çarpan çarpım
B) çarpan çarpım çarpan
C) çarpım çarpan çarpan

7)kere....., 14 eder.

Noktalı yerlere gelmesi gereken sayılar hangi seçenekte verilmiştir?

- A) 2-6 B) 2-7 C) 3-4

8)

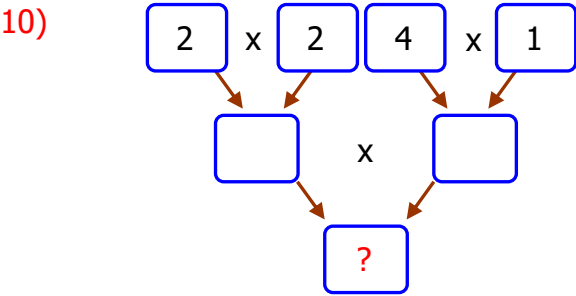
Çarpan: 3
Çarpan: 4
Çarpım: ?

 Yandaki tabloda verilenlere göre çarpım kaçtır?

- A) 12 B) 10 C) 9

9) Her birinde 2 elma olan 6 tabakta toplam kaç elma vardır?

- A) 10 B) 8 C) 12



Soru işareti yerine hangi sayı yazılmalıdır?

- A) 16 B) 14 C) 12

11)

6 x 2	3 x 2	4 x 2	5 x 3
4 x 3	3 x 4	1 x 2	2 x 6

Yukarıdaki çarpma işlemlerinden kaç tanesinin sonucu 10' dan büyüktür?

- A) 4 B) 5 C) 6

12) Aşağıdaki işlemlerden hangisinin sonucu daha büyüktür?

- A) $5 \times 1 =$ B) $7 \times 1 =$ C) $5 \times 0 =$

13) Bir arabada 4 adet lastik vardır. Buna göre 4 tane arabada kaç tane lastik vardır?

- A) 8 B) 20 C) 16

14) Bir kutuda 3 tane kalem olduğuna göre, 6 tane kutuda kaç tane kalem vardır?

- A) 18 B) 9 C) 12

15)

X	6	2	5
2	12	4	A
3	B	6	15
4	C	7	20

 Yanda verilen çarpma işlemlerine göre A,B,C yerine yazılacak sayıların toplamı kaçtır?

- A) 50 B) 42 C) 52