

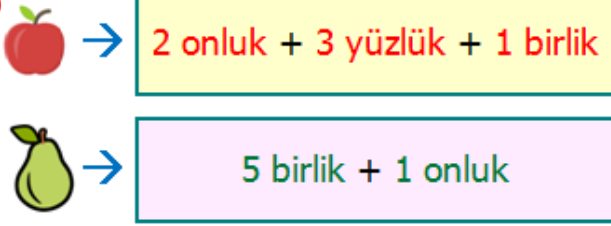
1)





Toplananları aynı olan toplama işlemlerini kısa yoldan yapabilmek için çarpma işlemi yaparız. Buna göre yukarıdaki toplananların **çarpma** olarak doğru yazılışı hangisidir?

- A) 125×125 B) 6×125
C) 4×125 D) 6×625

2)



Yukarıda her sayı **bir meyve** ile eşleştirilmiştir. Buna göre  x  işleminin sonucu kaçtır?

- A) 11 781 B) 3 465
C) 4 815 D) 16 371

3) **538** sayısının yüzler basamağındaki rakamın basamak değeri ile **64** sayısının birler basamağındaki rakamın basamak değeri çarpımının sonucu kaçtır?

- A) 2000 B) 3228
C) 2432 D) 2152

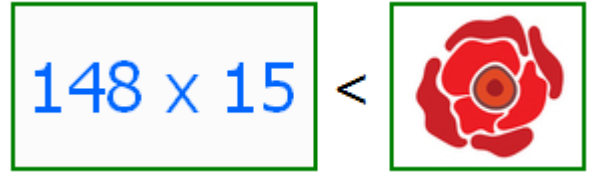
4)

142×13	=	1846
121×15	=	1805
263×20	=	2630
356×12	=	4272

Yukarıdaki **çarpma** işlemlerinden kaç tanesinin sonucu doğrudur?

- A) 4 B) 1
C) 3 D) 2

5)



Yukarıdaki **gül** yerine aşağıdaki sayılardan hangisini yazabiliriz?

- A) 1985 B) 2064
C) 2219 D) 2222

6)



Yukarıdaki rakamlarla oluşturulacak **rakamları farklı üç basamaklı en küçük** sayı ile iki basamaklı en büyük sayının çarpımının sonucu kaçtır?

- A) 24 625 B) 22 375
C) 25 284 D) 24 550

7)

 320₺ X 8 Taksit	 250₺ X 9 Taksit
 240₺ x 10 Taksit	 194₺ x 12 Taksit

Taksitle telefon almayı düşünen **Selim'in** telefon için ödeyebileceği miktar **2300** liradır. Buna göre **Selim** yukarıdaki telefonlardan kaç tanesini alamaz?




- A) 1 B) 2
C) 3 D) 4



Bir kasada **23** kg elma vardır. **57** kasa elma alan bir manav, aldığı elmaların **28** kasasını satmıştır. Buna göre satılmayan kaç kg elma kalmıştır?

- A) 667 kg B) 644 kg
C) 812 kg D) 1596 kg

9)

 165 ₺	 67 ₺	 99 ₺
--	--	--

Yukarıda bazı **giyim** ürünleri ve **fiyatları** verilmiştir. Buna göre **2 mont**, **4 kazak** ve **3 pantolon** alan birinin kaç lira **ödeme** yapması gerekir?

- A) 331 ₺ B) 895 ₺
C) 673 ₺ D) 587 ₺

10)

37×23	=	23×37
15×20	=	30×10
48×12	=	12×48
16×25	=	20×20

Yukarıda verilen **eşitliklerden** kaç tanesi doğrudur?

- A) 1 B) 2
C) 3 D) 4

11)

				
--	---	---	---	---

Yukarıdaki örüntüde verilmeyen sayının **19 katı** aşağıdakilerden hangisidir?

- A) 4617 B) 4655
C) 4636 D) 4674