

1. Sınıf Matematik Doğal Sayılarla Toplama İşlemi Testi Çöz

1. Bir toplama işleminde aşağıdaki işaretlerden hangisi bulunmaz?


A) +


B) -


C) =

Cevap : B

2. Yandaki toplama işleminde boş kutuya hangi sayı yazılmalıdır? $6 + 9 = \dots$


A)  13

B)  14

C)  15

Cevap : C

3. Yandaki zarfın üzerinde yazılı olan sayılar toplanarak zarfın kapağına yazılacaktır.



Buna göre "?" yerine hangi sayı yazılmalıdır?

A) 16

B) 14

C) 13

Cevap : C

4. Hangi işlemin sonucu yanlıştır?

A) $15 + 4 = 19$

B) $8 + 9 = 18$

C) $12 + 8 = 20$

Cevap : B

5. Yandaki bulmacada sayıların yanyana toplamı 15 olduğuna göre "?" yerine hangi sayı gelmelidir?

A) 4

B) 5

C) 6



6	5	?
2	2	11
7	3	5

Cevap : A

6. Hangi işlem ile sonucu yanlış eşleştirilmiştir?

- A) $14 + 6$ → 16
B) $8 + 8$ → 20
C) $4 + 13$ → 18

Cevap : C

7. Bir futbol takımı 11 sporcudan oluşur.

Bir takımın 7 futbolcusu hazır ise bu takımın tamamlanması için kaç sporcuya daha gereksinim vardır?

- A)  3
B)  4
C)  5

Cevap : B

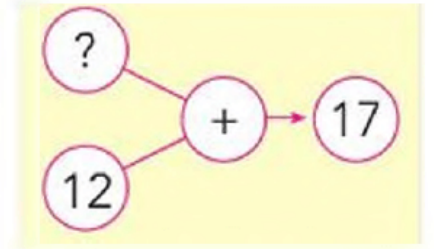
8. $13 + 6 = \dots\dots$ işleminin sonucu ile aynı sonuca sahip olmayan işlem hangisidir?

- A) $12 + 7$ B) $15 + 3$ C) $8 + 11$

Cevap : B

9. "?" yerine hangi sayı yazılmalıdır?

- A) 3
B) 4
C) 5



Cevap : C

10. 7 sayısına kaç eklersek toplam 19 olur?

- A) 11 B) 12 C) 13

Cevap : B

[Online Test Çöz](#)

[Pdf İndir](#)