


1)



Yandaki görselde
hangi doğal
unsurdan
bahsedilmektedir?

- A) Yağmur B) Rüzgar C) Kar

2) Aşağıdakilerden hangisi doğal unsur
değildir?

- A) Dağ B) Köprü C) Kar

3) Canlıların yaşamasını ve tarım yapılmasını
sağlayan doğal unsur aşağıdakilerden
hangisidir?

- A) Dağ
B) Ova
C) Toprak



4) Aşağıdakilerden hangisi yağmur için
alınabilecek önlemlerden birisidir?

- A) Her zamanki kıyafetlerle dışarıya çıkmak
B) Yanımıza şemsiye almak
C) Dere kenarlarında yürümek

5) Dünyanın su ihtiyacını karşılar ve kış
turizmi gelişir.

Yukarıda tanımlanan doğal unsur
aşağıdakilerden hangisidir?

A)



B)



C)



6) Toprak oluşumunu, elektrik üretilmesini ve
bitki tohumlarının yayılmasını sağlayan
doğal unsur aşağıdakilerden hangisidir?


- A) Rüzgar
B) Yağmur
C) Kar

7) Verimli topraklar aşağıdakilerden hangisinin
yakınında bulunur?


- A) Dağlık B) Çöl C) Akarsu

8) Aşağıdaki görsellerden hangisinde hayvancılık yapılabilir?

A)



B)



C)



9) Aşağıdakilerden hangisi bitkiler için zararlıdır?

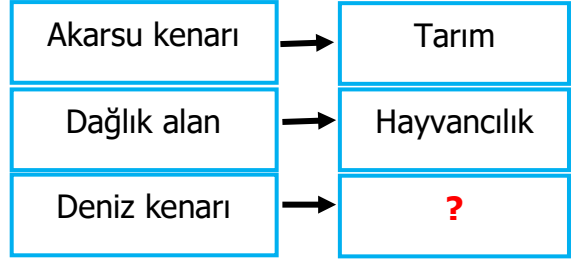
A) Yağmur B) Rüzgar C) Dolu

10) Aşağıdakilerden hangisi dağlık alanda yapılamaz?

A) Hayvancılık B) Balıkçılık

C) Arıcılık

11)



? işareti yerine aşağıdakilerden hangisi getirilmelidir?

A) Arıcılık
B) Ormancılık
C) Balıkçılık

12) Dağlık alanlarda nüfus ve yerleşmenin az olmasının sebebi aşağıdakilerden hangisi olamaz?

A) Dağlık alanlarda tarım yapılamaması
B) Dağlık alanlarda verimli toprakların olması
C) Dağlık alanlara ulaşımın zor olması

13) Yağmurun az olması sebep olur?

Noktalı bölüme aşağıdakilerden hangisi getirilmelidir?

A) Kuraklığa B) Heyelana C) Verime