

### 3. Sınıf Fen Bilimleri Doğal ve Yapay Çevre Testi Çöz

1) Çaço "Çevre Kirliliğinin Canlılara Verdiği Zararlar," konulu bir ödev hazırlamaktadır.

Çaço'nun yaptığı ödevde aşağıdaki görsellerden hangisini koyması daha doğru olur?

A)



B)



C)



Cevap : B

2)

Sayın Tüketici;  
Kâğıt, cam, plastik, teneke  
gibi maddeleri geri dönü-  
şüm kutularına atalım.

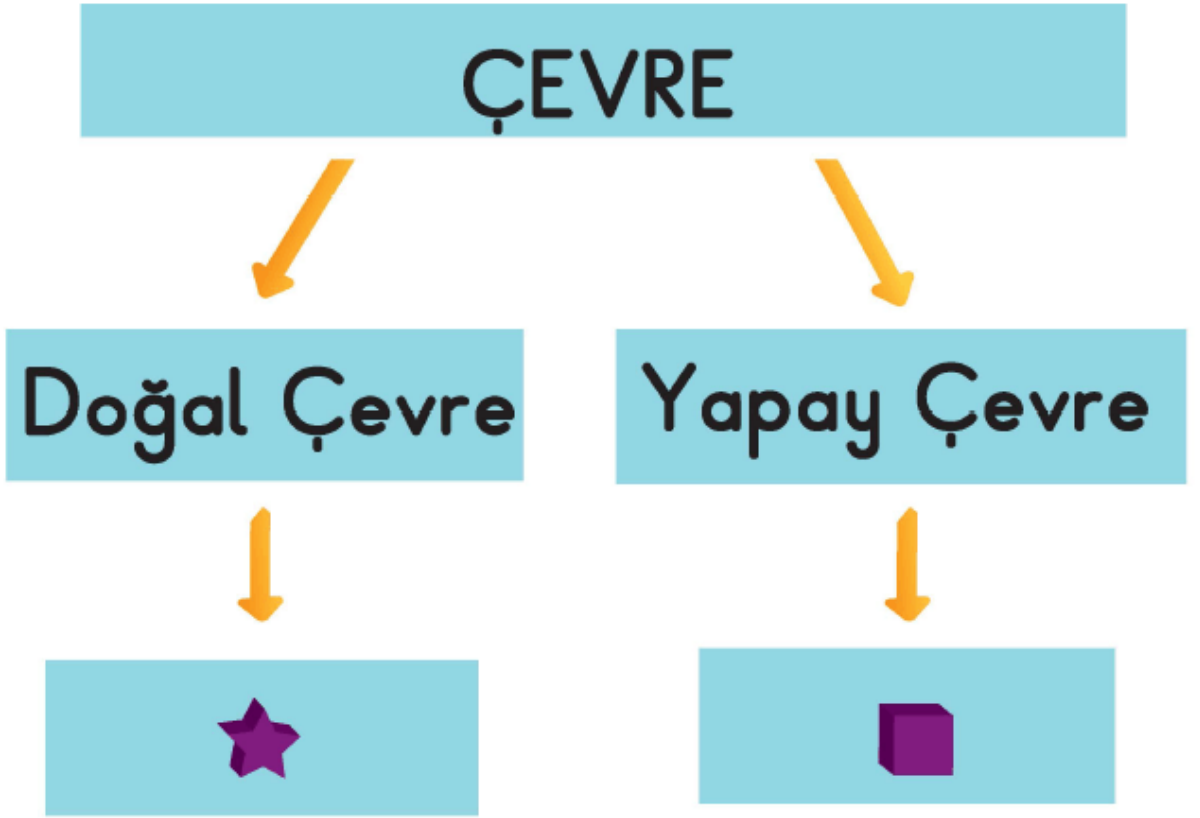




Yukarıdaki uyarı afişi aşağıdakiler-  
den hangisini amaçlamış **olamaz**?


- A) Çevre kirliliğini önlemek
- B) Ormanları ve madenleri korumak
- C) Deprem oluşumunu engellemek

Cevap : C

3)



Kavram haritasındaki  ve  yerine seçenektekilerden hangisi yazılabilir?

-   
\_\_\_\_\_
- A) yol  
B) akarsu  
C) apartman

-   
\_\_\_\_\_
- orman  
çay bahçesi  
gemi

Cevap : B

4)

Çevreyi korumak için

..... Kaynakları tutumlu kullanmalıyız.

..... Çevremize çöp atmamalıyız.

..... Ormanlarda ateş yakmamalıyız.

Yukarıdaki ifadelerden doğru ifadelere D, yanlış ifadelere Y yazarsak sırasıyla hangi harfleri yazmamız gerekir?

A) D-D-Y

B) D-D-D

C) D-Y-Y

Cevap : A

[Online Test Çöz](#)

[Pdf İndir](#)