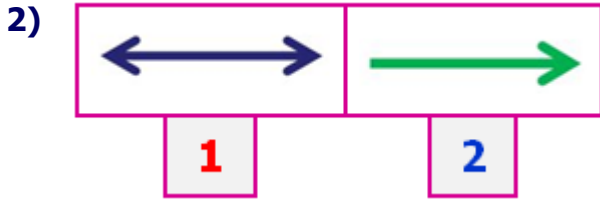


1) Her iki uçtan istenildiği kadar uzatılabilen, başlangıcı ve bitişi olmayan çizgi modellerine ..... denir.


Yukarıdaki tanımda **noktalı alana** aşağıdakilerden hangisi gelmelidir?

- A) ışın B) doğru  
C) doğru parçası



Yukarıdaki **geometrik** gösterimlerle ilgili aşağıdakilerden hangisi **yanlış** değildir?

- A) 2 numaralı model ışın değildir.  
B) 1 numaralı model doğru değildir.  
C) Her ikisi de doğru parçası değildir.



Yukarıdaki varlıklardan kaç tanesi **ışın** modelidir?

- A) 3 B) 2 C) 1

4) 

	Doğrular her iki yönde sınırsız uzarlar.
	Işınlr her iki yönde de uzayamaz.
	Aynı noktadan çıkan iki ışın birleşerek aç oluşturur.

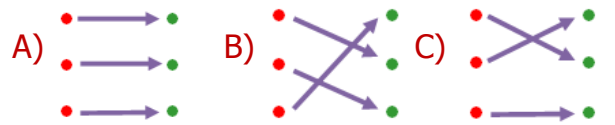
Her biri bir **hayvan** ile eşleşen ifadelerden hangisi doğru değildir?

- A) aslan B) kurbağa C) zürafa

5) 

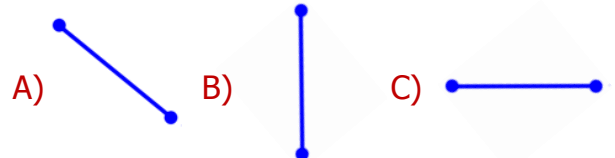
	doğru parçası
	ışın
	doğru

Yukarıdaki modellerle isimleri eşleştirilirse ortaya nasıl bir **görüntü** çıkar?



6) Yatay doğru parçası nasıl çizilir?

Yukarıdaki sorunun doğru cevabı şıklardan **hangisindedir**?



7) **H N E**

Yukarıdaki **harflerden** hangisi hem dikey hem de yatay doğru parçasından oluşmaz?

- A) H      B) E      C) N

8)

Parmaklar arasındaki açıklık açısı oluşturamaz.	
Saatteki akrep ve yelkovan açısı oluşturabilir.	
Karenin dört köşesi olduğu için dört açısı vardır.	

Yukarıdaki cümlelerden doğru olanlara **D**, yanlış olanlara **Y** yazarsak nasıl bir görüntü oluşur?

- A) 

D
D
Y

      B) 

Y
D
D

      C) 

Y
Y
D



Yukarıdaki şekillerden kaç tanesinde **açı** bulunmamaktadır?

- A) 2      B) 1      C) 3

10)

Ayşe: C ve U harflerinin açıları vardır.

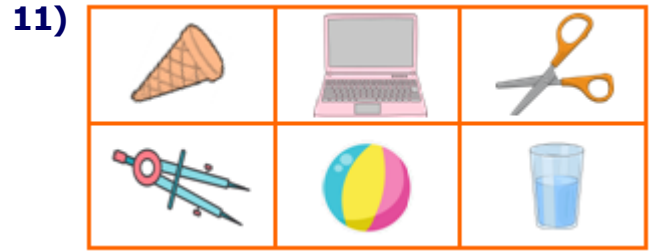
Veli: F ve Z harflerinin açıları yoktur.

Oya: O ve D harflerinin açıları yoktur.

Baki: M ve T harflerinin açıları vardır.

**Açılar** ile ilgili yukarıdaki **kişilerden** hangilerinin ifadeleri doğrudur?

- A) Baki ve Oya  
B) Veli ve Ayşe  
C) Oya ve Veli



Yukarıdaki **cisimlerden**, açı örneği olanları boyarsak nasıl bir görüntü oluşur?

- A) 

■	■	■
■	■	■

      B) 

■	■	■
■	■	■
- C) 

■	■	■
■	■	■

12)

Cami minaresi aşağıdaki modellerden hangisinin **örneğidir**?

- A) yatay      B) ışın      C) doğru