
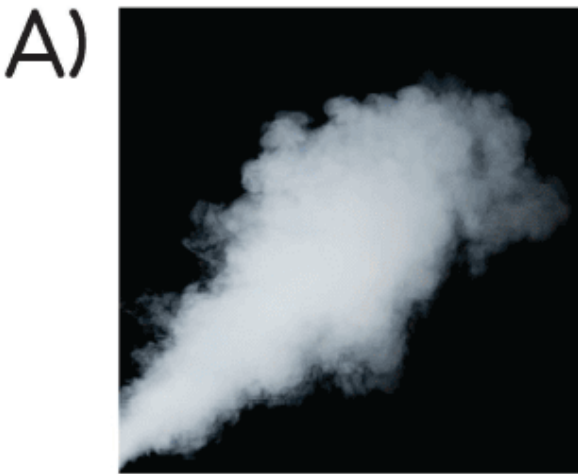


2. Sınıf Hayat Bilgisi Dün Bugün Yarın 4. Testi Çöz

1)



Yukarıdaki ortamda bekletilen bir bardak suyun 5 saat sonraki hâli hangi seçenekte verilmiştir?




C)





Cevap : C

2) Dünya'nın Güneş'e bakan yüzü hakkında aşağıdakilerden hangisi söylenebilir?



A) Gündüzdür.

B) Gecedir.


C) İlkbahardır.

Cevap : A

3)




Gece gökyüzüne bakan birisi aşağıdakilerden hangisini **göremez**?



Cevap : C

4) Aşağıdaki görsellerden hangisi doğada meydana gelen mevsimsel değişikliklerin tümünü anlatmaktadır?

A)



B)



C)



Cevap : A

5)




.....
doğadaki canlı türlerinin yok olmasına sebep olmaktadır.

Yukarıdaki noktalı yere seçeneektekilerden hangisi getirilmelidir?

- A) Depremler
- B) Çevre kirliliği
- C) Yangınlar



Cevap : B

- 6)  Leyleklerin göç etmesi
 Denize yazın girilmesi
 Çok katlı binaların yapılması

Yukarıdakilerden hangileri hava, su ve toprakta meydana gelen mevsimsel deęişimlerle ilgilidir?

A)  

B)  

C)  

Cevap : B

[Online Test Çöz](#)

[Pdf İndir](#)