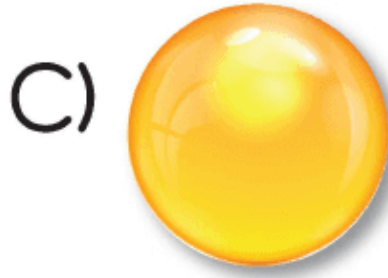
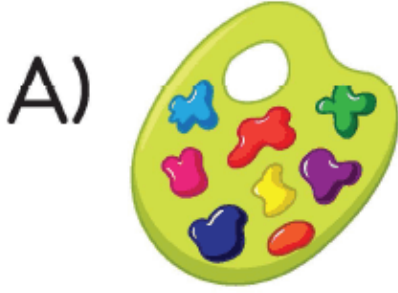



### 3. Sınıf Fen Bilimleri Dünya'mızın Şekli Testi Çöz

1) Uzaydan Dünya'ya bakan bir kişi Dünya'yı hangi görsele benzetir?



Cevap : C

2)



Çaço'nun öğretmeni Dünya'nın içerisinde olan maddeleri bir kiviye benzetmiştir. Bu nedenle 1 numaralı bölgeye çekirdek, 2 numaralı bölgeye yer küre demiştir.

Çoco'nun öğretmeni 3 numaralı bölgeyi aşağıdakilerden hangisine benzetmiş olabilir?

- A) Yer kabuğu                      B) Atmosfer  
C) Uzay

Cevap : A

3)

■ uzay

▲ uzay üssü

● atmosfer

Uzay üssünden uzaya fırlatılacak olan bir uydu sırasıyla hangi aşamaları geçer?

A) ● - ▲ - ■

B) ▲ - ● - ■

C) ▲ - ■ - ●

Cevap : B

4)

Yağmur, kar gibi hava olaylarının gerçekleştiği yerdir.



İçinde tüm canlıların yaşayabilmesi için gerekli olan gazlar mevcuttur.

Yukarıdaki kavram haritasında soru işareti olan yere seçeneklerden hangisi getirilmelidir?

A) Okyanus

B) Kara

C) Atmosfer

Cevap : C

**Online Test Çöz**

**Pdf İndir**