

- 31) Ekonomik değeri olan kayalara ..... denir.



Yukarıdaki ifadede noktalı yere aşağıdakilerden hangisi gelmelidir?

- A) fosil                      B) taş  
C) maden                     D) mineral

- 32) Hülya : Taş küre      Uğur: Ateş küre  
Ercan: Ağır küre      Eda: Hava küre

Öğretmen öğrencilere Dünya'nın görülemeyen veya hissedilemeyen katmanlarını sormuş. Buna göre kimler doğru cevap vermiştir?

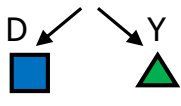
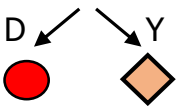
- A) Hülya - Ercan  
B) Ercan - Uğur  
C) Uğur - Eda  
D) Ercan - Eda

- 33) Dünya kendi eksenini etrafında dönmesiyle mevsimler oluşur.

D                      Y

Dünya'nın karanlık yüzü gecedir.

Dünya Güneş çevresinde dolanmasını 1 yılda tamamlar.



Yukarıdaki ifadelerin doğru ve yanlış olmalarını dikkate alarak ilerlersek hangi şekle ulaşırız?

- A) B) C) D)

- 34) Sevda: Güneş Dünya etrafında döner.  
Öner: Dünya'nın günlük hareketi sonucunda gece ve gündüz oluşur.  
Nisa: Ülkemizde Doğu'daki illerde Güneş daha önce doğar.

Yukarıdaki ifadelerin doğruluğu kontrol edildiğinde aşağıdaki sonuçlardan hangisi ortaya çıkar?

	Sevda	Öner	Nisa
A)	Yanlış	Doğru	Doğru
B)	Yanlış	Doğru	Yanlış
C)	Doğru	Doğru	Doğru
D)	Yanlış	Yanlış	Doğru

- 35) mermer – kum – altın – bakır – toprak çakıl – demir – gümüş – bor - taş

Yukarıdakilerden kaç tanesi madendir?

- A) 8                              B) 5  
C) 7                              D) 6

- 36) Aşağıdakilerden hangisi doğrudur?

- A) Dünya önce kendi eksenini etrafında döner, sonra Güneş etrafında dolanır.  
B) Dünya önce Güneş etrafında dolanır, sonra kendi eksenini etrafında döner  
C) Dünya dönme ve dolanma hareketini aynı anda yapar.  
D) Dünya Ay çevresinde dolanır.

37)



Ablamın yaraları çok geç iyileşiyor. Aynı zamanda boyu çok uzamıyor.

Yukarıdaki ifadeye göre ablası hangi besin içeriğini yeteri kadar tüketmiyor olabilir?

- A) yağ                      B) karbonhidrat  
C) su                         D) protein

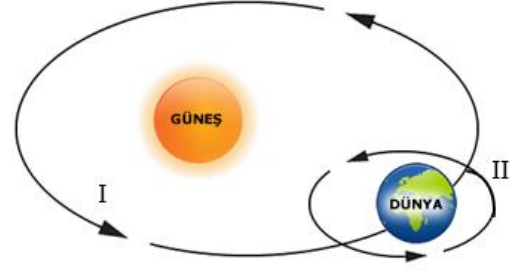
38)



Yukarıdaki besinlerde içerik yönünden aşağıdakilerden hangisi bol miktarda bulunur?

- A) karbonhidrat      B) yağ  
C) mineral             D) protein

39)



- ◇ I numaralı ok Güneş'in Dünya etrafında dolanışını gösterir.  
▣ II numaralı ok Dünya'nın dönme hareketini gösterir.  
△ I numaralı ok Dünya'nın dönme , II numaralı ok dolanma hareketini gösterir.

Yukarıdaki ifadelerden hangisi doğrudur?

- A) ◇ △                      B) Yalnız ▣  
C) Yalnız ◇                 D) △ ▣

40)

Canlı kalıntılarının yıllar içinde taşlaşması sonucu ..... oluşur.

Yukarıdaki ifadede noktalı yere aşağıdakilerden hangisi gelmelidir ?

- A) kaya                      B) fosil  
C) maden                    D) mineral