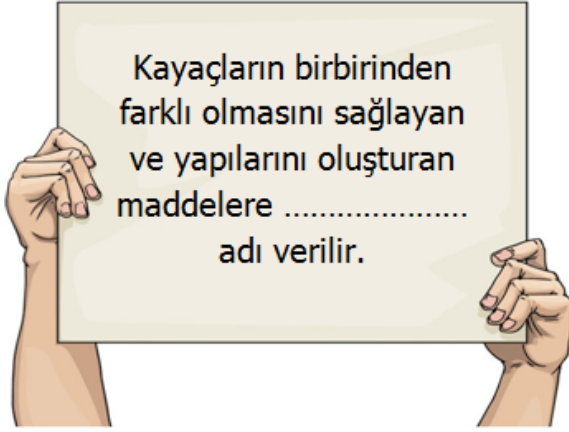


21)



Yukarıdaki açıklamada **noktalı** yere aşağıdaki kelimelerden hangisi gelmelidir?

- A) Çakıl B) Maden  
C) Mineral D) Fosil

22) ★ Ülkemizde en çok bulunan madenlerden biridir.

★ Uzay teknolojisinde, askeri sanayide, tıpta, elektrik sektöründe ve sanayi camlarının üretiminde kullanılmaktadır.

★ Ayrıca bilgisayar teknolojisinde, inşaat sektöründe ve yalıtım amaçlı kullanılan ürünlerin üretiminde kullanılmaktadır.

★ Bu madenin dünya rezervlerinin yüzde 72'si ülkemizde bulunmaktadır.

Yukarıda özellikleri verilen **maden** aşağıdakilerden hangisidir?

- A) Bor B) Altın  
C) Gümüş D) Demir

23)

Canlı bir varlıktan fosile dönüşmek çok kısa sürede olur.	?
Fosillerin çoğu ya ağaçlara ya da ormanda yaşayan hayvanlara aittir.	?
Fosillerin neredeyse tamamı üst üste birikimlerle oluşan kayaçların içinde bulunur.	?

Yukarıdaki cümlelerden doğru olana **D**, yanlış olana **Y** yazarsak nasıl bir görüntü oluşur?

- A) 

D
D
D

 B) 

Y
D
D

 C) 

Y
Y
D

 D) 

Y
Y
Y

24)

Kulak Parçası	Diş	Et
Boynuz	Göz	Kemik

Bir canlının, fosil oluşmayan organlarını boyarsak ortaya nasıl bir **şekil** çıkar?

- A) 

	■	
■		■

 B) 



■		■
	■	

  
C) 

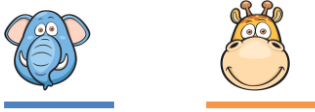
	■	■
	■	

 D) 

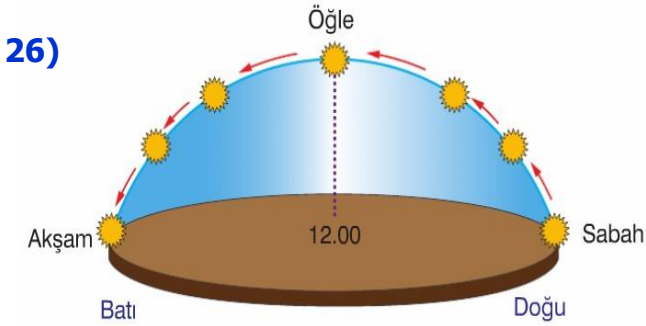
■	■	■

- 25) Dünya'nın kendi eksenini etrafındaki hareketi → 
- Dünya'nın Güneş etrafındaki hareketi → 

Yukarıdaki her cümle bir **hayvan** ile eşleştirilmiştir. Buna göre aşağıdakilerden hangisi doğrudur?



- A) Dönme - Dönme  
B) Dolanma - Dolanma  
C) Dönme - Dolanma  
D) Dolanma - Dönme

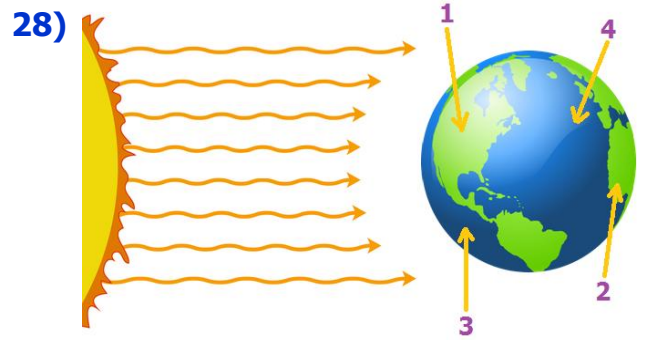


Yukarıdaki fotoğrafa göre Güneş'in gün içinde **farklı** saatlerde, **farklı** yerlerde olmasının sebebi nedir?

- A) Güneş'in kendi etrafında dönmesi  
B) Dünya'nın Güneş etrafında dolanması  
C) Güneş'in Dünya'nın etrafında dolanması  
D) Dünya'nın kendi etrafında dönmesi

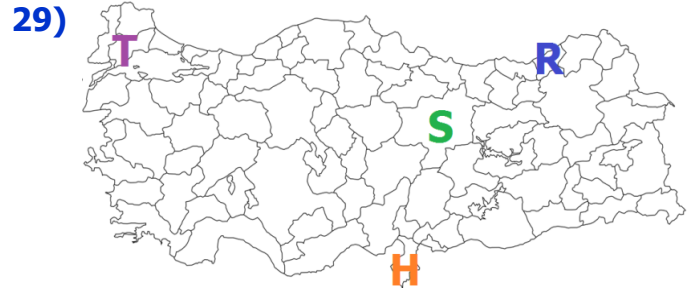
- 27) Dünya, kendi eksenini etrafında **3 tam dönüşünü** ne kadar sürede tamamlar?

- A) 3 gün  
B) 3 yıl  
C) 1 yıl  
D) 1 gün



Yukarıdaki durumda hangi bölgelerde **gündüz** yaşanmaz?

- A) 1 - 3  
B) 2 - 4  
C) 2 - 3  
D) 1 - 4










Yukarıda baş harfleri verilen şehirlerden hangisinde güneş daha **geç** doğar?

- A) Sivas  
B) Hatay  
C) Tekirdağ  
D) Rize



Şekillerle eşleştirilen **zaman** birimlerinden hangileri Dünya'nın Güneş etrafında 1 tam tur atmasıyla oluşur?

- A)  ve   
B)  ve   
C)  ve   
D)  ve 