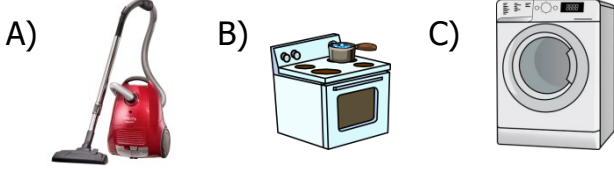


1) Hangi elektrikli aracın kullanım amacı diğerlerinden farklıdır?



2) Otomobil, kamyon, ve uçaklarda elektrik kaynağı olarak kullanılır.

Yukarıdaki boş bırakılan yere aşağıdakilerden hangisi yazılmalıdır?

A) akü B) pil C) batarya

3) ■ Atık pilleri diğer katı atıklarla karıştırılmamalıdır.

▲ Atık piller atık pil kutularına atılmalıdır.

★ Atık piller toprağa gömülmelidir.

Yukarıdaki bilgilerden hangileri doğrudur?

A) ■ ★ B) ■ ▲ C) ▲ ★

4) Elektrikli bir aracı güvenli kullanmak için aşağıdakilerden hangisini yapmamalıyız?

- A) Kullanmadan önce kullanma kılavuzunu okumalıyız.
B) Bozulan elektrikli araç gereçleri uzman kişilere tamir ettirmeliyiz.
C) Çoklu prize başka bir çoklu priz takmalıyız.

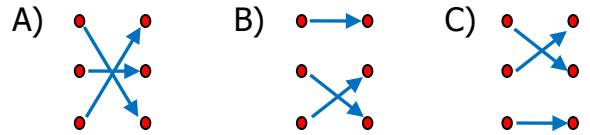
5) Aşağıdakilerden hangisi şehir elektriği ile çalışmaz?




6)

Buzdolabı	•	•	Şehir elektriği
Otobüs	•	•	Batarya
Cep telefonu	•	•	Akü

Yukarıdaki araçlarla kullandıkları elektrik kaynaklarının doğru eşleştirmesi nasıl olmalıdır?



7) Aşağıdakilerden hangisi ısınma amaçlı kullanılmaz?



8) Yandaki elektrikli araç gereç için hangisi yanlıştır?



- A) Şehir elektriği ile çalışır.
B) Yiyecekleri saklamak için kullanılır.
C) Elektrik olmadığında akü ile çalışır.

9) Aşağıdaki davranışlardan hangisi elektrik çarpmasına yol açmaz?

- A) Islak ellerle elektrikli araç gereçlere dokunmak.
- B) Elektrikli araç gereçleri kullandıktan sonra fişini prizden çıkarmak.
- C) Prizlere metal cisimler sokmak.

10)

Elektrikli araçlar	Kullanım amacı
Floresan	Aydınlatma
Buzdolabı	Isıtma
Elektrikli soba	Soğutma
Tranvay	Ulaşım

Yukarıdaki tabloda hangi ifadeler yer değiştirirse tablo doğru olur?

- A) Aydınlatma - Ulaşım
- B) Soğutma - Aydınlatma
- C) Isıtma - Soğutma

11) Pillerle ilgili aşağıdakilerden hangisi yanlıştır?

- A) Atık pilleri yakmalıyız.
- B) Okullarda atık pil kutuları bulundurmamalıyız.
- C) Şarj edilen pilleri kullanmalıyız.

12) Aşağıdakilerden hangisi pil ile çalışır?

- A) Ütü
- B) Duvar saati
- C) Saç kurutma makinesi

- 13) I. Küçük çocukların güvenliği için kapaklı priz kullanmalıyız.
- II. Elektrikli araç gereçler bozulduğunda tamir etmeliyiz.
- III. Elektrik kablolarının halı ya da herhangi bir eşyanın altından geçirmeliyiz.
- IV. Elektrikli araç gereçleri kullanmamız gerektiğinde bir büyükten yardım almalıyız.

Yukarıdaki bilgilerden hangileri doğrudur?

- A) I. ve II
- B) II. ve III
- C) I. ve IV

14)

..... birçok pilin bir araya getirilmesiyle oluşur.

Yukarıdaki boş bırakılan yere aşağıdakilerden hangisi yazılmalıdır?

- A) akü
- B) batarya
- C) şehir elektriği

15) Elektrik çarpan birini görünce hangisini yapmamız doğru olmaz?

- A) 112 Acil Servis'i aramalıyız.
- B) Elektrik çarpan kişiye doğrudan müdahale etmemeliyiz.
- C) Elbisesinden tutup çekmeliyiz.

- 16) I. Buzdolabı
- II. Masa lambası
- III. Su ısıtıcısı
- IV. Fırın
- V. Bulaşık Makinesi
- VI. Ütü

Yukarıdakilerden hangileri mutfakta kullandığımız araç gereçlerdendir?

- A) I. II. III. ve VI
- B) I. III. IV. ve V
- C) II. III. V. ve VI