


21) Aşağıdakilerden hangisi sınıflarımızda yer alan şeref köşesinde bulunmaz?

A)



B)



C)



22) Aşağıdakilerden hangisi sınıf içerisinde uymamız gereken kurallardan biri değildir?

- A) Söz almadan konuşmamalıyız.
- B) Koridorda koşmamalıyız.
- C) Sınıf pencerelerinden sarkmamalıyız.

23) Aşağıdakilerden hangisi bitkisel bir besin değildir?

A)



B)



C)



24) Aşağıdakilerden hangisi kişisel bakım için yapmamız gerekenlerden birisidir?

- A) Tırnak temizliği
- B) Çöplerin, çöp kutusuna atılması
- C) El, yüz ve ayak temizliği

25)



Arkadaşlar benim adım Tekin. Çevremizde bazen ev, iş yerleri ve ormanlarımızda yangın çıkmaktadır.

Çetin'in anlattığı durum ile karşılaştığımızda öncelikle hangi acil durum numarasını aramalıyız?

- A) 1-1-0
- B) 1-1-2
- C) 1-5-5

26) Atatürk ile ilgili verilen bilgilerden hangisi yanlıştır?

- A) Atatürk'ün annesinin adı Zübeyde Hanım'dır.
- B) Atatürk'ün anıt mezarı İstanbul'da yer alan Dolmabahçe Sarayı'ndadır.
- C) Atatürk Selanik'te doğmuştur.

27) Aşağıdaki görsellerin hangisi Dini Bayramlarımızı anlatmaktadır?

A)



B)



C)










- 28) Soğuk havalar azalmaya başlar.
Ağaçlar çiçek açar.
Bu mevsimin ayları Mart-Nisan-Mayıstır.

Yukarıda verilen bilgiler, aşağıdaki hangi mevsimi anlatmaktadır?

- A) Sonbahar
B) Yaz
C) İlkbahar

- 29) Aşağıdaki hayvanlardan hangisi otla beslenmektedir?



- A)  
B)  
C)  

- 30) Aşağıdakilerden hangisinin geri dönüşümü yoktur?

