





- 31)  Dünya tepsi şeklindedir.
İrem
-  Dünya küre şeklindedir.
Gökhan
-  Limana yaklaşan geminin önce yelkenlerini görürüz.
Asya
-  Dünya öküzün boynuzları arasındadır.
Mert

Dünya'nın şekli ile ilgili hangi çocukların verdiği bilgi doğrudur?

- A) İrem – Gökhan B) Asya - Mert
C) Gökhan – Asya D) İrem - Asya

- 32) Kulak Kalp
 Akciğer Deri

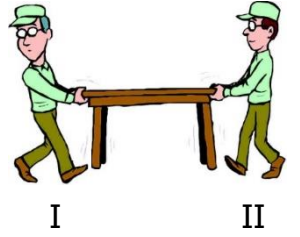
Yukarıdakilerden hangileri duyu organımızdır ?

- A) B)
C) D)

33) Balkondan aşağı bırakılan top aşağıdaki hareketlerden hangisini yapar?

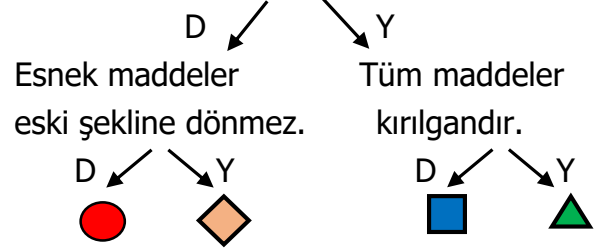
- A) Hızlanma B) Yavaşlama
C) Sallanma D) Yön değiştirme

34) Yandaki resimde masayı taşıyan kişilerin uyguladıkları kuvvet aşağıdakilerden hangileridir?



- | | I | II |
|----|-------|-------|
| A) | itme | itme |
| B) | çekme | itme |
| C) | çekme | çekme |
| D) | itme | çekme |

35) Yumuşak maddelere şekil verilebilir.



Yukarıdaki ifadelerin doğru ve yanlış olmalarını dikkate alarak ilerlersek hangi şekle ulaşırız?

- A)  B)  C)  D) 

36) Laboratuvarda yapılacak çalışmalar sırasında uyulacak kurallar vardır. Buna göre aşağıdakilerden hangisi **yanlıştır**?

- A) Eğlence amacıyla maddeleri birbirine karıştırabiliriz.
B) Deney yapılan yerde yemek yememeliyiz.
C) Deneyden sonra çalıştığımız ortamı temizlemeliyiz.
D) Kullanacağımız maddelerin üzerindeki etiketi okumalıyız.

37) I – Ayran II- Hava III- Pirinç

Yukarıdaki maddelerin halleri aşağıdakilerden hangisinde doğru verilmiştir?

	I	II	III
A)	sıvı	gaz	sıvı
B)	sıvı	katı	katı
C)	sıvı	gaz	katı
D)	gaz	gaz	katı

38) Görme olayının gerçekleşmesi için gereklidir.

Yukarıdaki cümlede noktalı yere aşağıdakilerden hangisi gelmelidir?

- A) Karanlık B) Ses
C) Işık D) Isı

39) Zil 6 Araba 7 Yağmur 8 Davul 9



Benim yaşım doğal ses kaynağında yazan sayıdır.

Umut'un verdiği bilgiye göre Umut kaç yaşındadır?

- A) 7 B) 8
C) 6 D) 9

- 40) Sesin işitilebilmesi şiddetine bağlıdır.
 Ses bir yöne yayılır.
 İnsanlar her sesi duyabilir.

Yukarıdaki ses ile ilgili ifadelerden doğru olanlara "D", yanlış olanlara "Y" yazarsak hangi sonuç ortaya çıkar?

- A)

D
Y
Y

 B)

D
D
Y

 C)

Y
Y
Y

 D)

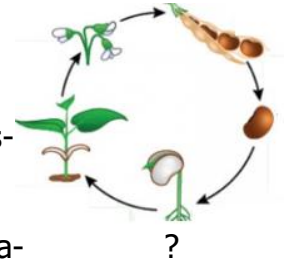
D
Y
D

- 41) Beslenirler
 Yürürler
 Solunum yaparlar
 Tepki verirler

Yukarıdakilerden hangisi canlıların ortak özelliğinden **değildir**?

- A) B)
C) D)

42) Yandaki resimde bir bitkinin yaşam döngüsüne ilişkin aşamaları verilmiştir.



Buna göre "?" yerine aşağıdakilerden hangisi yazılmalıdır?

- A) Tohum B) Çiçek
C) Fidan D) Çimlenme

43) Aşağıdakilerden hangisi geri dönüşümle tekrar kullanılabilen atıklardan **değildir**?

A)



B)



C)



D)



44) Aşağıdakilerden hangisi yapay çevredir?

A)



B)



C)



D)



45) Aşağıdakilerden hangisinin elektrik kaynağı diğerlerinden **farklıdır**?

A)



B)



C)



D)

