

6. Sınıf Sosyal Bilgiler Geçmişten Günümüze Yerleşme Testi Çöz

1.



Filiz

Tarımsal faaliyetlerin başlaması



Suat

İlk köylerin kurulması



Meltem

Madenden eşyalar yapılması



Erol

Yerleşik yaşam düzeninin benimsenmesi

Yukarıdaki öğrencilerden hangisinin verdiği bilgi **Cilalı Taş Devri** ile ilgili değildir?

- A) Suat
- B) Filiz
- C) Meltem
- D) Erol

Cevap : C

2.




Dünyanın en eski yerleşim birimleri arasında gösterilen Konya Çatalhöyük'te yapılan kazılarda kilden yapılmış, ateşle pişirilmiş çanak ve çömleklere, yabani sığır ve geyik başlarına, buğday ve arpa tanelerine rastlanılmıştır.

Öğretmen Vural Bey'in verdiği bilgilere bakarak aşağıdaki yargılardan hangisine ulaşamaz?

- A) Ticari faaliyetlerin geliştiğine
- B) Üretim faaliyetlerinin yapıldığına
- C) Seramik sanatının geliştiğine
- D) Avcılık ve tarımla uğraşıldığına

Cevap : A

3. **Tarih Öncesi Devirlerin özellikleri arasında aşağıdakilerden hangisi yer almaz?**



- A) Tarih Öncesi Devirler bütün toplumlarda aynı anda yaşanmıştır.
- B) İnsanlar avcılık ve toplayıcılık yaparak geçimlerini sağlamışlardır.
- C) Mağara duvarlarına çizilen resimlerle sanatsal faaliyetler başlamıştır.
- D) İnsanların kullandıkları araç ve gereçlere göre adlandırılmıştır.

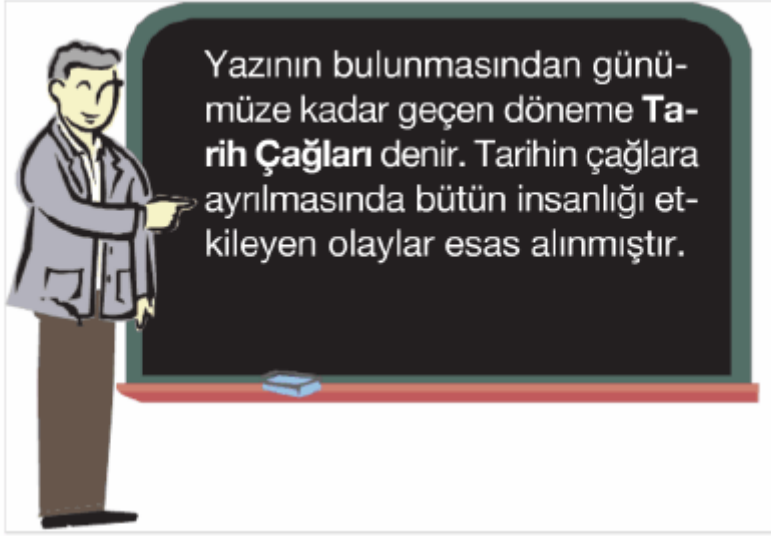
Cevap : A

4. Tarihi olayları öğrenmede ve arařtırmada kolaylık sağlamak amacı ile ařađıdakilerden hangisine başvurulmuřtur?

- A) Tarihin, bugünkü bakıř açısıyla deđerlendirilmesine
- B) Tarihi olayların geçtiđi yerlerin belirtilmesine
- C) Tarihin çağlara ayrılarak incelenmesine
- D) Tarihte deney ve gözlem metoduna yer verilmesine

Cevap : C

5.



Ařađıdakilerden hangisi İlk Çađ'ın sonu Orta Çađ'ın bařlangıcı olarak kabul edilmektedir?

- A) Yazının bulunması
- B) Kavimler göçü
- C) İstanbul'un fethi
- D) Fransız ihtilali

Cevap : B

6.

İlk insanlar Yontma Taş Devri'nin sonlarına doğru ateşi bulmuşlardır.

Aşağıdakilerden hangisi, insanların ateşten yararlanmalarının bir sonucu olarak gösterilebilir?

- A) Göçebe yaşam tarzını benimsemeleri
- B) Kemiklerden kesici aletler yapmaları
- C) Tarım ürünlerinin yetiştirilmesi
- D) Madenleri işlemeleri

Cevap : B

7. Tarih öncesi devirlerde sosyal yaşamı düzenleyen kurallar getirilmiştir.

Bu durum, aşağıdakilerden hangisinin sonucudur?

- A) Madenlerden eşyalar yapılmasının
- B) Yazının kullanılmaya başlanmasının
- C) Toplumsal yaşamın gelişmesinin
- D) Sanatsal faaliyetlerin başlamasının

Cevap : C

8.



Yontma Taş Devri'nde insanlar mağaralarda barınarak, beslenme ihtiyaçlarını hayvanları avlama ve tabiatta hazır bulunan yiyecekleri toplama şeklinde karşılamışlardır.

Bu durum, aşağıdakilerden hangisinin göstergesidir?

- A) Tarımın başlıca geçim kaynağı olduğunun
- B) Toplumlar arasında ticari ilişkilerin geliştiğinin
- C) Üretimde iş bölümünün ortaya çıktığının
- D) İnsanların tüketici bir yaşam biçimine sahip olduklarının

Cevap : C





9. Cilalı Taş Devri'nde insanlar çeşitli tahıllar ekererek tarımsal üretime başladılar. Tarım faaliyetleri yeni araç ve gereç yapımını gerekli hale getirmiştir.

Aşağıdakilerden hangisi, bu dönemde tarımsal üretim amacına yönelik olarak kullanılan araç ve gereçlerden biri değildir?

- A) Tahıl öğütme taşları
- B) Sabanlar
- C) Demir mızraklar
- D) Orak parçaları

Cevap : C

10. Aşağıdaki öğrencilerden hangisinin belirttiği olayın günümüze daha yakın bir zamanı gösterdiği söylenebilir?

- A)  Perslerin Anadolu'daki egemenliği M.Ö 333'te sona ermiştir
- B)  Kadeş Antlaşması M.Ö 1280 yılında yapıldı.
- C)  Lidyalılar M.Ö 687 yılında bağımsız bir devlet kurdular.
- D)  Hititler M.Ö. 2000 yıllarında Anadolu'ya gelmişlerdir.

Cevap : A

11. I. Bakırdan yapılmış kaplar
II. Taş ve kemikten yapılmış silahlar
III. Toprakta yapılmış çanak çömlekler
IV. Demirden yapılmış orak ve sabanlar
Tarih öncesi devirlerin sırasıyla yaşandığı bir bölgede toprağın en alt katında yukarıda verilen eşyalardan hangisine rastlanır?

- A) I B) II C) III D) IV

Cevap : B

12. İnsanlık tarihinde önemli olayların başlangıcı olarak kabul edilen zaman kesitine verilen ad aşağıdakilerden hangisidir?

- A) Milat B) Yüzyıl
C) Çağ D) Takvim

Cevap : C

13.



Cıvalı Taş Devri'nde tarım faaliyetlerinin başlamasıyla insanlar üretici bir toplum yapısına sahip oldular. Zamanla üretilen malların çeşitliliği artmış, insanlar kendi ürettiklerini, başkalarının ürettikleriyle ile değiştirerek ihtiyaçlarını karşılamışlardır.

Öğretmen Turhan Bey'in anlattığı bu durum, aşağıdakilerden hangisine ortam hazırlamıştır?

- A) Köylerin kurulmasına
- B) Göçebe hayatın başlamasına
- C) Tarihi Çağların başlamasına
- D) Ticaretin gelişmesine

Cevap : C

14. Tarih Öncesi Devirlerde şehirler kurulmaya başlandı, şehirler arasında ekonomik ilişkiler zamanla rekabete neden oldu. Daha üstün ve güçlü silaha sahip olan şehirler diğerlerini egemenlikleri altına aldılar. Böylece yönetim tek elde toplandı.

Yönetimin tek elde toplandığı bu devletlere ne ad verilmiştir?

- A) Şehir devleti
- B) Merkezi krallık
- C) İmparatorluk
- D) Demokratik devlet

Cevap : B

15. Aynı devirde Asya'da yaşayan bir toplumun Demir Devri'ne geçtiği halde Avrupa'da yaşayan toplumun Cilalı Taş Devri'ni yaşaması aşağıdakilerden hangisinin göstergesidir?

- A) Asya'da bol miktarda demir madeni bulunduğu
- B) Bütün toplumların tarih öncesi devirlere aynı anda geçtiğinin
- C) Avrupa'da göçebe yaşam tarzının devam ettiğinin
- D) Tarih öncesi devirlerin her bölgede aynı zamanda yaşanmadığının

Cevap : B

[Online Test Çöz](#)

[Pdf İndir](#)